


الجمهورية الجزائرية الديمقراطية الشعبية
وزارة التربية الوطنية

موقع عيون البصائر التعليمي

السنة
1
متوسط

كتابي في العلوم الفيزيائية والتكنولوجيا



ENAG
EDITIONS

elbassair.net

الجمهورية الجزائرية الديمقراطية الشعبية
وزارة التربية الوطنية

كتابي في العلوم الفيزيائية والتكنولوجيا

السنة الأولى من التعليم المتوسط

تأليف :

المهدي بن بتقة / أستاذ بالمدرسة العليا للأساتذة، القبة
مختار بلعزیز / مفتش بيداغوجي مركزي
مليكة آيت أودية / أستاذة التعليم الثانوي
خليفة حباني / أستاذ التعليم الثانوي

بمساهمة :

امحمد طراري / مفتش تربية وطنية سابق في التصحيح العلمي
طويل حاج / مفتش تربية وطنية
في إعداد المشاريع التكنولوجية

تركيب الكتاب :

عرفة أمير / محمد زاوي

موقف للنشر

موقع عيون البطائر التعليمي

elbassair.net

الطبعة الثانية

كتاب مدرسي معتمد من طرف وزارة التربية الوطنية تحت الرقم (435 / م.ع / 16)

01 17 05 /16

ردمك : 4 - 893 - 00 - 9931 - 978

© موفم للنشر - السداسي 1، الجزائر 2017

تقديم

أيها التلاميذ الأعزاء، يسعدنا أن نقدم لكم هذا الكتاب الموجه للسنة الأولى من مرحلة التعليم المتوسط، الذي يمثل دعامة من دعائم الجيل الثاني لمنهج العلوم الفيزيائية والتكنولوجية، حيث يُسهّل عليكم فهم العلوم الفيزيائية وتطبيقاتها التقنية والتكنولوجية في الحياة العملية. ولقد سبق لكم أن درستُم بعض المفاهيم في مرحلة التعليم الابتدائي، فهذا الكتاب يسمح لكم من تذكّر هذه المفاهيم كما يُمكنكم من دراسة ظواهر فيزيائية وكيميائية أخرى تسمح لكم باكتشاف مفاهيم جديدة.

إن هذا الكتاب يدرّبكم ويعلمكم حل بعض المشكلات في الصف وخارجه بالاعتماد على المسعى العلمي المبني على الملاحظة والتقصي وطرح الفرضيات والتجريب والتفسير والاستنتاج ويسمح لكم باكتساب عناصر الثقافة العلمية الضرورية في حياتكم اليومية، والأهم من ذلك أنه يمكنكم من ممارسة مهام المواطنة في إطار العمل الجماعي التعاوني مع زملائكم وأستاذكم ومحيطكم بروح التفاوض والإقناع وتقبل الرأي الآخر.

ستعرفون من خلال هذا الكتاب، أن العلوم الفيزيائية ليست للعلم والبحث فقط و أنها ليست موجهة للعمل في المخبر، بل هي لكل ما يحدث من حولكم في الحياة اليومية، ولذلك، فإننا نشجعكم على القيام بنشاطات متنوعة وبوسائل بسيطة، في الدرس أو في الأعمال المخبرية أو في المنزل.

ستجدون أيضا في نشاطات الكتاب أمثلة لها علاقة بحماية البيئة وبالأخطار في الطبيعة. يتطرق الكتاب إلى ثلاثة ميادين:

● **ميدان المادة وتحولاتها** الذي يتناول بعض القياسات المتعلقة بالطول والحجم والكتلة، حالات المادة وتغيراتها، الماء والمحاليل المائية.

● **ميدان الظواهر الكهربائية** الذي يتناول الدارة الكهربائية وبعض تطبيقاتها في الحياة اليومية مع التطرق إلى الجانب الأمني في الكهرباء.

● **ميدان الظواهر الضوئية و الفلكية** الذي يتناول بعض المفاهيم الأساسية في الضوء والفلك بالإضافة إلى جزء خاص بالطاقة الشمسية.

كما يقترح عليكم إنجاز مشروع تكنولوجي عند نهاية دراسة كل ميدان، يسمح لكم بتوظيف تعلماتكم وإبراز كفاءتكم وتمييزها.

نأمل أن يجد أساتذتنا الكرام في هذا الكتاب سندا إضافيا لمكتبهم، يساعدهم على تنفيذ المنهج الدراسي .

الفهرس

المادة وتحولاتها

- 10..... 1 بعض القياسات
24..... 2 حالات المادة وتغيراتها
38..... 3 الخلائط
44..... 4 الماء النقي
50..... 5 المحلول المائي



الظواهر الكهربائية

- 66..... 6 الدارة الكهربائية
76..... 7 تركيب الدارات الكهربائية
82..... 8 الدارة الكهربائية ذهاب - إياب
90..... 9 الدارة المستقصرة وكيفية تجنبها





الظواهر الضوئية والفلكية

- 108..... 10 الظواهر الضوئية
126..... 11 الظواهر الفلكية
142..... 12 الشمس مصدر للطاقة



الدخول في الميدان
وثائق وأسئلة للتساؤل حول
الميدان ووضعية مشكلة
للدراصة



أحتفظ بالأهم
ملخص عن المعطيات العلمية
والمفاهيم التي يجب أن تستوعبها
وتستحضرها في وضعيات مناسبة.

النشاطات
تجارب ووثائق المساعدة على
اكتساب المعارف وتنمية كفاءاتك
وامتداد للنشاطات باستعمال TIC

التمارين
- أختبر معارفي: للتأكد من
استيعاب الأهم.
- أطبق معارفي: لتطبيق المعارف
المكتسبة.
- أوظف معارفي: لتنمية كفاءاتك
بالتعامل مع الصعوبة



الميدان الأول

الجزء الثاني من الامتحان

1- بعض البيانات

2- بعض البيانات

3- بعض البيانات

4- بعض البيانات

5- بعض البيانات

6- بعض البيانات

7- بعض البيانات

8- بعض البيانات

9- بعض البيانات

10- بعض البيانات

11- بعض البيانات

12- بعض البيانات

13- بعض البيانات

14- بعض البيانات

15- بعض البيانات

16- بعض البيانات

17- بعض البيانات

18- بعض البيانات

19- بعض البيانات

20- بعض البيانات

21- بعض البيانات

22- بعض البيانات

23- بعض البيانات

24- بعض البيانات

25- بعض البيانات

26- بعض البيانات

27- بعض البيانات

28- بعض البيانات

29- بعض البيانات

30- بعض البيانات

31- بعض البيانات

32- بعض البيانات

33- بعض البيانات

34- بعض البيانات

35- بعض البيانات

36- بعض البيانات

37- بعض البيانات

38- بعض البيانات

39- بعض البيانات

40- بعض البيانات

41- بعض البيانات

42- بعض البيانات

43- بعض البيانات

44- بعض البيانات

45- بعض البيانات

46- بعض البيانات


47- بعض البيانات

48- بعض البيانات

49- بعض البيانات

50- بعض البيانات

حلول التمارين
أجوبة مفرحة لبعض التمارين لمساعدتك على التقويم الذاتي.



المشروع التكنولوجي
تتعلم كيفية إنجاز مشروع تكنولوجي باحترام خطواته مع توظيف ما اكتسبته من مهارات ميدان

الميدان الثاني

المشروع التكنولوجي

تكنولوجيا إضاءة

مشروع تكنولوجي

1- بعض البيانات

2- بعض البيانات

3- بعض البيانات

4- بعض البيانات

5- بعض البيانات

6- بعض البيانات

7- بعض البيانات

8- بعض البيانات

9- بعض البيانات

10- بعض البيانات

11- بعض البيانات

12- بعض البيانات

13- بعض البيانات

14- بعض البيانات

15- بعض البيانات

16- بعض البيانات

17- بعض البيانات

18- بعض البيانات

19- بعض البيانات

20- بعض البيانات

21- بعض البيانات

22- بعض البيانات

23- بعض البيانات

24- بعض البيانات

25- بعض البيانات

26- بعض البيانات

27- بعض البيانات

28- بعض البيانات

29- بعض البيانات

30- بعض البيانات

31- بعض البيانات

32- بعض البيانات

33- بعض البيانات

34- بعض البيانات

35- بعض البيانات

36- بعض البيانات

37- بعض البيانات

38- بعض البيانات

39- بعض البيانات

40- بعض البيانات

41- بعض البيانات

42- بعض البيانات

43- بعض البيانات

44- بعض البيانات

45- بعض البيانات

46- بعض البيانات

47- بعض البيانات

48- بعض البيانات

49- بعض البيانات

50- بعض البيانات

الميدان الثالث

المشروع التكنولوجي

تكنولوجيا إضاءة

مشروع تكنولوجي

1- بعض البيانات

2- بعض البيانات

3- بعض البيانات

4- بعض البيانات

5- بعض البيانات

6- بعض البيانات

7- بعض البيانات

8- بعض البيانات

9- بعض البيانات

10- بعض البيانات

11- بعض البيانات

12- بعض البيانات

13- بعض البيانات

14- بعض البيانات

15- بعض البيانات

16- بعض البيانات

17- بعض البيانات

18- بعض البيانات

19- بعض البيانات

20- بعض البيانات

21- بعض البيانات

22- بعض البيانات

23- بعض البيانات

24- بعض البيانات

25- بعض البيانات

26- بعض البيانات

27- بعض البيانات

28- بعض البيانات

29- بعض البيانات

30- بعض البيانات

31- بعض البيانات

32- بعض البيانات

33- بعض البيانات

34- بعض البيانات

35- بعض البيانات

36- بعض البيانات

37- بعض البيانات

38- بعض البيانات

39- بعض البيانات

40- بعض البيانات

41- بعض البيانات

42- بعض البيانات

43- بعض البيانات

44- بعض البيانات

45- بعض البيانات

46- بعض البيانات

47- بعض البيانات

48- بعض البيانات

49- بعض البيانات


50- بعض البيانات

البطاقة التراثية
وثائق لاكتشاف العلاقة مع المواد الأخرى وتطبيقات العلوم الفيزيائية والتكنولوجيا في الحياة اليومية، تتمتع فرصا للبحث والتعمق من أجل التوسّع في المعارف.

الميدان الأول المادة و تعوراتها




تختلف أجهزة القياس بحسب المقدار المقاس، هل تتأثر قيمة القياس باختلاف أجهزة القياس؟ و كيف يمكن الكشف عن الغش في القياس في حياتنا اليومية؟



يظهر الماء في الصورة في حالاته الثلاث، السائلة، الصلبة والغازية . هل كل المواد تمر بهذه الحالات؟ وكيف للمادة أن تتغير من حالة إلى أخرى؟



المحاليل عديدة ومتنوعة ويمكن أن تكون متجانسة أو غير متجانسة، شفافة أو ملونة، مالحة أو حلوة، صالحة للشرب أو لا . كيف نميز بين المحاليل ومتى نقول أنها مائية؟



من السهل فتح الحنفية واستهلاك الماء لأغراض عدة ، يصحبها أحيانا نوع من التبذير. لكن من الصعب توصيل هذه المادة الحيوية إلى الحنفية صالحة للشرب والاستعمال . ما هي المراحل التي يمر بها الماء لكي يصبح شروبيا؟

وضعية للدراسة، يمكن معالجتها كاملة بعد الانتهاء من دراسة ميدان المادة وتحولاتها

بمناسبة نجاح سارة في امتحان نهاية الدراسة الابتدائية،
أهدتها أمها سوارا من فضة اشترته من معرض للمنتوجات
التقليدية ببني يني، وعند معاينته من طرف ابنة عمته
شككت في جودته؛ إذ يُحتمل أن يكون مغشوشا.
حاول أن تساعد سارة على الوصول إلى الحقيقة.

- كيف يمكن تحديد حجم السوار؟
- هل يمكن أن نميز مادة عن مادة أخرى؟ كيف ذلك؟

• كيف يمكن الوصول إلى الحقيقة؟



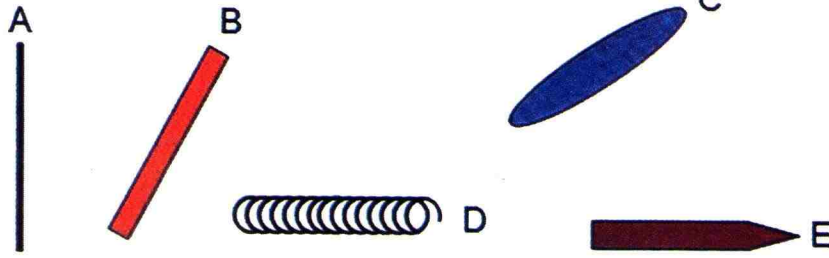
بعض
القياسات 1

1- قياس الأطوال - وحدات الطول

نشاط 1 كيف أقيس طول جسم؟

تمعن في الوثيقة

• لاحظ الوثيقة (1):



أشكال مختلفة

وثيقة 1

- برأيك، هل الأشكال A، B، C، D، و E لها نفس الطول؟
- كيف يمكنك التأكد من إجابتك؟
- قم بالعملية نفسها لتحديد أبعاد كتابك، ممحاتك، قلمك وكراسك
- إذا أردت قياس طول الحجرة التي تدرس بها، ما هي الأدوات والطرائق المناسبة لذلك؟

استنتج

- ما هي العملية التي يجب أن تقوم بها لمعرفة طول جسم ما؟
- اذكر أدوات القياس من أجل قياس أبعاد أجسام مختلفة

نشاط 2 هل تقاس كل الأطوال بنفس الوحدة؟


تمعن

توجد حولك أجسام مختلفة بأبعاد متفاوتة، برأيك :

- بماذا تقدر المسافات بين المدن؟
- بماذا تقدر أبعاد ساحة مدرستك؟
- بماذا تقدر أطوال الكتب؟
- بماذا تقدر سمك ورقة كراسك؟

استنتج

- هل تقدر كل الأبعاد بالوحدة نفسها؟
- هل يتم قياس الأبعاد دائما بالوحدة نفسها؟





وثيقة 2 أدوات مختلفة

2- القدم القنوية

1 نشاط كيف أقيس أبعادا خاصة؟

جرب

- الوسائل المستعملة:** قارورات مختلفة الحجم، قرص مضغوط (CD)، مسطرة، ممحاة. (الوثيقة 2)
- قس أبعاد الممحاة بواسطة المسطرة
 - حاول أن تقيس قطر الأسطوانة بنفس الأداة، ماذا تلاحظ؟
 - حاول أن تقيس قطر القارورة لعدة أجزاء منها، ماذا تلاحظ؟
 - هل تستطيع قياس القطر على مستوى عنقها بواسطة المسطرة؟ لماذا؟

- هل يمكنك قياس عمقها بواسطة المسطرة؟ لماذا؟

استنتج

- هل يمكن استعمال المسطرة لقياس الأطوال في كل الحالات؟
- ماذا نفع في حالة عجزنا على استعمال المسطرة؟

2 نشاط القدم القنوية

جرب ولاحظ

- الوسائل المستعملة:** قارورات مختلفة الحجم، اسطوانات، مسطرات، ممحاة، القدم القنوية.



القدم القنوية وثيقة 3

بعد اطلاعك على البطاقة المنهجية صفحة 164 حول استعمال القدم القنوية:

- استعمال القدم القنوية لتقيس أبعاد الممحاة، ما ملاحظتك على القيمة المتحصل عليها؟
- قس كلا من عمق وقطر القارورة ولأجزاء مختلفة منها، ماذا تلاحظ؟

فسر

- هل سمحت القدم القنوية بقياس مختلف الأبعاد الخاصة بالأجسام المستعملة في التجربة؟

استنتج

- ما هي ميزات القدم القنوية؟

3- تعيين الحجم

نشاط 1 كيف أقيس حجم سائل؟



وثيقة 4 مخبار وأوانٍ مدرجة

جرّب ولاحظ

الوسائل المستعملة: مخبار مدرّج، بيشر مدرّج، ماء،

سوائل أخرى إن توفّرت (الوثيقة 4)

– خذ مخبارا مدرّجا واسكب فيه ماء دون ملئه، وتمعن في التدرجات الموجودة في المخبار وفي الوحدة المستعملة. لاحظ شكل سطح الماء.

• إلى أي مستوى يصل السطح الحر للماء؟ اقرأ حجم الماء المسكوب.

• برأيك، كيف يجب أن ننظر لسطح السائل لتكون القراءة صحيحة؟

استنتج

• هل يمكن لسطح الماء أن يأخذ شكلا مخالفا للذي لاحظته في التجربة؟

• كيف يمكن قياس حجم سائل بصفة عامة، ملون أو لا؟

نشاط 2 كيف تحسب حجم جسم صلب منتظم الشكل؟

الوسائل المستعملة: أجسام ذات أشكال منتظمة (مكعبات، متوازي المستطيلات، أسطوانات) (الوثيقة 5)



وثيقة 5 أجسام بأشكال هندسية منتظمة

جرّب ولاحظ

إذا علمت أن حجم جسم مكعب الشكل وضلعه a يعطى بالعلاقة: $V = axaxa$ وأن حجم متوازي المستطيلات يعطى بالعلاقة: $V = L \times \ell \times h$ حيث: L طول ℓ وعرضه h وارتفاعه h


• أحسب حجم كل من الشكلين بعد قياس أبعادهما.

• ما هي وحدة الحجم التي تعبر بها عن النتيجة المتحصل عليها؟

• ابحث لتحسب حجوم أشكال هندسية أخرى (اسطوانة، كرة، الخ ...)

استنتج

• ما هي الوحدات الأخرى الممكنة للتعبير عن الحجم؟



وثيقة 6 زجاجيات لقياس الحجم

نشاط 3 تعيين حجم جسم صلب ذي شكل كفي

الوسائل المستعملة: حبات من الخضروات أو الفواكه (صغيرة الحجم حتى تدخل في زجاجة القياس)، حجر صغير، مخبر وبيشر مدرّجان (الوثيقة 6)، بعض الاجسام ذات الأشكال المنتظمة.

جرب ولاحظ

- هل يمكنك تحديد حجم البطاطا بالحساب؟ لماذا؟
- ماذا تقترح لتحديد هذا الحجم؟
- خذ البيشر (أو المخبر) المدرج واسكب فيه كمية معلومة من الماء.
- ضع المكعب، الذي حسبته حجمه سابقا، في البيشر المدرج والذي يحتوي على ماء.
- ماذا تلاحظ؟ اقرأ حجمه.
- ضع الآن حبة البطاطا أو الحجر في البيشر (أو المخبر). ماذا تلاحظ؟



استنتج

- كيف يمكنك إذا تحديد حجم المكعب دون حساب؟
- كيف يمكنك قياس حجوم الأجسام ذات الأشكال الكيفية؟

4- قياس الكتلة - وحداتها

نشاط 1 هل يمكن تحديد كتلة جسم دون قياس؟

تمعن في الوثيقة



وثيقة 7 رمل وسكر وكريات حديدية

- إليك الأجسام المبيّنة في (الوثيقة 7)
- هل يمكنك تحديد كتل هذه الأجسام بدون جهاز؟
- هل يمكنك ترتيبها حسب كتلتها المتصاعدة، إذا اعتبرنا أن الأجسام لها الحجم نفسه؟

استنتج

- ماذا تحتاج من أجل الإجابة عن السؤالين السابقين؟

نشاط 2 وزن الأجسام



جرّب ولاحظ

خذ أجساما مختلفة
(مثل مسحوق السكر، خاتم، حبات ليمون)
وموازين مختلفة (الوثيقة 8)




وثيقة 8 أنواع مختلفة من الموازين

استعمل الميزان المناسب لتحديد كتلة الجسم
• ما هي وحدة الكتلة التي تعبّر عن المقدار المقاس في كل حالة؟

فسّر

- هل تعبّر عن كتلة كل الأجسام بالوحدة نفسها؟
- هل تعرف وحدات أخرى للكتلة؟
- هل لكل الموازين الدقة نفسها (أقل كتلة يمكن قياسها)؟



استنتج

- ماذا تمثل كتلة الجسم؟
- كيف يمكن تحديد الكتلة؟
- ما هي وحدة الكتلة في الجملة الدولية للوحدات؟

استعمال TIC

• امتدادا لنشاطات قياس الأطوال والكتلة باستعمال تكنولوجيا الإعلام والاتصال:

قم بزيارة الموقع الإلكتروني التالي للتمرّن على قياس الأطوال والكتل:


www.mathematiquesfaciles.com

5- الكتلة الحجمية - وحدتها

نشاط 1 تعيين الكتلة الحجمية لجسم صلب

جرّب ولاحظ

الوسائل المستعملة: أجسام معدنية بالحجم نفسه ومن معادن ومواد مختلفة (حسب الوفرة)، ميزان، القدم القنوية (الوثيقة 9)



وثيقة 9 أسطوانات متماثلة في الحجم من مواد مختلفة

خذ القدم القنوية وقس أبعاد هذه الأسطوانات واحسب حجمها وحدد كتلة كل أسطوانة بواسطة الميزان.

فسّر

- كيف تفسّر الفرق بين قيم كتل الأسطوانات؟
- اكتب في الجدول النتائج المتحصل عليها فيما يخص الكتل والحجوم، ثم أكمل الجدول بحساب حاصل القسمة بين الكتلة والحجم.

5	4	3	2	1	الاسطوان
					الحجم $V(\text{cm}^3)$
					الكتلة $m(\text{g})$
					$\frac{\text{الكتلة}}{\text{الحجم}}$

استنتج

- هل الكتل متساوية؟
- هل الحجوم متساوية وهل النسب المحسوبة متساوية؟ ما هي وحدة هذه النسبة؟



وثيقة 10 أدوات ومواد التجربة

نشاط 2 تعيين الكتلة الحجمية لجسم سائل

جرّب ولاحظ

الوسائل والمواد المستعملة: ماء، زيت، كحول، حليب، عصير، مخبر مدرج، ميزان (الوثيقة 10).

تجربة

– زن المخبر وهو فارغ ضع فيه 20cm^3 من أحد السوائل التي بحوزتك، ثم زن المخبر من جديد . حدّد كتلة السائل الأول .
قم بنفس الخطوات مع السوائل الأخرى .
– ضع النتائج المتحصل عليها في جدول كما يلي :

السائل	1	2	3	4	5
الحجم $V(\text{cm}^3)$	20	20	20	20	20
الكتلة $m(\text{g})$					
$\frac{\text{الكتلة}}{\text{الحجم}}$					

فسر

- هل كتل السوائل متساوية؟
- هل النسب بين الكتل والحجوم متساوية؟

استنتج

- هل الكتلة الحجمية تمثل مقدارا مميزا لكل مادة مكوّنة لسائل؟

6 – كثافة الجسم الصلب والسائل بالنسبة للماء

نشاط 1 كيف أحسب كثافة مادة صلبة بالنسبة للماء؟



وثيقة 11 أدوات ومواد التجربة

جرّب ولاحظ

الوسائل المستعملة: ماء، بيشر، ميزان، مسطرة، مكعب من البلاستيك، مكعب من حديد أو من معدن آخر (الوثيقة 11).
قم بوزن المكعبين .

قس حجميهما بإحدى الطريقتين المدرستين سابقا . أسكب الماء في البيشر حتى نصف سعته ثم أدخل فيه القطعة البلاستيكية .
• ماذا تلاحظ؟

أخرج القطعة البلاستيكية، ثم بلطف أدخل القطعة الحديدية، ماذا تلاحظ؟

فسر

- ما قيمة الكتلة الحجمية للبلاستيك المستعمل؟
- ما قيمة الكتلة الحجمية للمعدن المستعمل؟
- أحسب النسبة بين كتلة القطعة البلاستيكية وكتلة حجم من الماء مساوٍ لحجم القطعة، ماذا تلاحظ؟
- كرر نفس الحساب بالنسبة للحديد، ماذا تلاحظ؟

استنتج

- ما هو الشرط اللازم حتى يطفو جسم فوق الماء؟
- ما هو الشرط حتى يغرق جسم في الماء؟
- كيف نسمي النسبة بين الكتلة الحجمية لمادة والكتلة الحجمية للماء؟

نشاط 2 أعين كثافة جسم سائل بالنسبة للماء

جرّب ولاحظ



وثيقة 12 وسائل ومواد التجربة

الوسائل والمواد المستعملة: ماء، زيت، بياشير، مخبار مدرّج، ميزان (الوثيقة 12) قم بقياس حجم من الماء ثم زنه قم بقياس حجم من الزيت ثم زنها.

فسر

- أحسب الكتلتين الحجميتين للمادتين السائلتين، هل هما متساويتان؟
- أحسب النسبة بين الكتلة الحجمية للزيت والكتلة الحجمية للماء.

استنتج

- نسمي النسبة المحسوبة سابقا بكثافة السائل بالنسبة للماء، ما هو الشرط اللازم حتى يطفو سائل فوق الماء؟
- إذا استبدلنا الماء بسائل آخر، ما شرط طفو الزيت فوق السائل الجديد؟



قياس كثافة سائل باستعمال مقياس إلكتروني

استعمال TIC

- امتدادا لنشاطات قياس الكتلة الحجمية والكثافة باستعمال تكنولوجيا الإعلام والاتصال:
 - تعرف على الكتل الحجمية والكثافات الموافقة لبعض المواد كثيرة الاستعمال في الحياة اليومية، منها المعادن والزيوت
- www.fr.wikihow.com/trouver-une-masse-volumique

7 تعيين درجة الحرارة

نشاط

هل يمكنك أن تحدد درجة حرارة الأجسام بحواسك؟

جرب ولاحظ

الوسائل المستعملة: أجسام سائلة دافئة والأخرى باردة، محارير

1 تجربة

- صف المحرار (الوثيقة 13)

- تحسس بيديك الأجسام التي بحوزتك الباردة والساخنة .

• هل يمكنك الإحساس بحرارة وبرودة هذه الأجسام؟

• هل يمكنك ترتيب هذه الأجسام حسب برودتها المتزايدة؟

• أطلب من زميلك أن يفعل نفس الشيء .

• هل له نفس الإحساس؟

فسر

• هل هذا الإحساس هو نفسه في جميع الحالات؟

• هل يمكنك إعطاء قيمة عددية لهذا الإحساس؟

استنتج

• هل يستطيع الإنسان أن يقارن عدديا الحالة الحرارية للأجسام؟

2 تجربة

- استعمل المحرار الذي بحوزتك لقياس درجة حرارة الأجسام التي بحوزتك .

- اقرأ درجة حرارة القاعة .

- أين تضع المحرار لتعيين درجة حرارة جسمك؟

فسر

• هل المحرار يسمح بتعيين درجة الحرارة؟

• ماذا تلاحظ بالنسبة للسائل الموجود في المحرار عندما نعرضه للحرارة؟


• علام يعتمد مبدأ تشغيل المحرار؟

• لم لا نضع الماء مكان السائل الموجود في المحرار؟

استنتج

• كيف يمكن تعيين درجة الحرارة؟

• هل كل المحارير متماثلة؟



محارير

وثيقة 13



أمتفض بالآهم

- لمعرفة أبعاد جسم (طوله، عرضه، ارتفاعه، سمكه، عمقه) أو كتلته، نجرى عملية القياس .
- إن عملية القياس هي مقارنة بين هذا المقدار مع مقدار آخر من النوع نفسه، أختير كوحدة .
- تختلف طريقة وأداة القياس باختلاف المقدار المراد قياسه .
- نستعمل القدم القنوية لقياس السمك والعمق والأطوال الصغيرة .


- نعيّن حجم السوائل بواسطة أدوات زجاجية مدرّجة .
- لتحديد حجم جسم صلب نستعمل علاقة رياضية في حالة الجسم ذي الشكل الهندسي المنتظم أو طريقة الغمر .
- لوحدات القياس مضاعفات وأجزاء تستعمل حسب الحالة .

- الكتلة الحجمية هي حاصل قسمة كتلة جسم على حجمه .
- نعيّن الكتلة الحجمية ρ باستعمال العلاقة $\rho = \frac{m}{V}$ حيث m كتلة الجسم و V حجمه، وحدتها في الجملة الدولية للوحدات $\frac{kg}{m^3}$ وتستعمل أيضا $\frac{kg}{l}$ و $\frac{g}{l}$.

- تمثّل كثافة جسم صلب أو سائل بالنسبة للماء، حاصل قسمة كتلة حجم من هذا الجسم على كتلة نفس الحجم من الماء .
- نعيّن كثافة جسم صلب أو سائل بالنسبة للماء بالعلاقة: $d = \frac{\rho_{\text{جسم}}}{\rho_{\text{ماء}}}$



- تعيّن درجة الحرارة لمادة بواسطة المحرار ونرمز لها بـ t
- وحدات القياس المستعملة:
- الطول: المتر (m)
- الحجم: المتر مكعب (m^3) ويستعمل أيضا اللتر (L)
- الكتلة: الكيلوغرام (kg) (أنظر الوثيقة)
- الكتلة الحجمية: الكيلوغرام على المتر مكعب (kg/m^3)
- درجة الحرارة: نستعمل عادة درجة سلسيوز ($^{\circ}C$)



الكيلوغرام العياري



المتر العياري

أختبر معارضي


- 1 اذكر ثلاث أدوات لقياس الأطوال.
- 2 أكمل الفراغ في الفقرة التالية:

- نستعمل.... لقياس الأطوال و.... لقياس الكتلة و.... لتعيين درجات الحرارة.
- تُحدّد حجوم الأجسام الصلبة ب.... أو ب....
ونحسب الكتلة الحجمية للأجسام السائلة والصلبة بقسمة..... على..... كما نعيّن كثافة جسم صلب أو سائل بقسم..... على الكتلة الحجمية لل.....

- 3 اختر الإجابة الصحيحة:

- وحدة الطول في الجملة الدولية للوحدات هي:
(أ المتر (ب الكيلومتر (ج الميليمتر.
- وحدة الحجم في الجملة الدولية للوحدات هي:
(أ المتر (ب المتر المكعب (ج اللتر (د الغرام.
- وحدة الكتلة الحجمية في الجملة الدولية للوحدات هي:
(أ الغرام على المتر (ب الكيلوغرام على المتر (ج الكيلوغرام على المتر المكعب (د الغرام على السنتيمتر المكعب
- وحدة الكثافة في الجملة الدولية للوحدات هي:
(أ الغرام على المتر (ب الكيلوغرام على المتر المكعب (ج لا وحدة للكثافة (د الغرام على اللتر.
- نقيس درجات الحرارة في وحدة:
(أ درجة سلسيوز (ب درجة نيوتن (ج درجة أمبير (و لا وحدة لدرجة الحرارة

- 4 يوجد بعض الأنواع من الموازين المستعملة في المنزل منها المبينة في الرسم الأسفل. ما هي القيمة المقروءة؟



- 5 رتب مضاعفات وأجزاء اللتر ترتيبا تنازليا (من الأكبر إلى الأصغر):
mL, hL, daL, L, cL, dL

- 6 رتب مضاعفات وأجزاء الكيلوغرام ترتيبا تصاعديا (من الأصغر إلى الأكبر):
dag, hg, kg, dg, t, q, mg, cg

أطبق معارضي

- 7 أحول وحدات الحجم
 $65 \text{ dm}^3 = \dots \text{L}$, $250 \text{L} = \dots \text{m}^3$
 $12 \text{ mL} = \dots \text{hL}$, $5,5 \text{ hL} = \dots \text{cm}^3$

8 أحول وحدات الكتلة

- $350 \text{ g} = \dots \text{kg}$, $3,2 \text{ cg} = \dots \text{g}$, $2,7 \text{ g} = \dots \text{mg}$,
 $800 \text{ dg} = \dots \text{hg}$, $2,3 \text{ t} = \dots \text{kg}$, $86 \text{ dag} = \dots \text{dg}$,
 $2 \text{q} = \dots \text{kg}$, $45 \text{ dg} = \dots \text{mg}$

9 أختار وحدة الطول المناسبة للقياس

- ما هي وحدات الطول المناسبة لقياس أطوال الأجسام التالية؟
- المسافة بين مدينتين.
- قامة إنسان.
- أبعاد ممحاة.
- طول نملة.

10 أختار وحدة الكتلة المناسبة للقياس

- ما هي وحدات الكتلة المناسبة لقياس كتل الأجسام التالية؟
- سيارة، إنسان، نملة، عجل.

11 أختار وحدة الحجم المناسبة للقياس


- ما هي وحدات الحجم المناسبة لقياس حجم الماء الموجود في:
- كأس، صهريج، سد بني هارون، قارورة ماء معدني؟

17 حساب حجم مكعب

أحسب حجم مكعب طول ضلعه $a = 10 \text{ cm}$

18 حساب حجم متوازي المستطيلات

أحسب حجم متوازي المستطيلات ذي الأبعاد التالية:



الطول $L = 20 \text{ cm}$ ، العرض $l = 12 \text{ cm}$

الارتفاع $h = 30 \text{ cm}$

1- عبّر عن القيمة باللتر

2- ما كتلة الماء ذات الحجم نفسه؟

19 حساب حجم اسطوانة

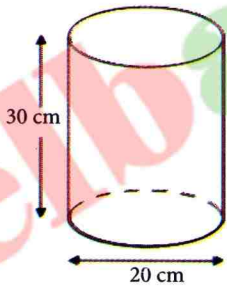
1- أحسب حجم اسطوانة نصف قطر قاعدتها

$r = 10 \text{ cm}$ وارتفاعها $h = 30 \text{ cm}$

2- إذا اعتبرنا ان الأسطوانة مجوّفة، وكتلتها وهي

فارغة $m = 23 \text{ g}$ ، كم تصبح كتلتها وهي مملوءة بالماء

إلى نصف؟



20 طبقات من السوائل غير مختلطة

- كيف تفسّر تموضع السوائل


حسب الطبقات المبينة على

الصورة؟



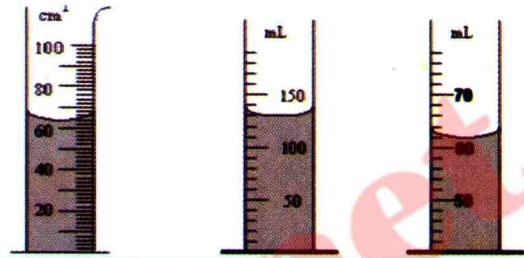
12 أختار الوضعية الصحيحة للقراءة.

ما هي الوضعية الملائمة للقراءة؟



13 قراءة الحجم الصحيح

اقرأ الحجم المبينة في الأنابيب المدرّجة التالية.




14 قراءة درجات الحرارة

اقرأ درجات الحرارة المبينة في الصورة والموافقة

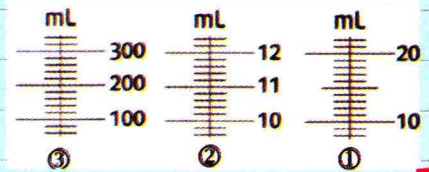
لحالات مختلفة لأشخاص. ما تعليقك على كل

واحدة منها؟ وبماذا تنصح كل واحد منهم؟



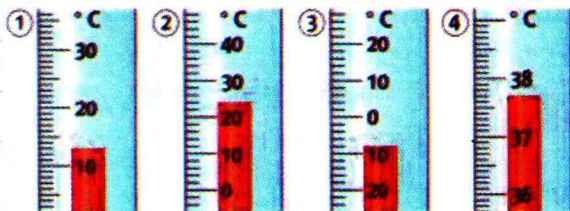
15 قراءة التدريجة

اذكر في كل حالة مقدار التدريجة الواحدة:



16 اقرأ قيم درجات الحرارة

اقرأ القيم المبينة في المحارير التالية





27 أحدد حجم وكتلة لولب :

نقوم بالعمليات التالية :

– نزن مخبارا مدرجا فارغا

فنجد $m_1 = 41,1 \text{ g}$.

– نصب حجما من الماء في المخبار

نفسه ونزنه فنجد حجما $V_1 = 54 \text{ mL}$

وكتلة $m_2 = 95,1 \text{ g}$.

– ندخل اللولب في المخبار الذي يحتوي

على الماء نفسه ونقرأ من جديد قيمتي الحجم

والكتلة، فنجد : $m_3 = 149,7 \text{ g}$ ، $V_2 = 61 \text{ mL}$.

1- أنجز الرسومات الموافقة للعمليات الثلاث .

2- استنتج كلا من حجم وكتلة اللولب .

28 أرتب الطبقات !

نضع في أنبوب زجاجي 3 سوائل غير متمازجة

وهي :

– الزيت التي يزن كل 1 cm^3 منها $0,8 \text{ g}$

– الماء الذي يزن كل لتر منه 1 kg

– الزئبق الذي يزن كل 1 cm^3 منه $13,6 \text{ g}$.

– أرسم الأنبوب وفيه السوائل الثلاثة مبيّنا

كيفية تموضعها .

29 كيف أقيس حجم جسم؟

يحتوي بيشر مدرج بـ 100 cm^3 على 100 cm^3

من الماء. نضع فيه علبة معدنية أبعادها

$5 \text{ cm} \times 2 \text{ cm} \times 1 \text{ cm}$.

إلى أي تدريجة يرتفع السطح الحر للماء في

البيشر؟

أدخلنا في ماء البيشر جسما ثانيا مجهول

الحجم، فارتفع السطح الحر للماء إلى التدريجة

150 . ما حجم الجسم الثاني؟

نخرج العلبة المعدنية من البيشر مع إبقاء الجسم

الثاني، إلى أي تدريجة يشير السطح الحر للماء

في البيشر؟

30 ما كتلة القارورة الفارغة؟

قارورة زجاجية مملوءة بالماء تزن 1220 g ، وعندما

تكون مملوءة للنصف فقط، تزن 845 g ، ما كتلة

القارورة الفارغة؟



21 ما كتلة القارورة المملوءة؟

قارورة لمياه معدنية سعتها 1.5 L تزن

وهي فارغة 57 g ، ما كتلتها وهي مملوءة

بالماء؟

22 سبب عدم غرق السفن

ما سبب عدم غرق السفن وهي مصنوعة

من الفولاذ والحديد؟

23 البحر الميت

ابحث في الشبكة العنكبوتية (الانترنت)

عن نسبة ملوحة البحار وسبب تسمية أحد

البحار بالبحر الميت . أين يقع؟

أوظف معارضي

24 أقيس الحجم المتوسط لقطرة من الماء !

أنجز خطة تجريبية تبين فيها كيف تتمكن من

قياس الحجم المتوسط لقطرة ماء .

25 كل كتلة لصاحبها !

اربط بسهم كل جسم بالكتلة التي توافقه :

500 t ●	طائرة ●
60 g ●	إنسان ●
3500 kg ●	تفاحة ●
150 g ●	خروف ●
80 kg ●	فيل ●
35 kg ●	عصفور ●
20 t ●	شاحنة ●
10cg ●	ذبابة ●

26 أحضر دواء القط !

أخذت لينة قطها إلى الطبيب البيطري الذي


وصف لها دواء يقدم للقط بمقدار 2 mL لكل

كيلوغرام من وزنه .

علما بأن كتلة القط هي $4,5 \text{ kg}$ ، ما حجم

الجرعة التي تقدمها لينة للقط؟

- 2- أدخلنا في ماء البيشر جسما ثانيا مجهول الحجم فارتفع السطح الحر إلى التدريجة 200. ما هو حجم الجسم الثاني؟
- 3- نخرج المحاة من البيشر مع بقاء الجسم الثاني فيه، إلى أي تدريجة يشير السطح الحر للماء في البيشر؟



34 وجبة لينة

- عند خروجها للساحة، أكلت لينة لمجتها التي تتكون من 50g من الخبز و 20g من الزبدة و من 300g من العصير.
- نسبة الماء في كل مادة في الجدول التالي:

المواد	الخبز	الزبد	العصير
نسبة الماء	30%	15%	87%

- 1- أحسب كتلة الماء في كل مادة (سائلة أو صلبة).
- 2- ما هي كتلة الماء الكلية في اللومجة؟
- 3- إذا علمت أن حجم الماء الواجب استهلاكه يوميا لطفل من سنها هو 1L.
- هل هذه الوجبة كافية للينة لتغطية حاجاتها اليومية؟

31 هل تعلم؟

تحتوي قارورة مشروب غازي حجمها 2L على 220g من السكر،



- 1- إذا علمت أن قطعة من السكر تزن 6g:

أ – ما عدد قطع السكر المنحلة في القارورة؟

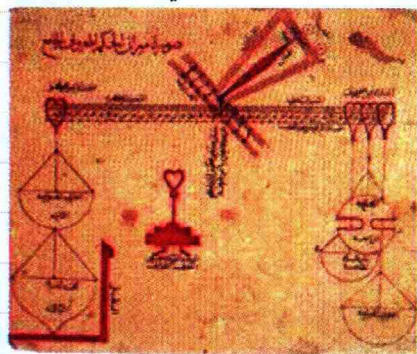
ب – ما كتلة السكر المنحل في قنينة حجمها 33cL من هذا المشروب؟

- 2 - تنصح المنظمة العالمية للصحة بعدم تجاوز كتلة 25g

من السكر النقي يوميا، ما رأيك في هذه الكمية من السكر، إذا تناول طفل يوميا، قنينة أو قارورة من نفس الحجم، من هذا المشروب الغازي؟

32 أبحاث في تراثنا

من بين المبتكرين المسلمين، العالم «عبد الرحمن المنصور الخازن» المشهور بميزانه المسمى «ميزان الحكمة» المبين في الصورة:



– ابحث عن تاريخ هذا الميزان وكيفية استعماله.

33 حجم الجسم

– يحتوي بيشر منزلي مدرج بوحدة السنتيمتر مكعب (cm^3) على ($150cm^3$) من الماء، نضع فيه محاة أبعادها: ($5cm \times 2cm \times 1cm$)

1- إلى أي تدريجة يرتفع السطح الحر للماء في البيشر؟

مالات المادة وتغيراتها 2

1 خصائص حالات المادة

1-1 معاينة أجسام مادية في حالات فيزيائية مختلفة

نشاط

التعرّف على حالات المادة الثلاث

1 تجربة



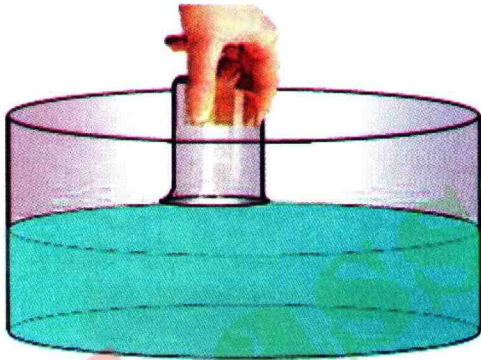
وثيقة 1 البياسر الثلاثة

لديك ثلاثة بياسير سعة كل واحد منها 100 mL،
كتلة عيارية (500g مثلاً)، ماء ملون.
- لاحظ الصورة (وثيقة 1) ثم حدّد محتوى
كل بياسر.

2 تجربة

لديك بياسر (سعته 100 mL مثلاً) وحوض واسع به ماء.

جرّب ولاحظ



- ثبّت في قاع البياسر قطعة منديل ورقي (يمكنك استعمال شريط لاصق)، ثم انكس البياسر وضعه في الحوض.
- أخرج البياسر بحذر وضعه منكسا على الطاولة ثم امسح يديك إن كانت مبللتين.
- استخرج قطعة المنديل. هل هي مبللة؟
- فسّر ما تلاحظ.

وثيقة 2 الزجاجيات المستعملة

- ضع الآن البياسر منكوسا داخل الحوض، ثم قم بإمالة قليلاً. ماذا تلاحظ؟

استنتج

• من التجريبتين السابقتين، ما هي حالة المادة في كل بياسر؟

1-2 خصائص الحالة الصلبة

نشاط

ما هي خصائص الأجسام الصلبة؟

تمعن في الوثائق التالية

إليك الصور التي تمثل أجساماً مختلفة.



كمية من الرمل كرة القدم كأس من الماء فنجان قهوة

بخاظة عطر ورقة مطوية قطع جليدية قطعة نقدية

وثيقة 3 أجسام مختلفة

- ما هي الأجسام الصلبة الموجودة في الشروط العادية والأجسام الصلبة الموجودة في الشروط غير العادية؟
- صنّف بعض الأجسام الصلبة في الصور السابقة من حيث:
 - امكانية إمساكها بأصابع اليد .
 - ثبات أو تغير شكلها .
 - ثبات أبعادها .
 - قساوة، ليونة أو قابلية انضغاطها .

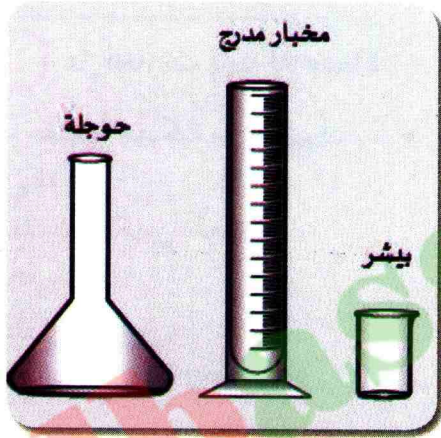
استنتج

- ما هي الصفات المشتركة للأجسام الصلبة؟

3-1 خصائص الحالة السائلة

1 نشاط هل للسائل شكل خاص؟ وكيف يكون سطحه الحر؟

إليك الوسائل التالية: قارورة فيها ماء، ملون غذائي، بيشر، مخبار، حوجلة .



وثيقة 4 الزجاجيات المستعملة

1 تجربة

جرّب ولاحظ

- أضف للماء الموجود في القارورة ملونًا غذائيًا .
- خذ 100 ml مثلاً من الماء الملون في البيشر، ثم اسكب هذه الكمية في مخبار مدرج (الوثيقة 4) .
- خذ نفس الكمية ثم اسكبها في الحوجلة .
- ماذا تلاحظ في ما يخص شكل السائل؟

فسر

- هل يأخذ الماء نفس الشكل مهما كان الإناء؟

استنتج

- هل السوائل قابلة للسكب؟ وهل يتغير حجمها عند تغيير الإناء الموضوعه فيه؟

2 تجربة

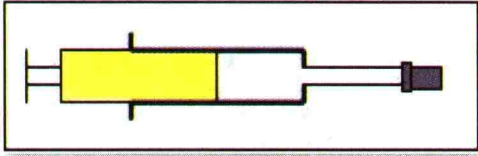
- السطح الحر لسائل، هو سطح السائل الذي يلامس الهواء في حالة الراحة .
- في رأيك، هل يحافظ السطح الحر لسائل دوماً على شكله؟
- اقترح تجارب تتعرف من خلالها على شكل السطح الحر لسائل في حالة الراحة .
- ناقش اقتراحاتك مع زملائك بتوجيه من الأستاذ .
- أنجز التجارب التي اتفقت عليها .
- هل الرمل سائل؟ علّل .

استنتج

- كيف يكون السطح الحر لسائل في حالة الراحة؟

نشاط 2 هل السوائل قابلة للانضغاط؟

جرّب ولاحظ



وثيقة 5 حقنة فيها ماء ملون

خذ كمية من الماء الملون بحقنة بلاستيكية ثم سدّها بإحكام (الوثيقة 5) .
بحذر وباستعمال مكبس الحقنة، اضغط على الماء الموجود بداخلها .

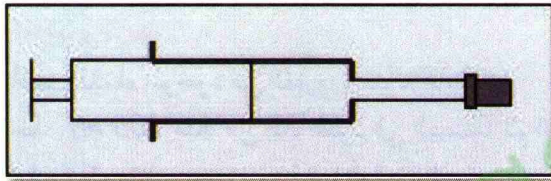
- بماذا تحس عندما تضغط على المكبس؟
- ماذا يحدث لو واصلت في الضغط على المكبس؟

استنتج

- هل السوائل قابلة للانضغاط؟

1- 4 خصائص الحالة الغازية

نشاط 1 هل الغازات قابلة للانضغاط؟



وثيقة 6 حقنة

خذ حقنة بلاستيكية فارغة ثم قم بسدّها بإحكام (الوثيقة 6) .
اضغط على مكبس الحقنة .

- ماذا تلاحظ؟

استنتج

- هل الغازات قابلة للانضغاط؟

نشاط 2 هل الغازات لها شكل ثابت؟



وثيقة 7 تمدد الغازات

إليك الوسائل التالية : قارورة فيها مشروب غازي، سدّادة يخرج منها أنبوب بلاستيكي، كرات منفوخة مختلفة الأشكال .

جرّب ولاحظ

خذ قارورة المشروب الغازي وأغلقها بسدّادة يخرج منها أنبوب بلاستيكي نهايته متصلة بإحدى الكرات المنفوخة جزئياً بالهواء (الوثيقة 7) .

- ماذا تلاحظ بعد بضع ثوانٍ؟
- أعد التجربة باستعمال كرة منفوخة ثانية يختلف شكلها عن شكل الأولى .
- ماذا تلاحظ بعد بضع ثوانٍ؟

استنتج

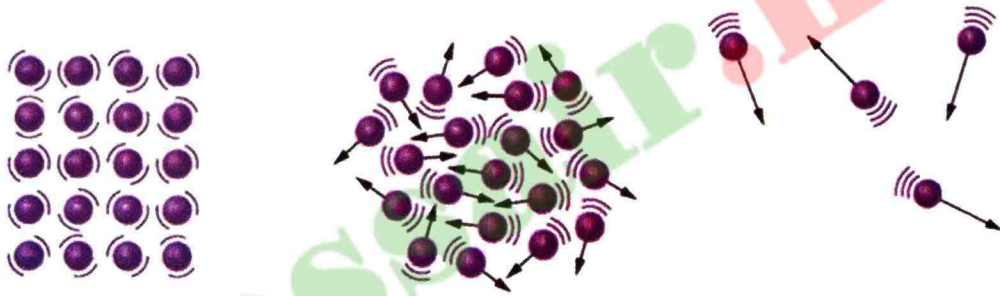
- كيف يكون الشكل الذي يأخذه الغاز؟

النموذج الجببي للمادة

- نقترح عليك نموذجا يسمح بشرح خواص المادة .
تتكون المادة من حبيبات صغيرة جدا لا يمكن رؤيتها وتتميز هذه الحبيبات بما يلي :
- احتفاظها بنفس الأبعاد ونفس الكتلة .
 - عدم تغير عددها في الجسم الواحد .
 - عدم تشوهها .
 - يفصل بينها فراغ .
 - يمكنها أن تكون مضطربة .

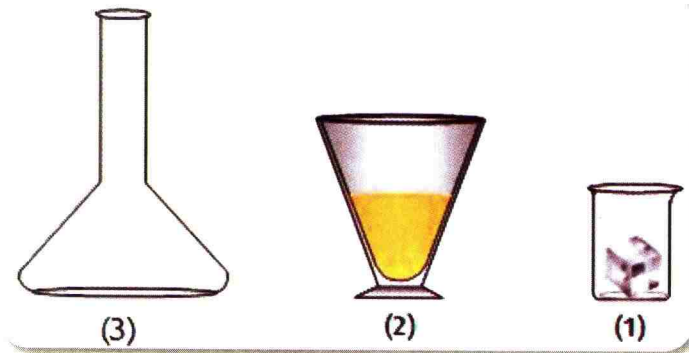
توظيف النموذج

- 1 - إليك تمثيلا للمادة باستعمال النموذج الجببي (الوثيقة 8) .
• تعرّف على حالة المادة (الصلبة، السائلة، الغازية) في التمثيل المعطى .



وثيقة 8 تمثيل المادة بالنموذج الجببي في حالات مختلفة للمادة

- 2 - في الزجاجيات (الوثيقة 9)، توجد المواد التالية: قطعة جليدية مكعبة، زيت، هواء على الترتيب .
• مثل المادة باستعمال النموذج الجببي .




وثيقة 9 بعض المواد في الزجاجيات

أمتفظ بارأهم

حالات المادة

الحالة الصلبة

تكون جبيبات المادة في الجسم الصلب متراسة ومتقاربة جدا بعضها من البعض، وهي قليلة الحركة، ما يجعل للأجسام الصلبة شكلا خاصا.




بعض الأجسام الصلبة، السائلة والغازية

الحالة السائلة

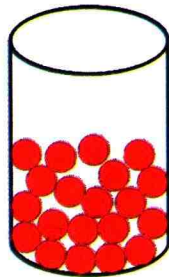
تكون جبيبات المادة في الجسم السائل قريبة بعضها من البعض وهي أكثر حركة، هذا ما يفسر قابليتها للسكب والجريان واتخاذها شكل الإناء الذي يحويها.

الحالة الغازية

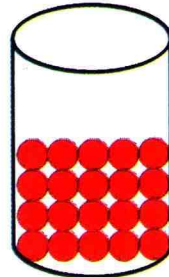
تكون جبيبات المادة في الجسم الغازي متباعدة جدا بعضها عن البعض ومضطربة، فهي تتحرك في كل الاتجاهات ما يفسر توسع الغاز في كامل الفضاء الذي يحيط به.



الجسم الغازي



الجسم السائل



الجسم الصلب

تمثيل الجسم في الحالات الصلبة، السائلة والغازية

1 نشاط الحالة الفيزيائية للجسم المادي.

تمعن في الوثائق التالية

إليك الصور التالية والتي تمثل مناظر وأجساما مادية مختلفة.



وثيقة 10 مناظر مختلفة

فسر

- حدّد الصور التي تمثل الأجسام السائلة الموجودة في الشروط غير العادية.
- لماذا حمم بركان تحولت تدريجيا إلى صخور؟
- لماذا تتكون الجبال الجليدية (Iceberg) في المحيطات؟
- لماذا يتشكل الضباب؟
- لماذا نرى وراء الطائرات النفاثة «دخانا» أبيض؟ ممّ يتكون؟
- كيف يتشكل الجليد؟
- كيف تتشكل الفوارة في البحيرة (geyser).



حمام دباغ بولاية قالة

استنتج

- لماذا يحدث تحوّل فيزيائي لجسم مادي من حالة إلى أخرى؟

نشاط 1 هل تحافظ المادة على كتلتها أثناء تحول حالتها الفيزيائية؟

الوسائل المستعملة: أنبوب اختبار، ماء مقطر، بيشر سعته 100 mL، جليد، ملح الطعام، محرار، حوض زجاجي، ميزان الكتروني.

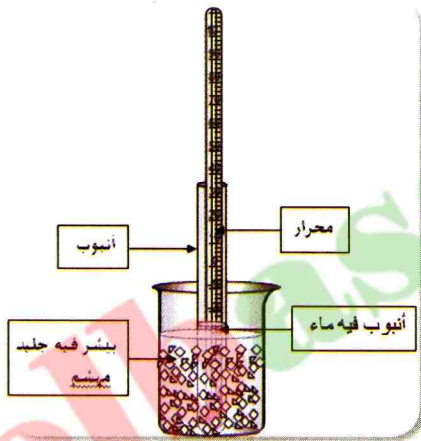
جرب ولاحظ

- حضّر خليطاً من الجليد وملح الطعام في الحوض الزجاجي (إذا كانت درجة حرارة المخبر مرتفعة استعمل سائلاً مبرداً كنت قد وضعت في الثلاجة)، ثم ضع كمية منها في البيشر إلى $\frac{3}{4}$ من حجمه.

- ضع 50mL من الماء البارد (حوالي 6°C) في البيشر وباستعمال الميزان الإلكتروني، زّن كمية الماء

المستعملة m_{eau} .

- ضع أنبوب الاختبار داخل البيشر، وأضف بداخله محراراً، ثم انتظر بعض الدقائق إلى غاية تحول كمية الماء إلى جليد.



وثيقة 12 دراسة التحول سائل-صلب



وثيقة 11 التجربة

باستعمال الميزان الإلكتروني، زّن كمية الجليد الناتجة $m_{\text{glaçon}}$.
قارن بين كتلة الجليد المستعملة وكتلة الماء الناتجة.

استنتج

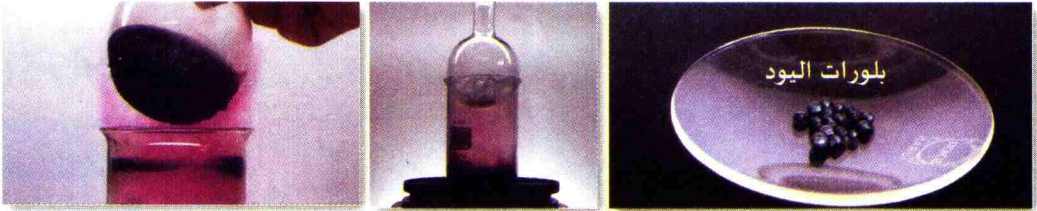
- ما هو سبب تَغْيِيرِ الحالة الفيزيائية للجسم
- المادي من الحالة السائلة إلى الحالة الصلبة؟

فسّر

- كيف تحصلنا على الجليد؟
- ما هو دور المزيغ (جليد+ ملح الطعام)؟
- ماذا يمثل الجليد الناتج؟
- كيف نسمي هذا التحول؟
- هل كتلة الماء تتغير أثناء هذا التحول؟

تجربة

الوسائل المستعملة: كمية من بلورات اليود، بيشر 500mL، منبع حراري.



وثيقة 13 دراسة التحول صلب- غاز

- ضع كمية من بلورات اليود في البيشر ثم ضعه فوق منبع حراري. ماذا تلاحظ؟
- ضع فوق البيشر قارورة زجاجية فيها قطع جليدية. ماذا تلاحظ؟
- كيف يسمى التحول الفيزيائي للجسم المادي من الحالة الصلبة إلى الحالة الغازية.

استنتج

- ما هو سبب تَغْيَر الحالة الفيزيائية للجسم المادي من الحالة الصلبة إلى الحالة الغازية؟

إليك الوسائل التالية: جهاز تفريغ الهواء، بيشر 100mL، ماء، محرار.

تجربة 1

سخن الماء حتى الغليان ثم ضع كمية قليلة منه (50mL) في قارورة بلاستيكية وسدها بإحكام مباشرة (الوثيقة 14) ثم اتركها عند درجة الحرارة السائدة في المكان (أو ضعها في حوض به ماء بارد لربح الوقت).



وثيقة 14 تجربة القارورة البلاستيكية

- ما هو الغاز الذي تحويه القارورة في بداية التجربة (مباشرة بعد سدها).
- بين بداية التجربة ونهايتها، كيف تغير كل من:
 - أ / درجة حرارة الغاز داخل القارورة؟
 - ب / حجم القارورة؟
 - ج / ضغط الغاز داخل القارورة؟

استنتج

- هل للضغط تأثير على تَغْيَر الحالة الفيزيائية للجسم المادي؟

تجربة 2

تجربة 2

تجربة 2
جرّب ولاحظ
خذ قارورة بلاستيكية فارغة من الماء وسّدها بإحكام ثم ضعها في مجمد الثلاجة بضعة ساعات ثم أخرجها . ماذا تلاحظ ؟

استنتج

- بم يميز الهواء عن الماء؟

تجربة 3

تجربة 3

تجربة 3
جرّب ولاحظ
- ضع 100mL من الماء في البيشر ثم سخنه دون الغليان (40°C مثلا) .
- ضع البيشر داخل الناقوس الزجاجي المزود بجهاز تفريغ الهواء .شغلّ جهاز تفريغ الهواء .



وثيقة 15 تجربة جهاز تفريغ الهواء

- ماذا تلاحظ؟

- كيف يؤثر الضغط في درجة حرارة غليان الماء؟

استنتج

- هل للضغط تأثير في تغيّر الحالة الفيزيائية للجسم المادي؟

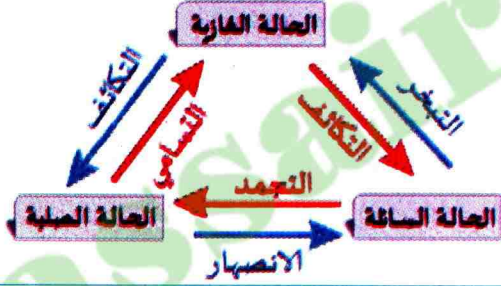
افتضأ باراهم

الجسم المادي هو كل جسم يشغل حيزاً من الفراغ، أي له حجم وله كتلة ويتكون من حبيبات دقيقة لا تُرى بالعين المجردة. ويمكن للجسم المادي في الشروط العادية (من الضغط ودرجة الحرارة) أن يتواجد في حالة من إحدى حالاته: الصلبة، السائلة والغازية.



بعض التحويلات الفيزيائية

- يمكن للجسم المادي أن يتحول من حالة لأخرى، ويدعى بالتحويل الفيزيائي.
- تعتبر درجة الحرارة والضغط من العوامل المسببة في حدوث تحول فيزيائي.
- تحافظ المادة على نوعها وكتلتها أثناء تحول حالتها الفيزيائية، ولكن يتغير حجم البعض منها في معظم الأحيان.

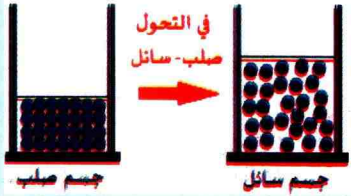


مخطط للتحويلات الفيزيائية:

- التبخر هو تحول حالة المادة من الحالة السائلة إلى الحالة الغازية دون أن يحدث الغليان.
- يجب التفريق بين بخار الماء، وهو غاز عديم اللون، وبين الضباب، الذي يمثل قطرات صغيرة من الماء معلقة في الهواء وبين الدخان الناتج عن الاحتراق والذي يمثل حبيبات مادة صلبة معلقة في الهواء.

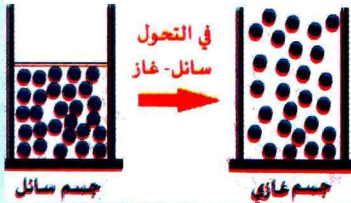
النموذج الجزيئي

• في التحول صلب - سائل:



تتباعد حبيبات المادة في الجسم الصلب بعضها عن البعض وتصبح أكثر حركة ويكتسب الجسم المادي عندئذ خصائص الجسم السائل، أي يصبح له قابلية للسكب والجريان ويتخذ شكل الإناء الذي يحويه.


• في التحول سائل - غاز:



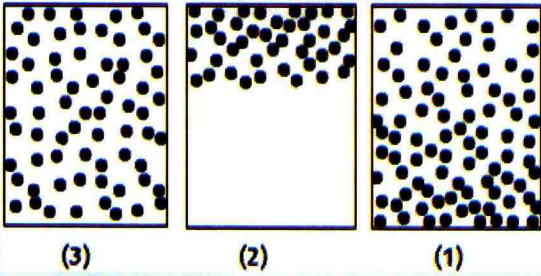
تتباعد حبيبات المادة في الجسم المادي السائل عن بعضها البعض وتصبح مضطربة وتتحرك في كل الاتجاهات ويكتسب الجسم المادي عندئذ، خصائص الجسم الغازي حيث يتوسع في كامل الفضاء الذي يحيط به.

أفتر معارضي

5 أخذنا كمية من الماء في كأس بيشر ثم أنقلنا محتواه في مختلف الزجاجيات التالية، أرسم كيفيا مستوى الماء في كل إناء.

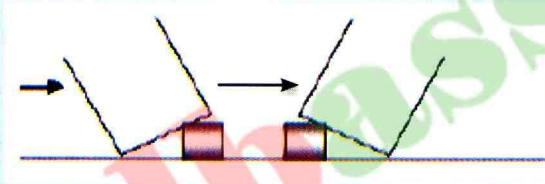


6 مثل التلاميذ حبيبات غاز، في الشروط العادية، بالرسومات التالية:



ما هو الرسم الصحيح؟ علل جوابك.

7 اختر الجواب الصحيح:
لدينا بيشران بهما كمية من سائل.
1- السطح الحر للسائل:



أ/ أفقي
ب/ منحنى
ج/ شاقولي
د/ مستو
هـ/ متموج
2- أرسم سطح السائل في موضع السهم.

8 أجب بصحيح أو خطأ ثم صحح الخطأ:
أ/ التبخر هو تحول المادة من الحالة السائلة إلى الحالة الغازية عند الغليان.
ب/ درجة الحرارة هي المسببة في حدوث تحول فيزيائي للمادة.
ج/ تحافظ المادة على نوعها وحجمها أثناء تحول حالتها الفيزيائية، ولكن تتغير كتلتها.

1 أكمل الفراغ في الجمل التالية:

تتميز الأجسام بشكل ثابت وحجم ثابت لا يتغير
..... يمكن مسكها باليد أو بأي أداة مسك، بينما لا يمكن فعل ذلك مع و
الأجسام الصلبة قد تكون قابلة للكسر أو لينة أو غير متماسكة ولكنها غير قابلة

2 أ/ الجسم المادي هو كل جسم يشغل أي له وله ويتكون من لا تُرى بالعين المجردة ويمكن للجسم المادي في الشروط العادية (من الضغط ودرجة الحرارة) أن يتواجد في من إحدى

ب/ عند يتحول الجسم المادي الصلب من الحالة إلى الحالة

ج/ عند ارتفاع درجة الحرارة مثلاً تتباعد في الجسم المادي عن بعضها البعض وتصبح مضطربة وتتحرك في كل الاتجاهات و الجسم المادي عندئذٍ، خصائص حيث

3 أكتب فقرة بالكلمات التالية:

أ/ متراصة، متقاربة، متماسكة، الحركة.

ب/ متباعدة، مضطربة، عشوائية، قابلة للضغط.

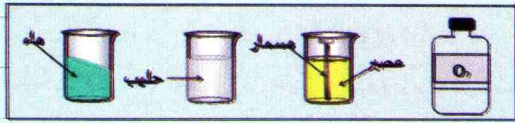
4 أنقل الجدول على كراسك ثم ضع الإشارة (X)

أمام الجواب الصحيح:

الحالة	المطر	الغيمة	البخار	الثلج	رذاذ المطر	الجليد
الصلبة						
السائلة						
الغازية						

12 الحالة الفيزيائية للمادة

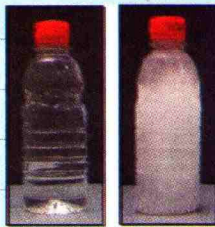
إليك أجساما في حالة راحة، عين الحالة الفيزيائية لكل منها. علل جوابك.



أذكر الخاصة التي تساعدك على التعرف على الحالة الفيزيائية لكل جسم.

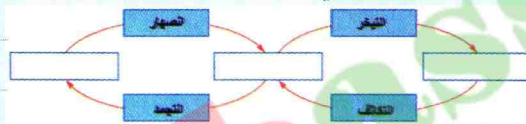
13 التحول الفيزيائي

في الصورة، قارورة ماء وضعت في الثلاجة لمدة كافية حتى يتجمد الماء الموجود فيها، أذكر التحول الفيزيائي الذي حدث له. ما هو السبب في هذا التحول؟



14 مخطط تغير الحالة


أكمل المخطط التالي لتغير الحالة الفيزيائية:



15 حجم الماء بعد ذوبان الجليد

على يسار الصورة كأس به جليد.

1- ما هو الشكل الصحيح من بين الأشكال:
(1)، (2) و (3) للكأس بعد ذوبان الجليد؟
علل جوابك.



2- كتلة (الكأس + الجليد) وزن 212g، إذا كتلة (الكأس + الماء على شكله السائل) تساوي:
أ / 196g ب / 212g ج / 231g

9 نضع في الثلاجة 200g من الماء.

أختر الجواب الصحيح:

1- كتلة الجليد الذي تتحصل عليه تساوي:

أ / 200 g

ب / 210 g

ج / 190 g

2- حجم الجليد الذي تتحصل عليه يساوي:

أ / 200 ml

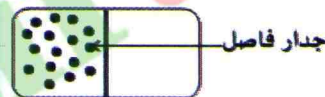
ب / 220 ml

ج / 180 ml

أطبق معارفني

10 حبيبات الغاز في الأسطوانة

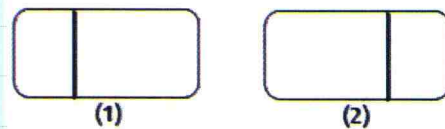
في أسطوانة مغلقة بإحكام بها جدار فاصل، نمذج حبيبات المادة للغاز الموجود في جانب من الأسطوانة بالرسم التالي:



منظر علوي للأسطوانة

1- ماذا يمكنك أن تقول عن الجانب الآخر من الإناء؟

2- نحرك الجدار الفاصل كما يلي، أعد الرسومات على كراسك ثم أكملها.




أذكر الخاصة الفيزيائية المستعملة في هذا السؤال.

11 حركة حبيبات العطر

حتى يشرح أستاذ لتلاميذه خاصة من الخواص الفيزيائية للغازات قام بفتح قارورة عطر في القسم، فانتشرت رائحة العطر في القاعة.

1- ما هي الخاصية التي يريد إظهارها؟

2- أكمل الشكل بحيث تمثل المسار المتوقع لحبيبة العطر من القارورة إلى أنف التلميذ.



16 من خواص الغازات

في حصة الأعمال المخبرية أخذ أستاذ العلوم الفيزيائية قارورة فيها غاز ثنائي أكسيد الآزوت (غاز خطير) فوهتها مسدودة بإحكام. أخذ قارورة أخرى فارغة ووضعهها رأساً على عقب على القارورة الأولى. الصور الموالية تمثل التجربة التي حققها.



انتشار الغاز في قارورة فارغة

ماذا تلاحظ؟

أذكر الخاصية التي أراد الأستاذ تحقيقها بهذه التجربة.

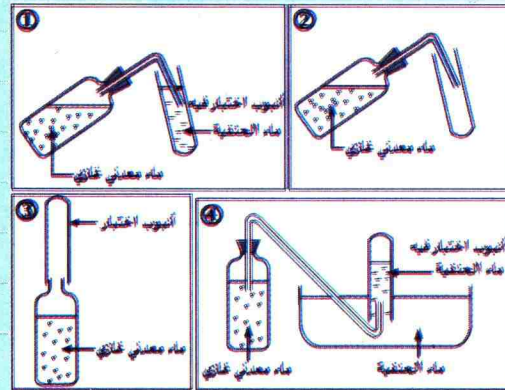
أوظف معارفي

17 كيف استخراج غازا من قارورة ماء معدني؟

في حصة الأعمال المخبرية، طلب أستاذ العلوم الفيزيائية لأربعة أفواج من التلاميذ استخراج كمية من الغاز من قارورة ماء معدني غازي، لأجل ذلك قام كل فوج بمخطط للتجربة كما في الأشكال التالية:

1- في رأيك، ما هو المخطط الصحيح؟

2- ما هي التجربة الإضافية التي يجب أن يقوم بها التلميذ للتأكد من أنه استخراج غازا في أنبوب الاختبار.



18 كيف أتأكد من أن سطح السائل أفقي؟

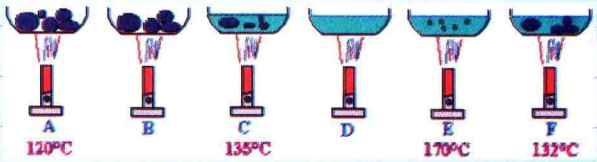
نضع كمية من الماء في حوض واسع ونتركه يركد.
1- كيف تتأكد من أن سطح الماء أفقي؟
2- ماذا يحدث لو نرج الماء؟
3- هل الرمل صلب أم سائل؟

19 الماء في جسم الإنسان

النسبة المئوية لكتلة الماء التي يحويها جسم الإنسان هي 60%.
أحسب كتلة الماء في طفل يزن 10kg.

20 درجة الحرارة

نقوم بصهر مادة صلبة.



1- ما هو الترتيب الصحيح لهذه الصور؟

2- درجة الحرارة في (B) تساوي:

أ/ 140°C ب/ 130°C ج/ 135°C

3- درجة الحرارة في (D) تساوي:

أ/ 180°C ب/ 150°C ج/ 135°C

4- مثل هذا التحول باستعمال النموذج الحبيبي.

21 الغاز المنطلق أثناء الزفير

أ/ كيف تبرز وجود الماء في الهواء الذي ينتج أثناء الزفير؟

ب/ كيف تبرز وجود غاز ثنائي أكسيد الفحم في الهواء الذي ينتج أثناء الزفير؟

22 كيف يضع الغاز داخل القارورة

في بعض القرى الريفية التي لم تربط بعد بشبكة الغاز، يستعمل للطهي والتسخين قارورة غاز البوتان، هل القارورة تحتوي فعلا على غاز؟ ابحث حول كيفية ضخ الغاز في هذه القارورات.



2- نستعمل كأسا مائلا ثم نملأه بالزيت ونضعه في الثلاجة حتى التجمد، في رأيك ما شكل الكأس بعد تجمد الزيت مقارنة بالأشكال الأخرى؟

26 ياسمين و التجارب

حتى نتحقق من وجود تغيير في الحجم عندما حدث تحول فيزيائي للماء من حالته السائلة إلى حالته الصلبة، اقترحت ياسمين لزملائها في المختبر استعمال الخواص المدروسة سابقا.

أخذت مخبارا مدرجا به كمية من الماء ومادة لا تذوب في الماء. في رأيك، ما هي هذه المادة؟ باستعمال الميزان الإلكتروني قامت بوزن المجموعة (ماء+ المادة المضافة) وكانت القيمة تساوي 342g، والحجم الكلي يساوي 150 cm^3 .

1- وضعت بعد ذلك ثلاث قطع جليدية في المختبر كما في الشكل (2). ماذا تلاحظ؟




2- تم وزن المجموعة وكانت القراءة 351 g. استنتج كتلة القطعة الجليدية الواحدة.
3- بعد مدة زمنية معينة ذابت القطعة الجليدية الصورة (3). هل كتلة المجموعة تغيرت؟ علل جوابك.

4- كانت ياسمين ترتقب نقصانا في حجم المحلول بعد ذوبان الجليد. كيف تفسر ذلك؟

23 الجفاف، كارثة بيئية

قرب إحدى القرى بالجزائر، بحيرة صغيرة تُعمُّ بالكائنات الحية النباتية والحيوانية الصغيرة كالبرمائيات، لكن في الأعوام الأخيرة، وبحلول فصل الصيف، تناقصت كمية مخزونها من الماء بشدة وأصبحت شبه مسبح. اسأل من حولك وابحث في الشبكة المعلوماتية ثم اشرح أسباب هذه الكوارث البيئية.

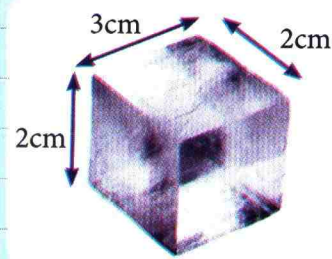


24 حجم القطعة الجليدية

تجمد الماء يصاحبه زيادة في الحجم بمقدار 10%، أي 100 cm^3 من الماء تعطي 110 cm^3 من الجليد.

1- أحسب حجم القطعة الجليدية المثلثة في الصورة.

2- إذا أذبتنا هذه القطعة الجليدية، ما هو حجم الماء الذي نحصل عليه؟

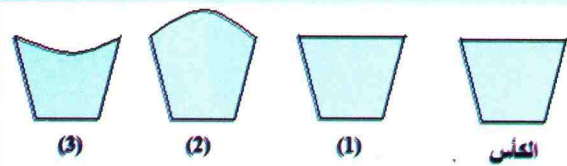


3- ما هو عدد القطع الجليدية المثلثة للقطعة السابقة الواجب إذابتها للحصول على لتر واحد من الماء؟

25 الشكل الصحيح

وضعنا كأسا من الماء في الثلاجة مدة كافية ليتجمد الماء الموجود فيه.

1- ما هو الشكل الصحيح للكأس بعد ذوبان الجليد من بين الأشكال التالية؟



الفرائط 3

الخلايط المتجانسة وغير المتجانسة

نشاط 1 الخلايط

تمعن في الوثائق التالية

إليك الصور التالية والتي تمثل خلايط لمواد مختلفة.



وثيقة 3 طبق خضار




وثيقة 2 حبوب جافة مختلفة



وثيقة 1 خليط من البهارات



وثيقة 6 حليب



وثيقة 5 أنبوب اختبار فيه دم



وثيقة 4 صلصة مايونيز

فسر

- حدّد الصور التي تمثل خلايط متجانسة والصور التي تمثل خلايط غير متجانسة.
- هل صلصة مايونيز (الوثيقة 4)، الدم (الوثيقة 5) والحليب (الوثيقة 6) تتشكل من مادة واحدة؟

استنتج

- متى نقول عن خليط إنه متجانس؟ ومتى نقول عن خليط إنه غير متجانس؟

نشاط 2 هل كل المواد السائلة قابلة للامتزاج؟


الوسائل المستعملة: 4 أنابيب اختبار، ماء.

كمية قليلة من المواد التالية: شراب النعناع، شراب الرمان، زيت، مزيج الدهان.


تجربة

ضع في كل أنبوب اختبار 10 mL من الماء ثم أضف لكل منها كمية قليلة من إحدى المواد، في كل مرة أغلق أنبوب الاختبار ثم اخلطه جيدا (الوثيقة 7).

- ماذا تلاحظ في كل أنبوب بعد الرجّ وتركه لفترة؟



أ/ عند المزج



ب/ بعد الرج وتركه لفترة

وثيقة 7 الخليط المتجانس وغير المتجانس

فسر

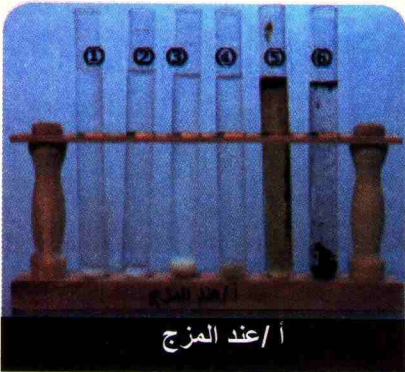
- هل يمكن التمييز بين مكونات هذه الخلائط؟
- هل يمكن الفصل بين مكونات هذه الخلائط؟
- أعط البروتوكول التجريبي للفصل بين مكونات هذه الخلائط.
- هل حدث لك أن حضرت خلائط في البيت؟ أذكر البعض منها.

استنتج

هل كلّ السوائل تمتزج مع الماء؟

نشاط 3 هل كل المواد قابلة للامتزاج مع الماء؟

الوسائل المستعملة: 6 أنابيب اختبار، ماء. كمية قليلة من المواد التالية: ملح، سكر، دقيق، رمل، قهوة سريعة الذوبان، تربة.



أ/ عند المزج

تجرّبه

ضع في كل أنبوب اختبار 10mL من الماء ثم أضف لكل منها كمية قليلة من المواد المذكورة سابقا، وفي كل مرة أغلق أنبوب الاختبار ثم قم برجه جيدا (الوثيقة 8).

- ماذا تلاحظ في كل أنبوب بعد الرج وتركه لفترة؟

فسر

- هل يمكن التمييز بين مكونات هذه الخلائط؟
- هل يمكن الفصل بين مكونات هذه الخلائط؟
- أعط البروتوكول التجريبي.

استنتج

ما هي أنواع الخلائط؟



ب/ بعد الرج وتركه لدقيقة

وثيقة 8 الخليط المتجانس وغير المتجانس

نشاط 4 كيف نفصل مكونات الخلائط غير المتجانسة؟

هل يمكن فصل الأجسام الصلبة: ملح، سكر، دقيق، رمل، قهوة سريعة الذوبان، تربة عن الماء؟

ناقش اقتراحاتك مع زملائك بتوجيه من الأستاذ.

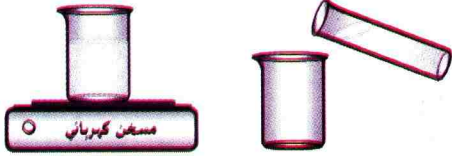
اختر الزجاجيات التي تسمح لك بفصل بعض الأجسام الصلبة السابقة عن الماء. تحقق عمليا بإنجاز التجارب المناسبة.

نشاط 5 كيف نستعيد الماء من الخليط؟

الوسائل المستعملة: قمع، ورق ترشيح، قارورة. أنابيب النشاط 3.

تجربة 1

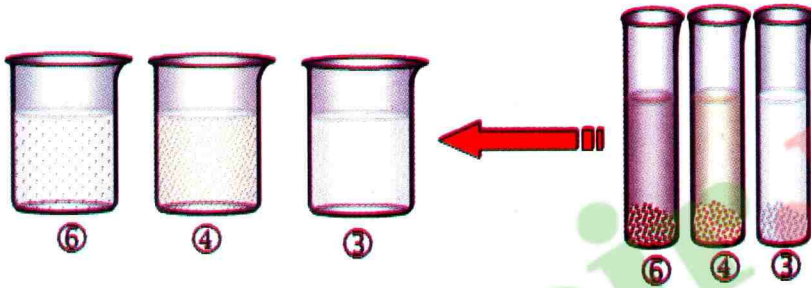
ضع محتوى أنابيب ①، ②، ⑤ في بياشير ورقمها حسب ترتيبها السابق، ثم اتركها لمدة معينة. قم بتسخين هذه البياشير بلطف حتى الغليان و زوال الماء. ماذا تلاحظ في قاع كل بيشر؟



وثيقة 9 تجربة

تجربة 2

ضع محتوى كل أنبوب اختبار ③، ④، ⑥ في بياشير ورقمها حسب ترتيبها في أنابيب الاختبار:

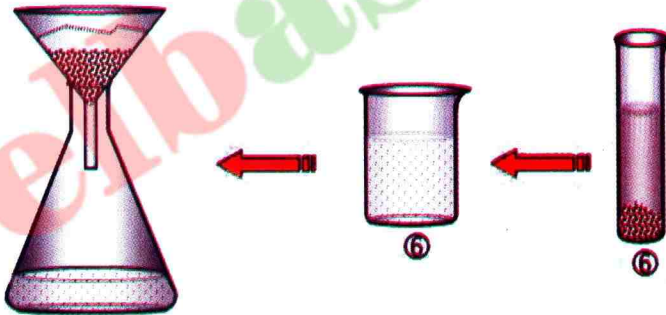


فصل المادة الصلبة عن الماء

وثيقة 10

قارن بين لوني السائل قبل فصل المادة الصلبة وبعدها.

● باستعمال ورق ترشيح وقمع، اسكب محتوى كل بيشر في قارورة كما في (الوثيقة 10 ب)



فصل المادة الصلبة عن الماء

وثيقة 10 ب

● ما هو مظهر السائل في القارورة مقارنة بمظهر السائل قبل فصل المادة الصلبة وبعدها؟

فسر


- هل الخليط في البيشر صاف؟
- هل الخليط في القارورة صاف؟

استنتج

- كيف نفصل المادة الصلبة عن الماء؟

أمتض بالآهم

- يتكون الخليط من جسمين مختلفين أو أكثر.
- الخليط المتجانس هو خليط لا يمكن التمييز بين مكوناته بالعين المجردة، حيث تكون مكوناته قابلة للامتزاج كلياً.
- يفصل بين مكونات الخليط المتجانس عامة بعملية التبخير التام والتسخين.
- الخليط غير المتجانس هو الخليط الذي يمكن التمييز بين مكوناته بالعين المجردة، حيث تكون مكوناته غير قابلة للامتزاج (عالقة) أو يكون امتزاجها غير كلي.
- يفصل بين مكونات الخليط غير المتجانس عامة بعملية الإبانة والترشيح.

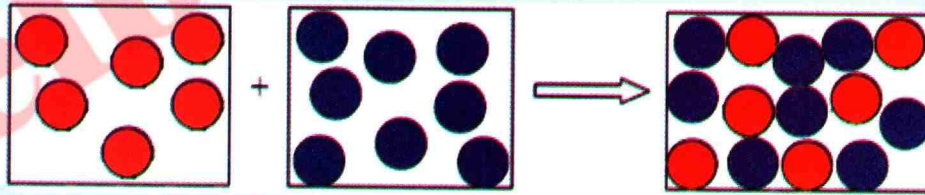


فصل مكونات خليط غير متجانس بالترشيح

فصل مكونات خليط غير متجانس بالإبانة

النموذج الحبيبي

- الجسم الخليط يتكون من حبيبات مادة مختلفة.
- في الخليط المتجانس: حبيبات المادة تمتزج فيما بينها.

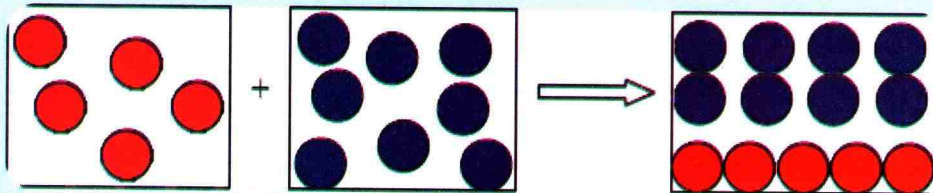


الجسم المادي 1

الجسم المادي 2

الخليط المتجانس

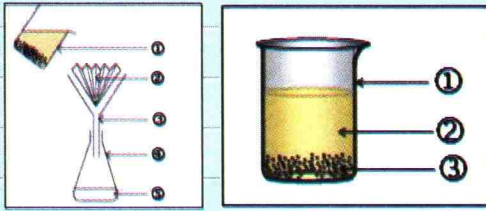
- في الخليط غير المتجانس حبيبات المادة لا تمتزج فيما بينها.



الجسم المادي 1

الجسم المادي 2

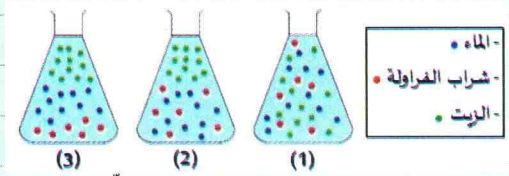
الخليط غير المتجانس



3- للحصول على ماء صاف ابتداءً من الماء العكر، ما هي الطريقة الأفضل؟

7 النموذج الحبيبي

باستعمال النموذج الحبيبي، مثل تلميذ الخليط (ماء، زيت و شراب الفراولة) في قارورة:



في رأيك، ما هو الشكل الصحيح؟ علّل جوابك.

8 كيف تفصل بين الماء والزيت؟

تحضر صلصة السلطة (La vinaigrette) باستعمال الزيت والخل.



ثم يضاف للخليط مواد أخرى. نعلم أن الزيت أخف من الخل.

1- هل صلصة السلطة خليط متجانس؟

2- هل يمكن فصل الزيت والخل؟ إن كان جوابك بنعم، أذكر الطريقة.

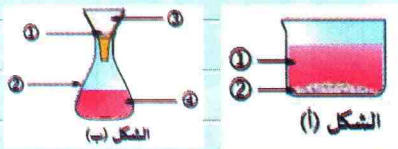
9 هل الماء الغازي خليط؟

هل قارورة ماء غازي تحتوي على خليط متجانس؟ علّل.

اقترح طريقة تتعرف من خلالها على بعض هذه المواد.

10 كيف تفصل بين مكونات خليط؟

الشكلان التاليان (أ) و(ب) يمثلان عمليتي فصل مكونات خليط.



1- هل الخليط في كل إناء متجانس أو غير متجانس؟

أفتبر مهارضي

إملاً الفراغات في الجمل التالية:

1 يتكون الخليط من أو أكثر.

2 في الخليط المتجانس لا يمكن بالعين المجردة،

حيث تكون قابلة

3 يفصل بين مكونات الخليط المتجانس

بعمليتي و

4 في الخليط غير المتجانس بالعين المجردة،

حيث تكون مكوناته أو يكون امتزاجها

أطبق مهارضي

5 الماء المعدني

تحمل قارورة ماء معدني ملصقة بها بعض البيانات كما في الصورة التالية:

Comp.moy mg/litre	التركيب ملغ للتر	Comp.moy mg/litre	التركيب ملغ للتر
Calcium 99	كلسيوم	Chlorures 72	كلوريدات
Magnesium 24	ماغنسيوم	Nitrates 15	نترات
Potassium 2.1	بوتاسيوم	Nitrites <0.02	نيتريت
Sodium 15.8	صوديوم	Résidu à Sec à 180°C: 380	بقايا جافة في 180°م
Bicarbonates 265	بيكاربونات	pH 7.2	
Sulfates 68	سلفات		

ما نوع هذا الخليط؟

النترات هي مادة مضرّة لصحة الإنسان والحيوان والنبات وتتواجد بنسبة عالية في المياه الباطنية للمناطق التي تكون فيها تربية الماشية بشكل مكثف، حيث تتسرب من فضلاتها السائلة إلى باطن الأرض.

إذا كانت كمية النترات أقل من 50mg/L تقريباً فإننا نعتبر المياه صالحة للاستهلاك.

ما رأيك في الماء المعدني المقترح؟ هل يحقق هذا الشرط؟

6 فصل الخلائط

يُفصل بين مكونات الخليط غير المتجانس عامة بطريقتين.

1- أعط اسم كل طريقة.

2- أكتب البيانات المناسبة على الشكلين التاليين موضحاً الشكل الموافق لكل طريقة:

2- ما هي القارورة التي تعطي كمية أكبر من المغنيزيوم؟ لماذا؟

13 الخلائط المتجانسة وغير المتجانسة (صلب-غاز)



- في رأيك، ما هي بعض مكونات الدخان المنبعث من الموقد؟
- أعط طريقة تجريبية تبين فيها أن الدخان خليط.

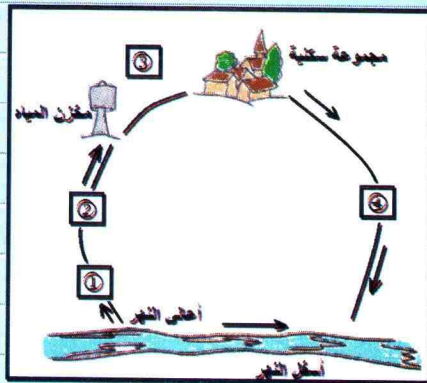
14 مراحل دورة الماء

هذه الوثيقة توضح المراحل المختلفة لدورة الماء ابتداءً من مصدره ثم معالجته وجعله صالحاً للاستعمال في الزراعة والصناعة وتخزينه ثم للاستهلاك العام.

المياه القذرة التي يطرحها الإنسان، أو تلك الناتجة عن الصناعة تعالج (التصفية، نزع الرمل، إزالة الزيوت، المعالجة البيولوجية، ترويق المياه...) ثم تعاد إلى الطبيعة.

أرفق العبارات التالية بالرقم الصحيح الموافق لها في الصورة.

- محطة معالجة المياه القذرة.
- محطة تصفية المياه.
- محطة ضخ المياه.
- تخزين المياه الصالحة للشرب.



2- أذكر اسم كل طريقة.

3- اشرح كيفية العمل.

4- أرسم الشكلين على كراسك ثم أكمل البيانات.

أوظف معارفي

11 مياه البحر خليط متجانس أم خليط غير متجانس؟

قمنا بوزن بيشربه 100mL من الماء فوجدنا القيمة 176,7g، ثم قمنا بوزن نفس الحجم من مياه البحر وكانت القيمة 180,4g. في رأيك، كيف تفسّر هذا الفرق؟
أذكر البروتوكول التجريبي الذي يسمح لك بالتأكد من فرضياتك.

12 الماء المعدني خليط متجانس أم خليط غير متجانس؟

تحمل قارورتان ماء معدني ملصقة بها بعض البيانات كما في الصورة التالية:

القارورة (1)

Minéralisation caractéristique en mg/L	
Calcium : 555	- Magnésium : 110
Sodium : 14	- Sulfate : 1479 - Nitrates : 2,9
Hydrogénocarbonate : 403 :	
pH = 7,0 - 2580 mg/L 180°C	

القارورة (2)

Calcium 167	Chlorures..... 21,5
Magnésium 34	Sulfates 33
Sodium 9	Bicarbonates 890
Potassium 132	بقايا صلبة في الدرجة 180 °C
	950 mg/ litre pH = 6

في حصة الأعمال المخبرية، ولغرض التأكد من أن المياه المعدنية خليط متجانس، أخذ تلميذ كمية من الماء من القارورتين في بيشرين ثم وضعهما على موقد حراري.
بعد مدة معينة لاحظ وجود طبقة بيضاء في قاع كل بيشر.

1- في رأيك مم تتشكل الطبقة؟

مادة المغنيزيوم مهمة جدا لجسم الإنسان، نقصه يُسبب القلق الحاد.

الماء النقي 4

1- الماء النقي

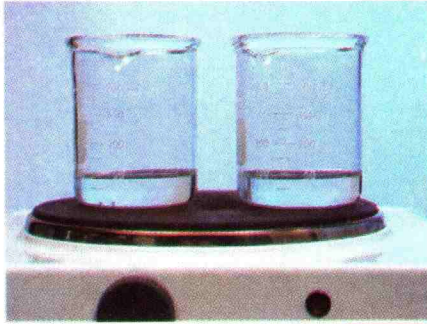
لاشك أنك تذوقت عدة مياه معدنية، وإذا كنت تفضل إحداها عن الأخرى، هذا يعني أنك لاحظت فرقا بينها في الطعم مثلا. ما هو الماء المقطر؟

نشاط 1 هل المياه المعدنية خليط متجانس؟

الوسائل المستعملة : بياشير (سعتها 200mL)، موقد حراري، أربع قارورات مياه معدنية مختلفة، ماء مقطر.


جرب ولاحظ

- خذ كمية من الماء من كل قارورة ماء معدني ثم ضعها في البيشر ورقمها، سخن الماء إلى غاية التبخر الكلي.
- اترك البياشير تبرد (الوثيقة 2)،
- ماذا تلاحظ في قاع كل بيشر؟



وثيقة 1 تبخير كمية من الماء المعدني

- قم بنفس التجربة باستعمال كمية من الماء المقطر وكمية من ماء الحنفية وسخنهما حتى التبخر الكلي للماء. ماذا تلاحظ؟



وثيقة 2 رواسب جافة في قاع البياشير

فسر

- ماذا يكشف تبخر الماء المعدني؟
- ماذا تمثل الرواسب الجافة في قاع كل بيشر؟

تمعن في الوثيقة التالية

إليك ملصقة إحدى قارورات الماء المعدني المستعملة في التجربة السابقة (الوثيقة 3).

التركيب ملغ لتر	Comp.moy mg/litre	التركيب ملغ لتر	Comp.moy mg/litre
كلسيوم	99	كلورور	72
ماغنسيوم	24	نترات	15
بوتاسيوم	2.1	نيتريت	<0.02
صوديوم	15.8	بقايا جالده في 180°م	Résidu à Sec à 180°C : 380
بيكاربونات	265		
سلفات	68		
			pH 7,2

وثيقة 3 ملصقة ماء معدني

- اقرأ البطاقة المسجلة على القارورة.
- هل يمكن أن تميز بالعين المجردة المواد المذكورة في الملصقة؟

استنتج

- هل تمثل المياه المعدنية خليطا؟
- هل الماء المقطر خليط؟



عين بئر شبانا بقصبة الجزائر

نشاط 2 ما هي المعايير التي يجب أن تتوفر في الماء ليكون ماء نقياً؟

الوسائل المستعملة: أنبوب اختبار، بيشر سعته 100mL، قطع جليدية صغيرة تم تحضيرها بوضع ماء نقي في الثلاجة قبل التجربة، خليط (ماء وكحول) وُضع في الثلاجة قبل التجربة، محرار، ميقاتية.

تجربة 1

جرّب ولاحظ

ضع ماء مقطرا في الثلاجة يوما قبل التجربة للحصول على جليد. كسّر قطع الجليد إلى قطع صغيرة ثم ضع كمية منها في أنبوب اختبار واغرس فيه محراراً. ضع أنبوب الاختبار في بيشر به ماء ساخن. أثناء العمل المخبري، عليك توزيع الأدوار في الفوج، ناقش ذلك مع زملائك بتوجيه من الأستاذ. عندما تلاحظ تغير في درجة الحرارة في المحرار، سجّل القيمة التي تقرأها، وقيمة الزمن الموافق للقراءة، ثم املأ جدول هذه القيم. مثل تغير درجة حرارة الماء النقي خلال الزمن على الورقة المليمترية باستعمال سلّم مناسب كما في (الوثيقة 4).



تمثيل درجة الحرارة بدلالة الزمن

وثيقة 4

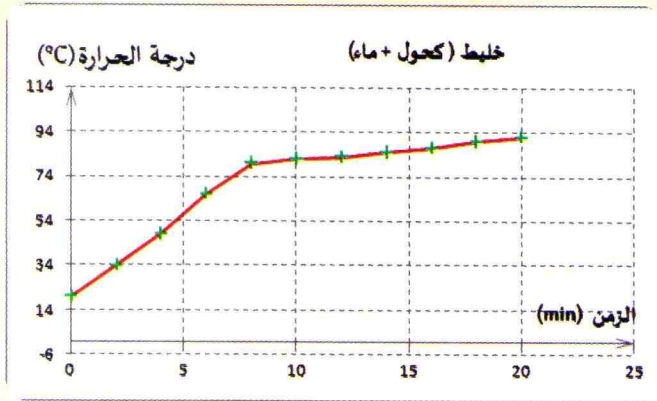
استنتج

- كيف تتغير درجة حرارة الماء النقي خلال التحوّل الفيزيائي من جليد إلى ماء؟
- على البيان، حدد الفترة الزمنية التي توافقت التحوّل في الحالة الفيزيائية؟

استعمال TIC

- امتداد للنشاطات الخاصة بالماء النقي باستعمال تكنولوجيا الإعلام والاتصال:
- ابحث عن معايير نقاء الماء، في شبكة الانترنت وخاصة على الموقع التالي:

www.elbassair.net/memoire/eau2.html



وثيقة 5 تمثيل درجة الحرارة بالنسبة للزمن

تجربة 2

جرّب ولاحظ

أعد التجربة باستعمال الخليط (ماء الحنفية وكحول) (الوثيقة 5).

فسر

● كيف تتغير درجة حرارة الخليط (ماء الحنفية وكحول)؟ هل تزداد دوماً؟

استنتج

● كيف تتغير درجة حرارة الخليط (ماء الحنفية وكحول)؟
● هل يحافظ الخليط على درجة حرارة ثابتة عند تحول حالته الفيزيائية؟

2- توظيف مناسب لثوابت مادة

نشاط

كيف أتأكد من مادة البرغي؟

● كيف أتأكد من أن برغي مصنوع من معدن الفولاذ وليس مصنوع من مادة مغشوشة؟
الثوابت الفيزيائية للجسم المادي معيار نقاء لهذا الجسم كالبصمات بالنسبة للإنسان.
نقترح عليك التأكد من أن المعدن المصنوع منه البرغي مادة ليست مغشوشة.



مخبر مدرج



برغي



ميزان الكتروني

أدوات التجربة

وثيقة 6

التجهيز المتوفر لديك : برغي، مخبر مدرج، ميزان الكتروني، ماء.

انطلاقاً من التجهيز المتوفر، اقترح طريقة تسمح لك بحساب حجم البرغي وكتلته ثم ناقش اقتراحاتك مع زملائك.

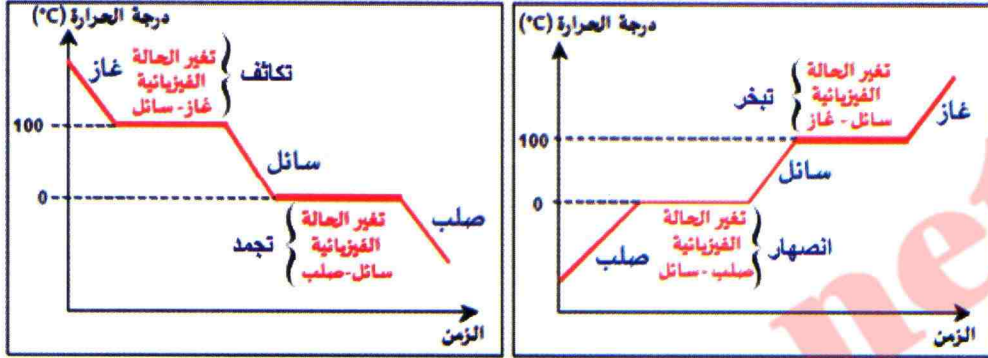
أنجز، مع زملائك بموافقة أستاذك التجارب المناسبة لتتأكد من الاقتراح الصحيح ثم استنتج الكتلة الحجمية للبرغي، ومن ثم قارنها مع القيمة النظامية التي يمكن أن تحملها من موقع الأنترنت مثلاً، أو تستعين بالجدول التالي:

بعض الأجسام النقية وثوابتها الفيزيائية:

الرصاص	الهيليوم	الملح	الحديد	ثنائي أكسيد الفحم	ماء	الجسم النقي الثوابت
327 °C	- 273 °C	801 °C	1535 °C	- 79 °C	0 °C	درجة حرارة الانصهار
1749 °C	- 269 °C	1465 °C	2750 °C	- 57 °C	100 °C	درجة حرارة الغليان
11,3 kg / L	0,18 g / L	2,2 kg / L	7,9 kg / L	1,9 g / L	1,0 kg / L	الكتلة الحجمية
صلب	غاز	صلب	صلب	غاز	سائل	حالة المادة في الدرجة 25°C

ألفظ بالأهم


- الماء المعدني هو ماء يحتوي على مواد معدنية مختلفة، نسبها ثابتة بالنسبة لكل ماء معدني، وهو خليط متجانس.
- تتميز الأجسام النقية عن الخلائط بثوابت فيزيائية معينة تحدد نقاوتها.
- عند تسخين الماء النقي فإنه يبدأ في الغليان والتبخر عند الدرجة 100°C تحت الضغط الجوي العادي وتبقى درجة حرارته ثابتة أثناء التبخر.
- يتجمد الماء النقي عند الدرجة 0°C وتبقى درجة حرارته ثابتة أثناء التجمد.




- إذا كان الماء النقي موجودا في ضغط أقل من الضغط العادي تكون درجة حرارة غليانه أقل من 100°C ، وإذا كان الضغط مرتفعا فإن الماء يغلي في درجة حرارة أكبر من 100°C .
- كتلة 1L من الماء النقي تساوي 1kg.
- كل تحول فيزيائي لجسم نقي يتم في درجة حرارة ثابتة، هذه الدرجة معيار نقاء لهذا الجسم.
- كل جسم يحافظ على درجة حرارة ثابتة عند تحول حالته الفيزيائية فهو جسم نقي.
- كل جسم لا يحافظ على درجة حرارة ثابتة عند تحول حالته الفيزيائية فهو خليط.

تمثيل الجسم النقي بالنموذج الجببي

الجسم النقي يتكون من حبيبات مادة متماثلة، بينما الخليط يتكون من حبيبات مادة مختلفة.



جسم نقي



جسم خليط

أفتبر معارضي

اللون	درجة حرارة التجمد	
الرائحة	درجة حرارة الغليان	
الذوق	كتلة 1 لتر من الماء النقي	
الحالة الفيزيائية		

أطبق معارضي

9 الماء بكل أنواعه

عندما نطلب ماء للشرب غالبا ما ننسى أن الماء يتواجد بأنواع مختلفة .

1- ما الفرق بين الماء المعدني، الماء النقي، الماء الصافي والماء الشروب؟

2- ما هو الماء الذي نستعمله لكيّ الثياب؟ ولماذا؟

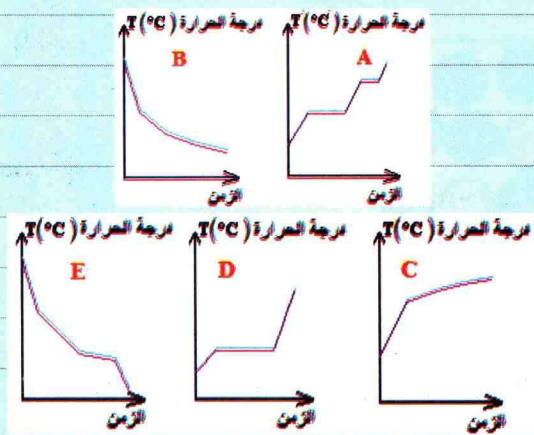
3- أذكر الطرق التي تسمح لك بالحصول على الماء الصافي ثم الشروب ابتداء من الماء العكر.

4- أذكر الطريقة التي تسمح لك بالحصول على الماء النقي ابتداء من الماء الصافي .

10 مخطط التحول الفيزيائي لجسم نقي

التحول الفيزيائي لجسم نقي يتم في درجة حرارة ثابتة، تمثل هذه الدرجة معيار نقاء هذا الجسم .

استنادا إلى البيانات التالية التي تمثل تغير درجة حرارة الجسم بدلالة الزمن، حدد الأجسام النقية من بين هذه الأجسام : D، C، B، A،



1.... هو ماء يحتوي على مواد معدنية مختلفة، نسبها.... بالنسبة لكل ماء معدني، وهو خليط....

2 تتميز الأجسام النقية عن الخلائط.... معينة والتي تحدد....

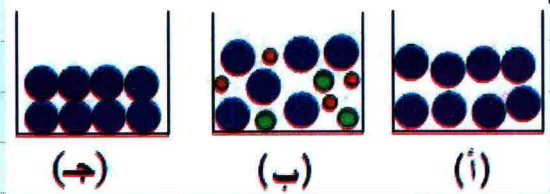
3 عند تسخين الماء النقي فإنه يبدأ في الغليان والتبخّر عند الدرجة.... تحت الضغط الجوي.... وتبقى درجة حرارته.... أثناء التبخّر .

4 يتجمد الماء النقي عند.... وتبقى درجة حرارته.... أثناء....

5 إذا كان الماء النقي موجودا في ضغط.... من الضغط العادي تكون درجة غليانه.... من....، وإذا كان الضغط.... فإن الماء يغلي في درجة حرارة أكبر من....

6 كل تحول فيزيائي لجسم.... يتم في درجة حرارة....، هذه الدرجة.... هذا الجسم.

7 باستعمال النموذج الجببي، مثل تلميذ الماء المعدني والنقي في شكلهما السائل والماء النقي في



في رأيك ما هو الشكل الموافق لكل نوع من الماء والحالة؟ علل جوابك.

8 أكتب بطاقة تعريف الماء النقي في درجة الحرارة العادية وعند الضغط الجوي النظامي بإكمال الجدول الموالي:

– على البيان حدّد ارتفاع المنطقة التي تمكث فيها وتعرّف على درجة حرارة غليان الماء النقي فيها.

13 درجتا حرارة الغليان والانصهار تحت

الضغط الجوي العادي

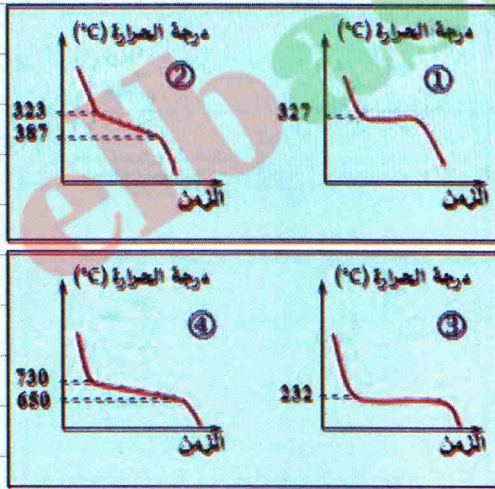
عند نقل الجدول على كراسه، أخطأ تلميذ في تسجيل بعض القيم. صحح الخطأ؟

كلور الصوديوم (ملح الطعام)	البنزين	الماء النقي	درجة حرارة الغليان تحت الضغط الجوي العادي (°C)
1440	5.5	0	درجة حرارة الغليان تحت الضغط الجوي العادي (°C)
	80	100	درجة حرارة الانصهار (°C) تحت الضغط الجوي العادي

– عند كتابة درجة حرارة انصهار ملح الطعام تردد قليلا وأراد أن يكتب 6°C، هل يمكنك مساعدته؟

14 هل المنحنى يوافق جسما نقياً؟

المنحنيات التالية تمثل تغير درجة حرارة أربعة أجسام مادية بدلالة الزمن.



- 1- هل درجة الحرارة تناقصت أم ازدادت أثناء التحول؟
- 2- هل هذه الأجسام نقية أم خليطة؟
- 3- ما هي درجة حرارة تغير الحالة الفيزيائية للسائل ③؟

11 منحنى انصهار الماء النقي

المنحنى التالي يمثل منحنى انصهار الماء.

منحنى الانصهار للماء النقي



1- ما هي الحالة الفيزيائية للماء في اللحظات:

10min، 30min، 50min؟

2- من المنحنى حدد الفترة الزمنية للتحويل الفيزيائي من صلب إلى سائل.

3- هل الماء المستعمل نقي؟

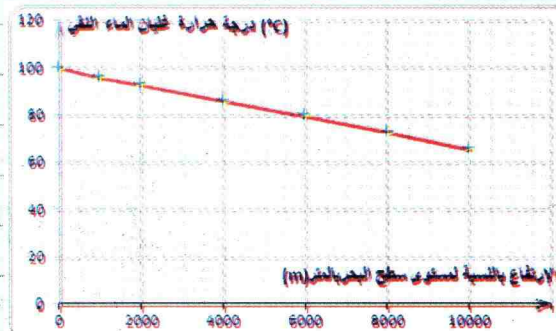
أوظف ما عارفي

12 لماذا نستعمل القدر السريع؟

غالباً ما تلجأ النساء، العاملات منهن خاصة، لطهي المأكولات في القدر السريع وذلك لربح الوقت، لأن مدة الطهي قصيرة.

في 1687 م، اخترع دينيس بابين (Denis Papin) القدر السريع، الذي يسمح بطهي المأكولات في مدة قصيرة تقل بثلاثة أضعاف المدة الزمنية العادية، لأن الضغط داخل القدر قد يصل إلى مرة ونصف قيمة الضغط العادي للماء النقي حينها يغلي في الدرجة 120°C.

البيان التالي يمثل تغير درجة حرارة غليان الماء بدلالة الارتفاع عن مستوى سطح الأرض.



المحلول المائي 5

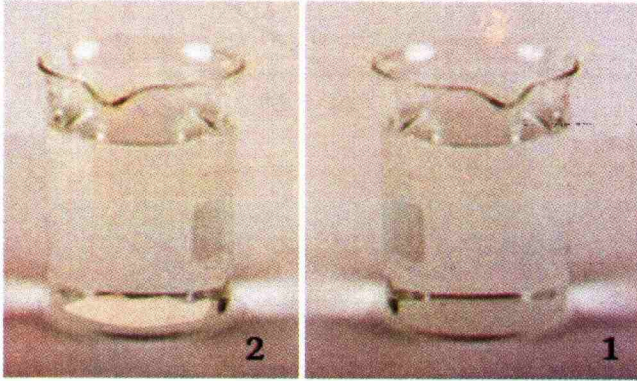
المادة و تهوراتها

الميدان الأول

1 المحلول المائي

1-1- المحلول المائي

نشاط ما هو المحلول المائي؟



وثيقة 1 بيشران بهما ملح ورمل

جرب ولاحظ

– خذ بيشرين واملأهما بالماء إلى النصف ثم ضع في أحدهما ملعقة من الملح وفي الآخر ملعقة من الرمل وقم بخلط كل مزيج (الوثيقة 1).
• ماذا تلاحظ في كل بيشر؟

فسر

- أين ذهب الملح؟
- أي دور لعبه الماء؟ أي دور لعبه الملح؟
- كيف يمكنك الحصول مجددا على الملح؟
- من حياتك اليومية، أعط أمثلة عن مواد تنحل في الماء ومواد لا تنحل في الماء.

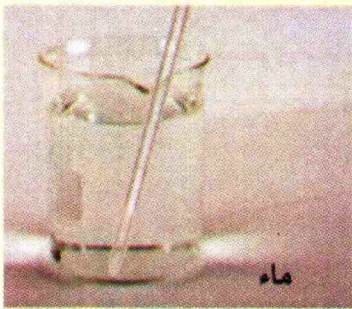
استنتج

- هل الماء يذيب كل الأجسام؟
- كيف نسمي المزيج بين الماء والملح؟
- ماذا يمثل الماء بالنسبة للملح؟ والملح بالنسبة للماء؟

2-1 - تركيز المحلول المائي

نشاط كيف أميز بين محلولين مائين حلويين مختلفين؟

الوسائل المستعملة: بيشران، ماء، قطع من السكر، مشروب التعناع (الوثيقة 2).



بيشر، سكر، ماء، قضيب للخلط

وثيقة 2

جرب ولاحظ

ضع الحجم نفسه من الماء في البيشرين، ثم أضف في البيشر الأول قطعة من السكر وفي الثاني قطعتين من المادة نفسها ثم قم بخلط محتوى البيشرين.

- هل تحصلت على محلولين؟
- لو تقارن بين طعم المحلولين، أيهما سيكون أحلى؟

فسر

● قارن بين المحلولين، كيف تفسر ذلك؟

استنتج

- ما الذي يميز محلولاً مائياً؟
- كيف يمكن التعبير على ذلك بعلاقة رياضية؟
- هل يمكن استعمال وحدات أخرى؟

امتداد للتجربة

- أعد التجربة السابقة بتعويض السكر بقطرات من مشروب الرمان المركز (sirop)، بحيث توضع 10 قطرات من مشروب الرمان في البيشر الأول و30 قطرة في الثاني.
- ماذا تلاحظ بالنسبة لوني البيشرين؟
 - كيف تميز بين المحلولين؟

1-3- تغيير تركيز المحلول المائي

نشاط

كيف أمدد محلولاً مائياً؟

الوسائل المستعملة: بيشر، ماء، ملح (الوثيقة 3)

جرّب ولاحظ


- حضّر محلولاً مائياً بإذابة ملعقة ملح في حجم من الماء ثم أضف للمحلول حجماً من الماء.
- برأيك كيف تكون ملوحة المحلول الثاني نسبة للأول؟
- لو أردت استعادة طعم المحلول الأول انطلاقاً من المحلول الثاني، ماذا يجب فعله، حسب رأيك؟

فسر

- كيف تكون قيمة تركيز المحلول الثاني نسبة للمحلول الأول: أصغر أم أكبر أم نفسها؟

استنتج

- كيف يمكن تسمية العملية التي يتم فيها إضافة الماء لمحلول مائي؟



ملح وماء وبياشير

وثيقة 3



بيشر به ماء، ميزان، حوجلة بها ملح

وثيقة 4

2 أين كتلة المنحل في المحلول؟

نشاط انحفاظ الكتلة في المحلول المائي

الوسائل المستعملة: ميزان، بيشر،
حوجلة بها ملح، ماء. (الوثيقة 4)

1 تجربة

- ضع في بيشر كمية من الماء، ثم ضعه في كفة ميزان مع الحوجلة التي بها كمية قليلة من الملح .
حقق توازن الميزان .
- ثم ضع الملح في البيشر واخلط جيدا حتى الحصول على محلول، ضع من جديد البيشر والحوجلة
على الكفة نفسها .
- ماذا تلاحظ؟

فسر

- كيف تسمي الخليط الناتج؟
- هل تغيرت الكتلة خلال عملية الانحلال؟
- مثل بالنموذج الجببي المحلول الناتج .

استنتج

- ماذا يمكنك القول حول كتلة كل من المذيب والمذاب خلال الانحلال؟

2 تجربة

- قم بنفس العمليات السابقة ولكن باستعمال بيشرين، أحدهما فيه حجم من الماء والآخر حجم من
الكحول . قم بوزن البيشرين ثم صب محتوى احدهما في الثاني وزن المجموعة .ماذا تلاحظ؟

فسر

- ماذا يمكنك القول حول الكتلة عند حدوث عملية الانحلال؟

استنتج

- هل تغيرت الكتلة عند الانحلال؟

استعمال TIC

- امتداد لنشاطات المحاليل المائية باستعمال تكنولوجيا الإعلام والاتصال :

قم بزيارة مواقع الأنترنت التالية للتعرف عن انحلال بعض المواد في الماء والمحلول المشبع :

www.phet.colorado.edu/fr/simulation/legacy/eating-and-exercise

www.phet.colorado.edu/fr/simulation/legacy/sugar-and-salt-solutions

أمتفض بالآهم


- يتكون المحلول المائي من الماء ومن جسم (أو أجسام) منحلّة به .
- الماء يلعب دور المَحِل (المذيب) والجسم المنحل به يلعب دور المنحل (المذاب).
- عندما لا يمكن أن نحلّ مزيداً من المنحل في الماء، نقول إن المحلول مشبّع.
- نميز المحلول المائي بكمية المنحل المنحلّة في حجم معيّن من الماء .

- نسمى تركيز المحلول المائي كتلة المنحل المذاب في لتر من الماء .
- يمكن قياس التركيز بـ g/L .
- كلما كانت كمية المنحل كبيرة، كلّما كان المحلول أكثر تركيزاً .
- إذا كان للمنحل طعم، كلما زاد تركيز المحلول، كلّما زاد الطعم شدة، وإذا كان المنحل ذا لون، كلما زاد تركيز المحلول، كلما زاد اللون شدة .
- كلما كانت كمية المنحل صغيرة، كلما كان المحلول أقل تركيزاً أو ممدّداً .


- التمديد هو العملية التي من خلالها نخفّض من تركيز محلول مائي ما .
- يمكن استعادة المادة المنحلّة عن طريق التسخين حتى تبخر الماء كلية .



تمديد مشروب الرمان



التسخين لاستعادة الملح المنحل



انحلال الملح في الماء

- خلال عملية الذوبان، تبقى كتلة المواد المنحلّة والمحلّة محفوظة، أي مجموع كتلتي المذيب والمذاب قبل الانحلال وبعده ثابت

أفتبر معارضي

1 أكمل الفراغ في الفقرة التالية:

عندما نذيب الملح في الماء، يمثل ... المذيب بينما الملح هو.... والخليط المتحصّل عليه.... ويسمى محلولاً....

نحصل على محلول عندما يذيب ... المذاب. إذا كان ... هو الماء نقول أن المحلول..... عصير الليمون خليط.... بينما شراب النعناع خليط....، لذا ندعوه....

2 اختر الإجابة الصحيحة:

عندما نذيب الملح في الماء: الملح هو:

أ- المذيب ب- المذاب ج- المحلول

عندما نذيب السكر في الماء: السكر هو:

أ- المذاب ب- المحلول ج- المذيب

من هذه الأجسام الصلبة، أيها تنحل في الماء؟

أ- السكر ب- الملح ج- حبات الأرز

د- الرّمّل هـ- القهوة المطحونة

3 يمكن تحضير محلول:

أ- بخلط سائلين غير متمازجين ب- بخلط جسم

صلب لا ينحل مع الماء.

ج- بخلط جسم ينحل مع الماء د- بإضافة أي

جسم صلب للماء الساخن

4 أكمل الجمل التالية:

عند إجراء عملية تمديد على محلول مائي،

تركيزه.

عندما نخفّض حجم الماء في محلول ما،

تركيزه.

5 شكّل فقرة بالأجزاء التالية:

(الماء المقطّر) - (يحتوي على أملاح معدنية

منحلّة.) - (خليط متجانس) - (لا يحتوي على

مواد منحلّة) - (ماء الحنفية) - (ماء نقى) -

(بينما)

6 أكمل الجمل التالية:

المحلول المائي المشبع هو الذي....

عندما نضيف لمحلول مائي مشبع بالملح كمية زائدة من الملح، نلاحظ.... في قاع الوعاء.

7 كيف نسمي المحلول المائي الملحي المتحصّل

عليه عندما لا نستطيع أن نحل فيه زيادة من

الملح؟

وإذا أضفنا له كمية زائدة من الملح، ماذا

يحصل؟ كيف نسمي هذا المحلول؟

8 نسمي تركيز محلول مائي النسبة بين

.... المنحل وحجم.... ويمكن كتابة العلاقة

بينهما كما يلي..... $c = \frac{m}{V}$


اختر الإجابة الصحيحة:

وحدة التركيز هي

أ- $\frac{g}{L}$ ب- $\frac{L}{g}$ ج- $g \times L$

أطبق معارضي

9 أرتب المحاليل حسب تركيزها



إنّ برمنغنات البوتاسيوم مادة كيميائية تستعمل

في تطهير الجروح وفي وقف سيلان الدم، نجدها

على شكل حبيبات بنفسجية.

تمّ تحضير مجموعة من أنابيب اختبار تحتوي على

محاليل لبرمنغنات البوتاسيوم بتراكيز مختلفة.

- رتّب الأنابيب حسب التراكيز المتزايدة

15 أقرأ ملصقة للمياه المعدنية

ملصقة للمياه المعدنية تحمل المعلومات التالية:

Comp. moy mg/litre	التركيب ملغ اللتر	Comp. moy mg/litre	التركيب ملغ اللتر
Calcium	99	Chlorures	72
Magnesium	24	Nitrates	15
Potassium	2.1	Nitrites	<0.02
Sodium	15.8	Résidu à Sec à 180°C : 380	بقايا جافة في 180°
Bicarbonates	265		
Sulfates	68	pH 7.2	

1- ما تأثير كل من الكالسيوم والمغنيزيوم على جسم الإنسان؟

2- إن كمية المغنيزيوم التي يحتاجها الإنسان كل يوم هي 6mg لكل كيلوغرام من كتلة الجسم؛ أ- ما كمية المغنيزيوم التي يحتاجها يوميا جسم كتلته 30 kg؟

ب- ما حجم الماء المعدني اللازم تناوله من أجل ذلك؟ ما رأيك؟

ج- كيف يمكنك توفير الكمية اليومية اللازمة؟ ابحث عن أهم مصادر غذائية للمغنيزيوم.

3- ماذا تعني العبارة "بقايا جافة عند 180°C"؟

16 الملوحة في المياه

نسبة الملوحة في مياه البحر الأبيض المتوسط 35 g/L وفي المحيط الهادي 10 g/L وفي البحر الميت تبلغ الملوحة 79 g/L.

1- أين يقع البحر الميت؟ لماذا نُعتَ بالميت؟

2- في رأيك، ما سبب التفاوت في الملوحة بين هذه البحار؟

17 استخراج الملح من الملاحات

لحوض ملاح الأبعاد التالية: الطول $L = 50 m$ والعرض $l = 10 m$ والعمق $h = 50 cm$. نملاه

بماء البحر الأبيض المتوسط ملوحته قدرها $35 g/l$

1- أين تقع الأحواض المستعملة لاستخراج الملح من مياه البحر؟ لماذا؟

2- لماذا عمق هذه الأحواض ضعيف؟

3- ما هي العملية الفيزيائية التي تحدث في الحوض من أجل استخراج الملح؟

4- ما هي العوامل التي تساعد على هذه العملية؟

5- ما كمية الملح المستخرج في الحوض عند كل عملية؟

10 أحضر محلولاً مائياً

حضر مراد محلولاً مائياً باستعمال حجم من الماء قدره 500 mL و 10 g من ملح الطعام.

1- أحسب تركيز هذا المحلول بملح الطعام.

2- أضاف مراد لهذا المحلول كتلة من الملح تساوي 2 g، كم تصبح القيمة الجديدة للتركيز؟

11 أحضر شرباً حلواً

أرادت لينة أن تحضر 200 mL من محلول مائي للسكر تركيزه 200 g/L لتستعمله كشراب في تحضير حلوى. بحوزتها ميزان المنزل، كؤوس من مختلف السعات، كأس منزلي لقياس الكميات (verre doseur).

- ساعد لينة على تحضير الشرب باقتراحك عليها الخطوات التجريبية اللازمة.

12 أحول وحدات التركيز

محلول مائي ملحي يحتوي 100 mL منه على 5 g من الملح.

1- ما تركيز هذا المحلول بـ g/L؟

2- ما تركيزه بـ kg/m³؟

أوظف مهاراتي

13 السكر في جسم الإنسان

بالنسبة لإنسان عادي، نسبة الغلوكوز في دمه، عندما يكون صائماً، هي 1 g/L تقريباً،

1- ما كتلة الغلوكوز في دم إنسان بالغ حجمه من الدم 5 L؟

2- هل يمكن أن تبلغ 10 g/L؟

3- ما هو المرض الناتج عن الزيادة في نسبة الغلوكوز في الدم، وكيف يمكن أن نتجنبه؟

14 كيف تتنفس الأسماك؟

بعض الأسماك تعيش في أعماق البحار والمحيطات ولا تصل إلى سطح المياه.

في رأيك كيف تتنفس؟

مشروع تكنه لوجيا

المادة و تعوياتها

الميدان الأول

من المياه الطبيعية إلى الماء الشروب

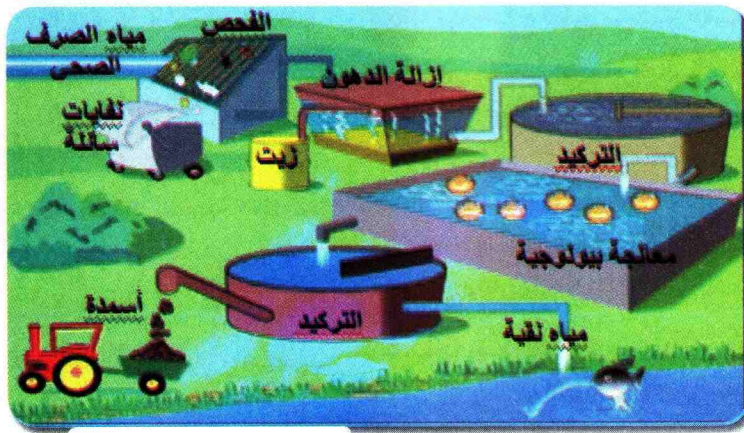
الماء هو الحياة

يشكل الماء مصدر حياة الإنسان والحيوان والنبات، فهو مرتبط بجميع المجالات : الطاقة، الصحة، التغذية، النظافة، الاغتسال، النقل وحتى الألعاب... إلخ فكل مساس بهذه المادة الحيوية من جراء سلوكات سيئة للإنسان (تبذير الماء الشروب، صب النفايات السامة في مجاري الأنهار، الإفراط في استعمال المواد الكيميائية في الزراعة...)، يحدث اضطرابا في الحياة البيئية بكاملها. ونظرا لندرة الماء أحيانا، فلقد لجأ الإنسان في عدة بلدان إلى تحلية مياه البحر.



محطة تحلية مياه البحر بالمقطع، وهران

فأهمية الماء في الحياة تتطلب من الجميع الحفاظ عليه بضمان حسن التصرف اتجاهه، وذلك بممارسات يومية تخص التعامل المعتدل مع الماء : في ترشيد الإستهلاك، في كيفية معالجة المياه المستعملة والمياه الطبيعية.



محطة تحلية مياه الصرف الصحي

وبهدف حماية البيئة والحفاظة على البشرية، تقوم بعض الدول المتقدمة بتنقية المياه الملوثة قبل أن تلقيها في الأنهار والبحار، كما تقوم بعمليات تحسيس مواطنيها منذ الطفولة.

هناك مصادر عديدة للماء الشروب وهي :

1. مياه الحنفية: معالجة وفقا لمعايير بيولوجية، فيزيائية وكيميائية.
2. المياه المعالجة بواسطة جهاز تيسير يوصل بماء الحنفية للتخلص من الكميات المرتفعة للأملح المضرة.
3. مياه جوفية: مخزنة في باطن الأرض محمية من التلوث.
- مياه استخرجت من باطن الأرض ثم تعرضت للتهوية، للصفق والترشيح للتخلص من الغاز، الحديد والمنغنيز.
- مياه طبيعية غازية أو في بعض الأحيان مغوزة (إضافة الغاز) قبل عملية التعليب.
- مياه معدنية مستقرة غنية بالعناصر المعدنية المفيدة للصحة، وتكون عادة غير معالجة.

بالإضافة إلى ما سبق ذكره، هناك أيضا مياه الأمطار والوديان، وأخيرا مياه الصرف الصحي الناتجة عن نشاطاتنا اليومية من غسل الملابس، الطبخ والتنظيف... إلخ

إنجاز نموذج مبسط لمخطة تصفية المياه الطبيعية

في هذا المشروع، تدرب على بعض التقنيات بهدف إنجاز محطة تطهير المياه مع مجموعة من زملائك

الوسائل الضرورية:

4 قارورات بلاستيكية فارغة ذات حجم 1.5L، قارورة بلاستيكية ذات حجم 5L، قمع، إناء زجاجي، غربال، ورق ترشيح، إبرة.

1- تحضير الماء الطبيعي

حضر كمية من الماء الطبيعي من الوديان أو مجاري المياه مثلا أو بمزج ماء الحنفية بالأتربة والشوائب (صابون، دسم، بقايا طعام) وضعها في القارورة البلاستيكية ذات الحجم 5L



2 - الغريلة

أسكب الماء الذي تحصلت عليه في إناء وضع فوقه غربالاً .



● إذا كانت هناك فضلات معرقلة، بماذا تستعين قبل إجراء الغريلة حتى لا تسد ثغور الغربال ؟

3 - التركيز

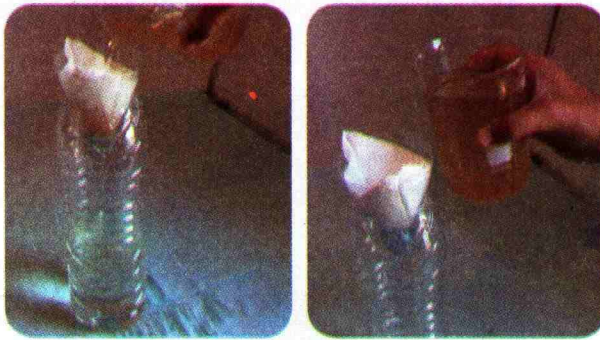
صب الماء المتحصل عليه بعد الغريلة وضعه في إناء آخر بلاستيكي أو زجاجي لتترسب الأتربة والمواد الصلبة الأخرى إلى الأسفل .
اترك العملية تستمر لبعض الدقائق حتى تتحصل على محلول مائي متجانس .



4 - الترشيح الأول

خذ مرشحا ورقيا وضعه بإحكام على قمع زجاجي (أو قمع بلاستيكي تصنعه باستعمال الجزء العلوي لقارورة بلاستيكية)، ثم ضع القمع فوق قارورة بلاستيكية فارغة وقم بسكب المحلول المائي الذي تحصلت عليه بعد التركيز .

● ماذا تفعل عندما لا يكون لديك ورقة ترشيح ؟



5- الترشيح الثاني

خذ قارورة بلاستيكية فارغة وضع بداخلها كمية من الرمل الناعم (حوالي 10cm من الارتفاع على مستوى القارورة) ثم أضف كمية من الحصى المتوسط وبعدها الحصى الأكبر لتشكل طبقة ثانية فوق الرمل . احدث ثقباً صغيراً في قاعدة القارورة وارفعها قليلاً وقم بسكب المحلول المائي المرشح سابقاً . يمكنك ملاحظة اختفاء آثار الدهون . وبهذه الكيفية، يمكنك التقاط سائل شفاف نقي ولكن غير صالح للشرب .

- كيف تحصل على ماء صالح للشرب؟ من الذي يمنعك من الوصول إلى هذه النتيجة؟ لماذا؟



أذهب بعيداً

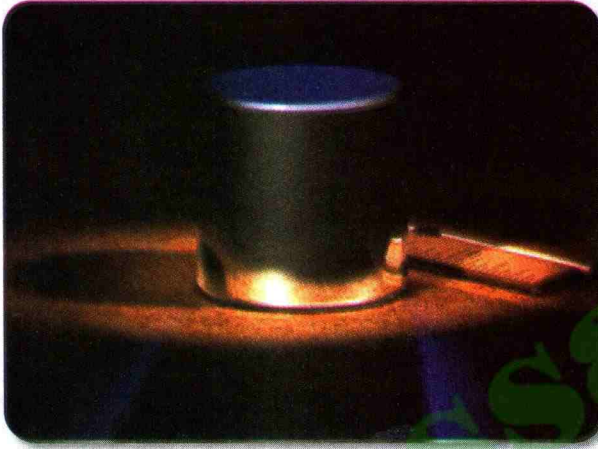
- ابحث عبر شبكة الأنترنت في موضوع معايير الماء الشروب ثم لخصها في لوحة علمية جميلة، يمكن الاستفادة منها في مدرستك وفي محيطك .
- اعتماداً على تعلمك بعض تقنيات المعالجة الخاصة بالمياه واطلاعتك على كيفية اشتغال محطات معالجة المياه، أنجز مع زملائك مشروعاً حقيقياً لمعالجة المياه تصل به في الأخير إلى ماء شروب .



1 - تاريخ بعض وحدات القياس



متر عياري



كيلوغرام عياري



الذراع في عهد الفراعنة

استعمل الناس، منذ القدم، وحدات في تبادلاتهم التجارية، من وحدات الطول والحجم والكتلة... إلا أن هذه الوحدات كانت تختلف من بلد لآخر وأحياناً من مدينة لأخرى. كمثال عن هذه الوحدات، الشبر والذراع بالنسبة للطول، والصاع بالنسبة للحجم وطبعاً اختلاف طول الذراع من شخص لآخر يؤدي إلى عدم التفاهم بين المتعاملين.

مع نهاية القرن الثامن عشر الميلادي، أسندت لهيئة علمية مهمة تأسيس نظام قياسات يصلح لكل الشعوب ولكل زمان، وتم هكذا اختيار وحدة المسافة على أنها الجزء الواحد على 40 مليوناً من محيط الكرة الأرضية عند خط الاستواء، وسُميت هذه الوحدة بالمتر.

كما تم اختيار وحدة للكتلة، الكيلوغرام، على أنها كتلة 1 dm^3 (واحد لتر) من الماء النقي عند درجة من الحرارة قدرها 4°C ، وهي الدرجة من الحرارة التي تكون للماء أكبر كثافة.

لم يبق إلا أن تصنع هذه الوحدات، فتم في البداية، إسناد صناعة الكيلوغرام للعالم الفرنسي لافوازييه سنة 1791 ولكن توفي قبل نهاية المهمة. وتواصل العمل حتى تمت صناعة الكيلوغرام على شكل اسطوانة من معدن البلاتين قطره يساوي ارتفاعه وهو 39 mm .

كما اتفق العلماء على إنشاء نظام موحد للوحدات، يدعى النظام الدولي للوحدات يشمل مجموعة من الوحدات الرئيسية منها: المتر، الكيلوغرام، الأمبير، الثانية...

السؤال:


رغم تبني الناس في كل العالم وحدات النظام الدولي، يبقى الكثير ممن يتعامل بوحدة قديمة لا تركز على العلم، أذكر البعض من هذه الوحدات والبلدان التي تتداول فيها: مثلاً اليارد.....
قم ببحث حول تاريخ المحرار.

2 - استخراج الملح



ملح غذائي

إن ملح الطعام، أو كلور الصوديوم باسمه الكيميائي، من أقدم المواد المستعملة من طرف الإنسان عبر التاريخ، نظرا لأهميته في الطعام وفي المحافظة على بعض المأكولات (لحوم الحيوانات، أسماك) أو الجلود. تعود بداية استعماله إلى 6000 سنة قبل الميلاد. وازداد استهلاك هذه المادة بسبب استعمالها في الصناعات المختلفة (الورق، المعادن، الصابون، مواد التنظيف والتجميل، صناعة الجلود...). والملح متواجد بكثرة في البحار والمحيطات، ما يسمح للإنسان باستغلاله بطريقة صناعية.



مخطط لملاحية

ومن بين طرق استخلاص الملح، استغلال الإنسان للملاحات ليستخرج ملح البحار والمحيطات. وبصفة مبسطة، الملاحية عبارة عن حوض بجوار البحر أو المحيط يتكون من عدة أجزاء: يدخل الماء من الجزء (1)، ما يسمح لخضوع الماء لعملية



ملح صناعي

تركيد قصد ترك الأتربة في قاع هذا الجزء، ثم يمر على سلسلة من الأحواض الصغيرة (2) حيث يزداد تركيز الماء، ثم الجزء (3) وأخيرا يصل إلى الجزء (4) حيث العمق ببعض السنتيمترات ما يسمح للماء أن يتبخر تحت تأثير حرارة أشعة الشمس والرياح خاصة إذا كان الجو جافا، فيتم نزع الملح بواسطة ممسحات.



صفائح من الملح بجبل المالح، ولاية بسكرة

كما توجد مناطق أخرى غير البحار يستخلص الملح منها لكميات صناعية، باستعمال تقنيات وأجهزة متطورة. لاستعمال هذا الملح في المواد الغذائية، يجب معالجته باليود.

بالجزائر، توجد شركة مختصة في إنتاج الملح بكمية تقدر بـ 400000 طن من الملح سنويا.

السؤال:

ما هي طرق إنتاج الملح بالجزائر، وأين؟
في رأيك، لماذا يجب معالجة الملح باليود؟

1- بعض القياسات

-8

$$350 \text{ g} = 0,35\text{kg} , \quad 3,2 \text{ cg} = 0,032\text{g}$$

$$2,7 \text{ g} = 2700\text{mg} , \quad 800 \text{ dg} = 0,8\text{hg}$$

$$2,3 \text{ t} = 2300\text{kg} , \quad 86 \text{ dag} = 8600\text{dg}$$

$$2\text{q} = 200\text{kg} , \quad 45 \text{ dg} = 4500\text{mg}$$

26- حجم الجرعة : بما أن كتلة القطعة 4,5 kg

$$V_1 = 4,5 \times 2 = 9 \text{ mL}$$

29- حساب حجم العلية :

$$V_1 = 5 \times 2 \times 1 = 10 \text{ cm}^3$$

- يرتفع سطح الماء في البيشر بـ 10 cm^3 فيشير

إلى التدريجة 110 cm^3 .

- حجم الجسم الثاني :

$$V_2 = V - V_{\text{عم}} - V_1$$

$$V_2 = 150 - 100 - 10$$

$$= 40 \text{ cm}^3$$

- التدريجة التي يشير إليها هي :

$$100 + 40 = 140 \text{ cm}^3$$

2- حالات المادة وتحولاتها

6- الرسم الصحيح (3) ، لأن حبيبات المادة في

الجسم الغازي متباعدة جدا عن بعضها البعض

و مضطربة، فهي تتحرك في كل الاتجاهات مما

يفسر توسع الغاز في كامل الفضاء الذي يحيط

به وليس في جزء منه.

ما، ② مادة صلبة.

15- 1- الجواب الصحيح هو (2) لأن حجم

الجليد أكبر من حجم الماء السائل بمقدار 10%

2- الجواب الصحيح هو (ب) لأن الكتلة لا تتغير

أثناء التحول الفيزيائي .

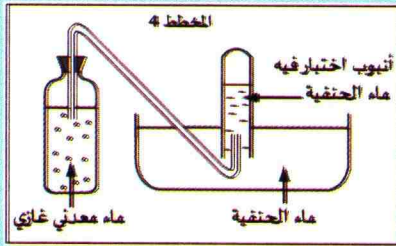
17- 1- من الخصائص الفيزيائية للغازات أنها

قابلة للتمدد. بالتالي يجب أن تُنكس أنبوب

الاختبار مملوءا بالماء داخل الجوض لتلقي الغاز.

المخططات كلها خاطئة ماعدا المخطط (4).

المخطط الصحيح :



2- تعكس رائق الكلس يدل على انطلاق ثنائي

أكسيد الفحم.

19- نستعمل النسبة المئوية :

$$100\text{kg} \text{ يوافق } 60\text{kg}$$

$$x = \frac{60 \times 10}{100} = 6\text{kg} \quad 10\text{kg} \text{ يوافق } x \text{ ومنه :}$$

20- 1- الترتيب الصحيح من اليسار إلى

اليمين : A B F C D E

2- الجواب الصحيح هو (ب)

3- الجواب الصحيح هو (ب)

3- الخلائط

-10

1- (أ) الخليط غير متجانس.

(ب) الخليط متجانس.

2- (أ) الفصل بالإبانة. (ب) الفصل

بالترشيح .

3- أنظر « البطاقة المخبرية »

5- المحلول المائي

1- عندما نذيب الملح في الماء، يمثل الماء المذيب بينما الملح هو المذاب والخليط المتحصّل عليه **متجانس** ويسمى محلولاً مائياً.

نحصل على محلول عندما يذيب المذيب المحلول مائي. إذا كان المذيب هو ماءً نقول إن المحلول مائي.

عصير الليمون خليط غير متجانس بينما شراب النعناع خليط متجانس، لذا ندعوه محلولاً.

5- الماء المقطّر ماء نقي لا يحتوي على مواد منحلّة، بينما ماء الحنفية خليط متجانس يحتوي على أملاح معدنية منحلّة.

9- ترتيب المحاليل: 4 ثم 2 ثم 1 ثم 5 وأخيراً 3

13- كتلة الغلوكوز في جسم الإنسان:

$$m = 5 \times 1 = 5g$$

لا يمكن أن تبلغ $10g/L$. المرض الناتج عن الزيادة في السكر هو السكري، ويمكن تجنبه باتباع نمط من العيش مبني على الأكل الصحي (قليل من السكريات والدهون) والمداومة على النشاط الرياضي.

-12

1- تتشكل طبقة من أملاح موجودة في الماء.

2- المياه التي تعطي كمية أكبر من المغنيزيوم هي مياه القارورة (1) لأن كميتها تساوي:

$110mg/L$ ، بينما في القارورة (2) يوجد فقط $34mg/L$

14- ① محطة ضخ المياه.

② محطة تصفية المياه.

③ تخزين المياه الصالحة للشرب.

④ محطة معالجة المياه القذرة.

4- الماء النقي

10- الأجسام النقية هي: A.

في البيان نلاحظ أن التحول في الحالة الفيزيائية يحدث عند ثبوت درجة الحرارة.

11- 1- صلب - سائل + صلب - سائل.

2- 3- بما أن التحول في الحالة الفيزيائية

(انصهار) يحدث عند درجة الحرارة ثابتة $0^\circ C$

، فإن الماء المستعمل نقي.

12- نعتبر مثلاً ارتفاع المنطقة 2000 متر،

نحدد هذه القيمة على البيان ثم نسقط على

محور الترتيب و نقرأ بالتالي درجة غليان الماء

النقي $60^\circ C$.

الميدان الثاني الظواهر الكهربائية

إن اكتشاف الكهرباء غير حياة الإنسان كلياً حيث أصبح استعمالها يمس جميع مجالات الحياة اليومية.

الطريقة المستعملة لإنارة الطريق غير ملوثة للبيئة، لأن الكهرباء منتجة هنا بالألواح الشمسية. • ما نوع المصابيح المركبة على الأعمدة؟





الأسطوانات الزجاجية في العمود الكهربائي تعزل كهربائياً الكوابل الناقلة للكهرباء. • هل يمكن للتيار الكهربائي أن يسري في كل مادة؟

يستعمل الإنسان بكثرة مختلف الأصناف من الأعمدة الكهربائية ولا يبالي أحياناً في كيفية رسكلتها عندما تفسد، فيكون مصيرها مع النفايات في القمامات. • ما هي المواد المكونة لها وكيف يمكن معالجتها؟



إن التركيبات الكهربائية داخل منازلنا تضم شبكة من الدارات التي تزود مختلف الأماكن بالكهرباء. • ما هي مختلف العناصر المكونة لهذه التركيبات؟ وما هي قواعد الأمن في التعامل معها؟






وضعية للدراسة، يمكن معالجتها كاملة بعد الانتهاء من دراسة ميدان الظواهر الكهربائية.

في إطار تفعيل جمعية الحي، اجتمع سكان عمارتكم واتفقوا على إجراء بعض الأشغال لتحسين المحيط وتوزعوا على مجموعات عمل ومتابعة، وكنت ضمن إحدى الفرق التي أوكلت لها مهمة تصليح إضاءة سلالم العمارة. وأعطيت لكم التعليمات التالية:

- كشف مواضع الخلل وسبب عدم اشتعال بعض المصابيح.
- إنجاز مخطط كهربائي لدارة سلالم العمارة ليبقى دليلاً عملياً للمستقبل.
- تغيير وتركيب قاطعة جديدة على مستوى كل طابق.
- إجراء محاكاة بتركيبات الدارة قبل بداية الأشغال.
- إنجاز بطاقة توصيات بالأمن الكهربائي والمحافظة على الصالح العام.



صورة لعمارة بعض سلالمها مضاءة وأخرى منطفئة




الدارة الكهربائية 6

1 ما هي الدارة الكهربائية ؟

1-1 - مفهوم الدارة الكهربائية

1 نشاط عناصر الدارة الكهربائية

لديك العناصر الكهربائية المبينة (الوثيقة 1) : عمودان، مصابيح، أسلاك توصيل مختلفة



وثيقة 1 عناصر كهربائية

استكشف :


- أرسم على الورق التركيبات الممكنة التي تسمح باشتعال المصباح.
- ناقش اقتراحاتك مع زملائك بتوجيه من الأستاذ.
- جسد عمليا التركيبات المناسبة لاشتغال المصباح.

استنتج :

- ما هو الشرط الذي ينبغي تحقيقه في دارة كهربائية مكونة من عمود كهربائي ومصباح وقاطعة وأسلاك توصيل حتى يشتغل المصباح ؟

2 نشاط إنجاز دارة كهربائية

لديك التجهيز التالي : عمود مسطح، مصباح، محرك، قاطعة، صمام ضوئي، أسلاك التوصيل



وثيقة 2 تركيب الدارة

1 تجربة

جرب ولاحظ


- أنجز التركيب المبين في (الوثيقة 2)
- ما دور القاطعة في هذه الدارة ؟

فسر

- هل يضيء المصباح عندما يحدث انقطاع في الدارة الكهربائية ؟

استنتج :

- كيف يجب أن تكون الدارة الكهربائية حتى تشتغل العناصر الكهربائية كالعمود الكهربائي والمصباح والقاطعة والأسلاك الكهربائية ؟



وثيقة 3 تركيب الدارة

تجربة 2

جرّب ولاحظ

- أنجز الدارة الكهربائية المبينة في (الوثيقة 3)
- أترك المحرك يشتغل ثم اعكس مربطيه في الدارة .


• ماذا تلاحظ؟

فسّر

- ماذا يحدث لجهة دوران المحرك عندما نعكس كيفية ربطه بقطبي العمود؟

استنتج

- هل مربط المحرك مائلان لمربطي المصباح؟ لماذا؟



وثيقة 4 تركيب الدارة

تجربة 3

جرّب ولاحظ

- أنجز الدارة الكهربائية المبينة في (الوثيقة 4)
- بماذا يتميز الصمام الضوئي مقارنة بالمصباح؟

فسّر

- هل يضيء الصمام الضوئي عندما يكون مربوطاً بأي كيفية مع العمود الكهربائي؟

استنتج

- هل يمكن استعمال الصمام الضوئي للإضاءة في دارة كهربائية؟



وثيقة 5 تركيب جزء من الدارة

نشاط 3 المواد المشكلة للدارة الكهربائية

- لديك العناصر الكهربائية التالية: عمود مسطح، مصباح، أسلاك توصيل، والأدوات التالية: ممحاة، ورقة، مدار معدني، مسطرة بلاستيكية، ورق ألمنيوم، قضيب زجاجي، قطعة نقدية.

تجربة

جرّب ولاحظ

- أنجز الدارة الكهربائية المبينة في (الوثيقة 5)
- أغلق الدارة في كل مرة بوضع إحدى الأدوات المذكورة بين الماسكتين ولاحظ حالة المصباح.

• فسّر كيف يجب أن تكون المادة الموضوعه في الدارة حتى يضيء المصباح؟ أعط مثالا.

استنتج






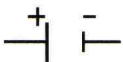



- حدّد من بين المواد المستعملة أيها ناقلة و أيها عازلة للكهرباء؟

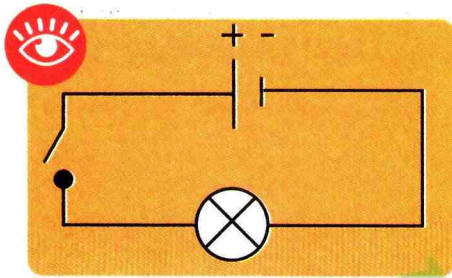
1 - 2 الرموز النظامية للعناصر الكهربائية

نشاط

إنجاز مخطط دائرة كهربائية

تَمَنَّ في الجدول: كل عنصر كهربائي يوافق رموز نظامي متفق عليه:

	محرك	عمود كهربائي	قاطعة	مصباح
العنصر الكهربائي				
الرمز النظامي			قاطعة مفتوحة:  قاطعة مغلقة: 	



مخطط لدائرة كهربائية

وثيقة 6

• يمكن إذاً تمثيل الدارة الكهربائية الموافقة للتجربة الأولى

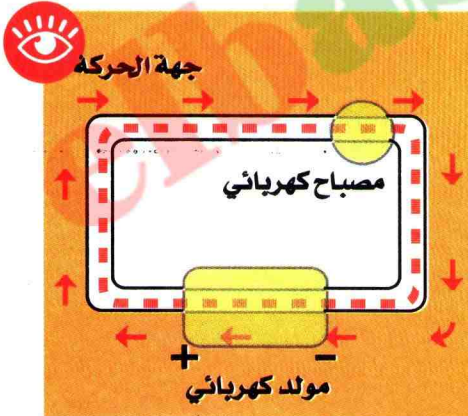
من النشاط 2 بالمخطط المبين في (الوثيقة 6).

• أنجز مخططات الدارات الكهربائية المدروسة سابقاً مع البحث عن الرمز النظامي للصمام الضوئي .

استنتج

• كيف تمثل دائرة كهربائية؟

1 - 3 النموذج الدوراني للتيار الكهربائي



النموذج الدوراني للتيار الكهربائي

وثيقة 7

النموذج نقترح عليك نموذجاً يسمح بشرح ما يجري في دارة كهربائية:

يمكن تمثيل ما يجري في دارة كهربائية بدقائق مادية صغيرة جداً تنتقل داخل أسلاك التوصيل والأجهزة الكهربائية والمولد الكهربائي وفق حركة منتظمة من القطب الموجب نحو القطب السالب للمولد .

- تتواجد الدقائق المادية في كل الدارة بحيث تملأ بشكل كامل هذه الدارة .

- يلعب المولد دور المضخة في تحريك الدقائق المادية .

- عند ربط العناصر الكهربائية فيما بينها في الدارة بسلسلة من النواقل، نقول إن الدارة مغلقة

- يسري إذاً في الدارة تيار من الدقائق المادية .


- عند قطع سلسلة النواقل، نقول إن الدارة مفتوحة :

لا يسري تيار من الدقائق المادية في الدارة ، فالتيار الكهربائي يمثل الحركة الإجمالية للدقائق المادية .


توظيف النموذج: • حدّد اتجاه التيار الكهربائي على مخططات الدارات الكهربائية السابقة .

أمتنظ بالآهم

... - الدائرة الكهربائية هتي سلسلة غير منقطعة لعناصر كهربائية (مثل المصباح والمحرك) وتحتوي على مولد واحد على الأقل.

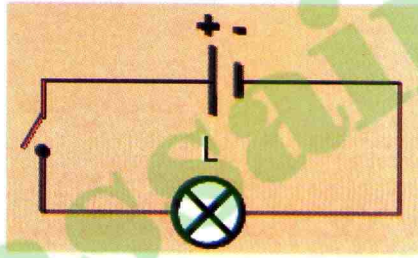


دائرة كهربائية بمولد



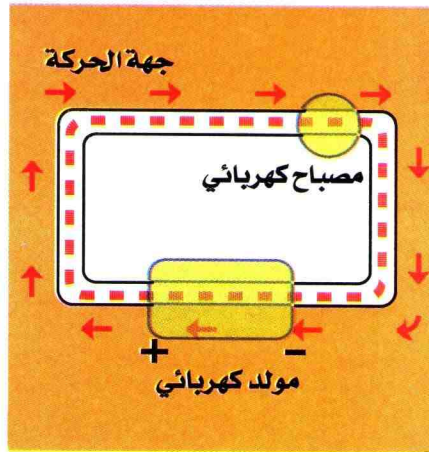

دائرة كهربائية

- يمكن تمثيل دائرة كهربائية بمخطط نظامي، كما يمكن تركيب دائرة كهربائية انطلاقاً من مخططها النظامي.

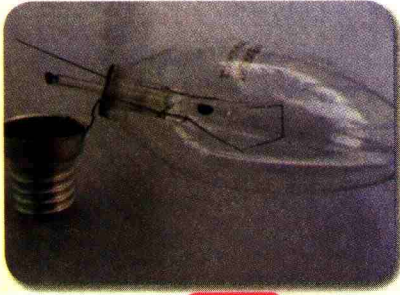


المخطط النظامي لدائرة الكهربائية

- تكون الدائرة الكهربائية مغلقة إذا مرّ التيار الكهربائي في العناصر المشكلة لها.
- يمكن شرح ما يجري في الدارات الكهربائية باستعمال النموذج الدوراني للتيار الكهربائي.



النموذج الدوراني للتيار الكهربائي



وثيقة 8 مصباح مفكك

2 اشتعال مصباح التوهج

1 نشاط مكونات مصباح التوهج

1 تجربة

جرّب ولاحظ

– فكّك بحذر مصباح التوهج وانزع قاعدته كما في (الوثيقة 8) ثم تعرّف على مربطيه .

فسّر

• هل مربطاً مصباح التوهج متصلان بالسلك اللولبي المصنوع من مادة التنغستن؟

2 تجربة

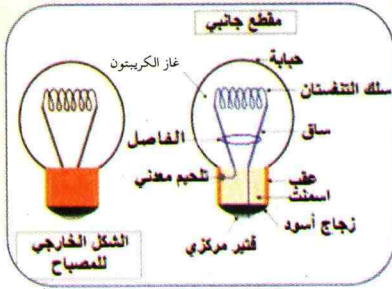
تمعن في الوثيقة 9.

فسّر

• ما هي المواد العازلة والمواد الناقلة في مكونات المصباح؟

استنتج

• ما هما مربطاً مصباح التوهج؟



وثيقة 9 مكونات المصباح

2 نشاط الطريقة الملائمة لإشعال مصباح التوهج

• كيف أختار المصباح لكي يشتعل مع مولد معين؟

• لديك الأعمدة والمصابيح التالية: عمود مسطح 4.5V، عمود أسطواناني 1.5V، مصابيح دلالاتها (220V، 6V، 3V، 2.5V)، أسلاك توصيل مختلفة، قاطعة .

جرّب ولاحظ

- اقترح مخططات كهربائية موافقة لاشتعال عادي لكل مصباح .
- ناقش اقتراحاتك مع زملائك بتوجيه من الأستاذ .
- تحقق تجريبياً من صحة فرضياتك .
- ماذا تقترح لتشغيل مصباح ذي الدلالة 220V .

فسّر

• كيف تكون دلالة المصباح مقارنة بدلالة المولد حتى يتوهج المصباح بصفة عادية؟

استنتج


• ماذا يجب مراعاته حتى يشتغل مصباح التوهج بشكل عادي؟

استعمال TIC

- امتداد لنشاطات حول مصباح التوهج باستعمال تكنولوجيا الإعلام والاتصال :
تصفح الموقع التالي الذي يتناول المصابيح بصفة عامة و أنواع المصابيح :

www.controverses.sciences-po.fr/archive/ampoules/index.php/pour-debuter/les-differents-types-de-lampes

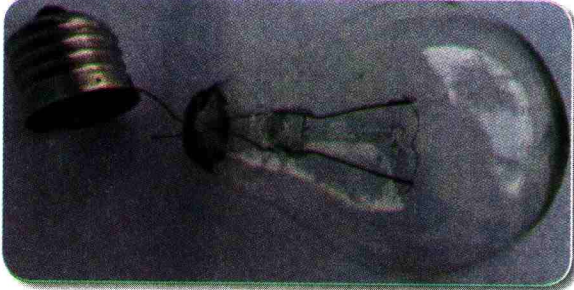
المصابيح الكهربائية: www.energieplus-lesite.be/index.php?id=10681



وثيقة 10 مصابيح بدلالات مختلفة

أمتضظ بالآهم

– لمصباح التوهج مرطبان مئماثلان هما العقب والقئئر المركزي وهما مئصلان بئرفي سلئ التنغستن عن طرئق ساقئن معدنئئن ملئحمن بهما.



مصباح مفكك



مصباح مئوهج

– للمصباح الكهربائئ **دلالة**، ففب مراعاؤها عند استعماله.



دلالة المصابئ

– للعمود الكهربائئ **قطبان فئر مئماثلئن**، فحمل آءهما الإشارة (+) والآخر الإشارة (-) وفسمى المولد الكهربائئ.




دلالة الأعمءة

– للعمود الكهربائئ **دلالة** لها أهمية فئ اشئعال المصباح.

أطبق معارضي


9 الربط الصحيح لمصباح

حاولت ياسمين إشعال مصباح بالقيام بالتركيب التالي، هل محاولتها كللت بالنجاح؟



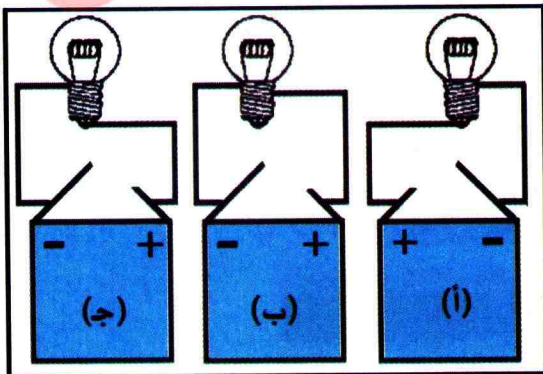
10 كيف يمكن إضاءة مصباح؟

لديك العناصر الكهربائية التالية:
بطارية، أسلاك توصيل، مصباح، ماسكان.
أرسم مخطط الدارة التي تسمح بتشغيل المصباح؟



11 كيف أربط مصباحاً حتى يتوهج؟

لاحظ الأشكال التالية ثم لوّن المصباح الذي تظنه مشتعلًا.



أفتبر معارضي

أكمل الجمل التالية:


- 1 التيار الكهربائي يمثل للدقائق المادية.
- 2 يلعب المولد دور في تحريك
- 3 نعتبر ما يجري في على أنه صغيرة جدا تنتقل داخل والأجهزة الكهربائية والمولد الكهربائي وفق من إلى للمولد.
- 4 حتى نتمكن من إشعال مصباح التوهج لابد من توصيله ب....
- 5 تسمح الأجسام بتوهج المصباح فتشكل معه كهربائية.
- 6 نرسم الدارة الكهربائية باستعمال الرموز
- 7 أربط بسهم العنصر الكهربائي بالرمز النظامي الموافق له :

	- المولد أو العمود
	- القاطعة البسيطة المغلقة
	- المصباح
	- المحرك الكهربائي
	- القاطعة البسيطة المفتوحة
	- الصمام الضوئي

- 8 الرمز يمثل، فإذا كان مربوطاً في فهو بمرور التيار الكهربائي، وإذا كان مربوطاً في فهو مرور التيار الكهربائي. اتجاه مرور التيار هو اتجاه

12 كيفيات ربط مصباح التوهج

ارسم الأشكال التالية على كراسك ثم أكملها بإضافة أسلاك التوصيل عند الضرورة لإضاءة المصباح. أعط اسما لكل تركيب .



15 كيف يشتعل المصباح؟

في الصورة التالية، الصفيحة الموجودة تحت العمود والمصباح ناقلة للكهرباء. أضف سلكا ناقلا واحدا حتى يشتغل المصباح.




13 اشتعال المصباح بسلك واحد!

في الشكل التالي يمكن إشعال المصباح بإضافة سلك واحد. أرسمه في الوضعية المناسبة.

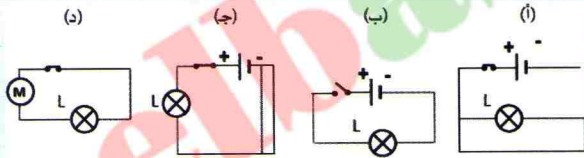


16 ما هو الرمز النظامي المناسب؟

أرسم الرموز النظامية للعناصر الكهربائية المبينة في الصور التالية، مع ذكر اسم كل منها. اقترح مخططا نظاميا تمثل فيه بعض عناصر الدارة.

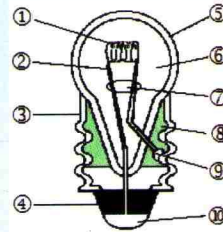


17 ما هو المصباح المنير؟ علل جوابك.



14 العوازل والنواقل في مصباح التوهج

الصورة تمثل مقطعا جانبيا لمصباح التوهج. أكمل الجدول التالي:



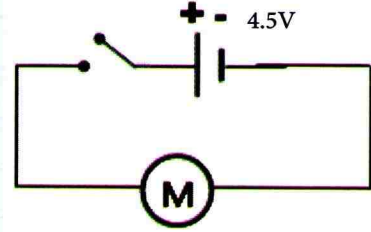
الرقم	الاسم	نوع المادة	ناقل أو عازل	الرقم	الاسم	نوع المادة	ناقل أو عازل
1				6			
2				7			
3				8			
4				9			
5				10			

لمصباح التوهج مرتبين و.....

أوظف مهاراتي

18 النموذج الدوراني للتيار الكهربائي

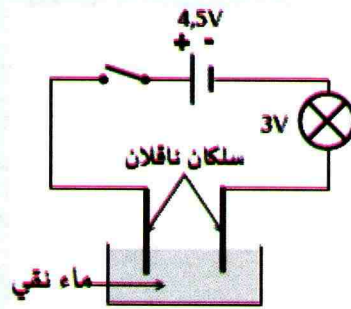
الدائرة الكهربائية المبيّنة في المخطط تضم عمودا وقاطعة ومحركا وأسلاك توصيل.



- 1- ماذا يحدث عند غلق القاطعة؟
- 2- نحافظ على الدارة السابقة، لكن نعكس قطبي العمود ثم نغلق القاطعة، ماذا يحدث؟
- 3- أعد رسم الدارة على كراسك ثم مثل حركة الدقائق المادية في السؤال الأول.
- 4- نريد أن يدور المحرك في جهة واحدة فقط، ما هو العنصر الكهربائي الواجب إضافته للدائرة الكهربائية؟ مثل مخطط الدارة الكهربائية الجديدة.

19 ناقلة المحاليل.

يمثل الشكل التالي مخططا لدارة كهربائية تسمح بالتحقق من ناقلة المحاليل.



- 1- هل يتوهج المصباح؟
- 2- نضيف كمية قليلة من ملح الطعام ونرج جيدا. أ / ما اسم المحلول المحصل عليه؟ ب / هل يشتعل المصباح؟ ج / ماذا يمكن أن نقول عن هذا المحلول؟

20 ماء الحنفية ناقل للكهرباء

باستعمال نفس التركيب السابق. عند غلق القاطعة، يتوهج المصباح عند استعمال محلول ملح الطعام لكن يبقى منطفئا عند استعمال ماء الحنفية. كيف يمكن التأكد من أن ماء الحنفية ناقل للكهرباء؟

21 أي دلالة للمصباح؟

إليك مجموعة متنوعة من المصابيح:

العدد	الدلالة	الأدوات
1	6 V	مولد
1	3,5V	مصباح
1	6 V	
1	12 V	
1	/	قاطعة
		أسلاك التوصيل

هل المولد المستعمل يصلح لتشغيل أي مصباح؟ مثل المخطط النظامي الموافق لتوهج المصباح بشكل عادي.

22 أي دلالة للمحرك؟

تتكون دارة كهربائية بسيطة من عمود، قاطعة، مصباح، محرك وأسلاك توصيل. إليك جدولا لدلالات بعض منها:

العدد	الدلالة	الأدوات
1	9 V	عمود
1	6V	مصباح
1	؟	محرك
		أسلاك التوصيل

- 1- أرسم مخطط الدارة الكهربائية
- 2- حسب رأيك، ما دلالة المحرك حتى يشتغل ويضيء المصباح بشكل عادي؟

23 الكهرباء في الجزائر

إبحث في شبكة الانترنت وبالخصوص على موقع الشركة الوطنية للكهرباء والغاز «سونلغاز» لتتعرف على تاريخ بداية استعمال الكهرباء وعلى مراحل تطور شبكتها في الجزائر.

26 أختار العمود المناسب

لدينا مصباح مسجل على الحجابة الزجاجية للمصباح $6V$.

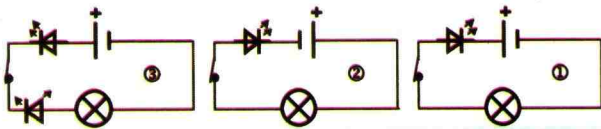
- 1- ماذا تعني هذه القيمة؟
- 2- ما هو العمود المناسب حتى يشتعل المصباح بشكل عادي من بين الأعمدة التي دلالتها

3V	4,5V	6V	9V
----	------	----	----

علل جوابك.

27 ما هو المصباح المضيء؟


1- مثل اتجاه التيار على المخططات النظامية.



- 2- ما هو المصباح الذي تظنه مضيئاً في الدارات الممثلة بالمخططات النظامية.

28 محرك ثابتة

يريد كريم محاكاة دارة كهربائية تغذي محرك ثابتة (*perceuse*) حتى تعمل بشكل طبيعي. المحرك يدور في اتجاه معين و التيار الذي يسري في الدارة في الاتجاه المبيّن في الشكل التالي :



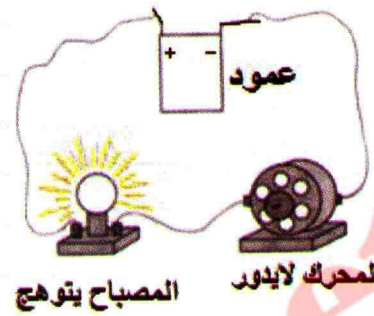
- 1- أنقل المخطط السابق على كراسك ثم أكمله بتمثيل المولد بقطبيه.
- 2- حتى لا يدور المحرك في الاتجاه المعاكس أضف كريم عنصرين كهربائيين، اذكرهما.
- 3- أكمل الرسم بتمثيل هذين العنصرين في الدارة الكهربائية.

24 أي معنى للمصطلح؟

هل المصطلحات التالية : يُشع، ينير، يضيء، يتوهج لها نفس المعنى؟

25 أحلل وثيقة

اليك الوثيقة التالية :



- 1- المصباح يشتعل لكن المحرك لا يدور، حسب رأيك، ما سبب ذلك؟
- 2- ماذا يحدث لو استبدلنا موضعي المصباح والمحرك؟



نقترح عليك الأجهزة والعناصر التالية :

قائمة الأدوات		
العدد	الدلالة	الأدوات
1	9V	أعمدة
1	3V	
1	3V	مصابيح
1	6V	
1	6V	محرك
1	/	قاطعة
	من النحاس	أسلاك التوصيل
	بكفاية	

– اقترح التركيب الكهربائي المناسب الذي يسمح بدوران المحرك واشتعال المصباح بشكل عادي

تركيب الدارات الكهربائية

7

1 ما هي أنواع الدارات الكهربائية الممكنة؟

نشاط

إشعال عدة مصابيح بالعمود نفسه

- ما هو التركيب الكهربائي الذي يسمح باشتعال عادي لمجموعة من المصابيح؟

لديك العناصر الكهربائية التالية: عمود مسطح (4.5V)، مصابيح متماثلة دلالتهما (3.5V)، قاطعة، أسلاك توصيل مختلفة.

1 تجربة استعمال مصباحين.

جرّب ولاحظ

- حقّق التركيب المبين في الوثيقة 1. ماذا تلاحظ؟
- أنزع أحد المصباحين من غمده. ماذا تلاحظ؟
- حقّق الآن التركيب المبين في الوثيقة 2. ماذا تلاحظ؟
- أنزع أحد المصباحين من غمده. ماذا تلاحظ؟
- أنجز مخططي التركيبين.

فسّر

- كيف تميّز بين التركيب الأول والتركيب الثاني؟

استنتج

- كيف تكون إضاءة كل مصباح في الحالات المختلفة للتجربة؟
- ماذا يمكنك أن تستنتج؟

2 تجربة استعمال 3 مصابيح

جرّب ولاحظ


- أنجز التركيب الكهربائي الموافقة للمخططات الكهربائية المبينة في الوثيقة 3، ثم لاحظ حالة الإضاءة في كل مصباح.
- في أي تركيب كهربائي تكون حالة الإضاءة هي نفسها في المصابيح الثلاثة؟

فسّر

- قارن بين التركيب الكهربائي بناء على كيفية ربط المصابيح في الدارة الكهربائية.
- كيف هي حالة الإضاءة في المصابيح؟

استنتج

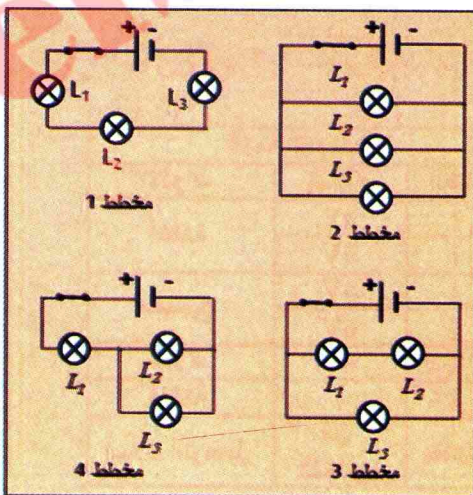
- تعرّف على نوع ربط المصابيح في الدارات الكهربائية من ضمن الأنواع الثلاثة التالية: الربط على التسلسل، الربط على التفرع، الربط المختلط.



وثيقة 1 تركيب الدارة



وثيقة 2 تركيب الدارة



وثيقة 3 مخططات كهربائية



سيارة كهربائية

نشاط

كيف أركب الدارة الكهربائية التي تغذي سيارة كهربائية؟

ابحث

- كيف تشكل دارة كهربائية لتغذية سيارة كهربائية بحيث تكون العناصر المكونة للدارة هي: محرك كهربائي، ضوءان أماميان (2 phares avant) وضوءان خلفيان.

- عليك احترام دفتر الشروط التالي:

- يمكن للمحرك أن يشتغل حتى وإن كانت الأضواء منطفئة.
- إذا ما احترق أحد المصابيح، كل المصابيح الأخرى تبقى مشتغلة.
- الأضواء الأمامية والأضواء الخلفية تشتغل دوماً معاً بصفة آتية.

سيارة كهربائية

وثيقة 4



التجهيز المتوفر

وثيقة 5

التجهيز المتوفر لديك هو:

- مولد كهربائي 4 مصابيح (تمثل الأضواء)
- قاطعتان محرك أو صمام ضوئي أسلاك توصيل

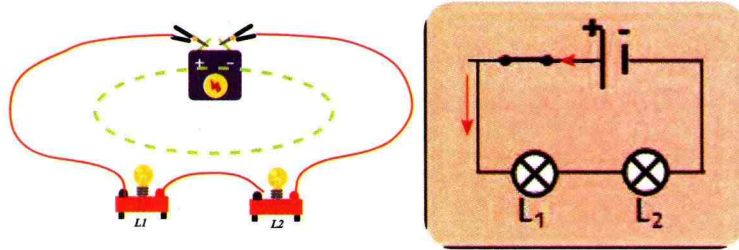
انطلاقاً من التجهيز المتوفر، اقترح دارة كهربائية للسيارة، حيث تحترم فيه دفتر الشروط ثم ناقش اقتراحاتك مع زملائك باستعمال المخططات الكهربائية.

أنجز، مع زملائك، التركيب الكهربائي اعتماداً على المخطط الكهربائي المصادق عليه وشغله بعد موافقة أستاذك، لتتأكد من الاقتراح الصحيح. ثم اشرح الفرق بين الدارة على التسلسل والدارة على التفرع.

أفضل بأراهم

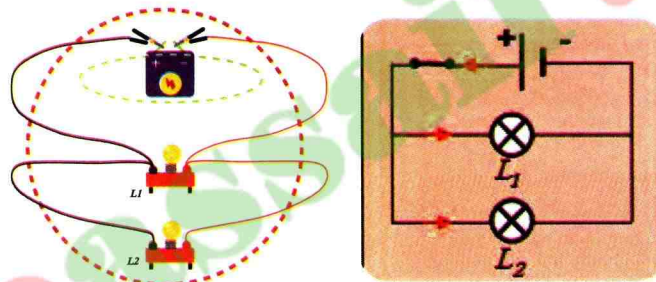
أنواع الربط في الدارات الكهربائية :

- تشكل الدارة الكهربائية على التسلسل من حلقة واحدة تضم المولد .



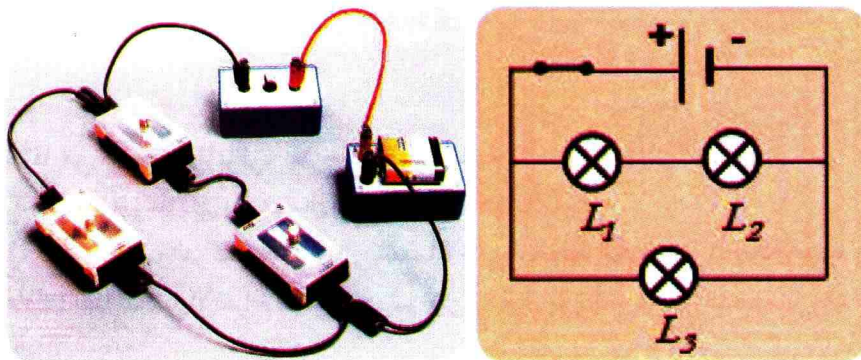
دائرة كهربائية على التسلسل

- تضم الدارة الكهربائية على التفرع عدة حلقات .
- في الدارة الكهربائية على التفرع يمكن للعناصر الكهربائية أن تشتغل بصفة **مستقلة** بعضها عن البعض .



دائرة كهربائية على التفرع

- الربط المختلط يضم الربط على التسلسل والربط على التفرع معا .



الربط المختلط في دائرة كهربائية

أطبق معارضي

7 اختر الإجابة الصحيحة

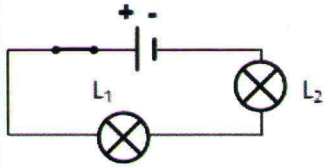
في دائرة بها مصباحان مربوطان على التفرع، إذا
نزعنا أحد المصابيح من غمده فإن المصباح الآخر:
أ / يزداد توهجه
ب / ينطفئ
ج / ينقص توهجه

8 اختر الإجابة الصحيحة

تكون شدة إضاءة مصباحين حاملين للدلالة
على عقبهما $3V$ عادية ، إذا وصلنا على
التسلسل بقطبي عمود يحمل الدلالة :
أ / $1,5V$ ب / $4,5V$ ج / $6V$

9 اختر الإجابة الصحيحة

إليك المخطط النظامي لدائرة كهربائية حيث
المصباح L_1 إنارته أفضل من إنارة L_2 .
إذا غيرنا مكاني المصابيح فإن :



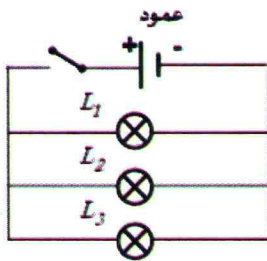
أ / المصباح L_2
إنارته أفضل من
إنارة L_1 .
ب / المصباحان
يتوهجان بنفس
الكيفية .

ج / المصباح L_1 إنارته أفضل من إنارة L_2 .

10 مصابيح على التفرع

إليك المخطط النظامي لدائرة كهربائية بها عمود
وثلاثة مصابيح متماثلة L_1 ، L_2 ، L_3 :

- 1- ماذا تلاحظ عندما نغلق القاطعة؟
- 2- ما هو عدد الدارات الكهربائية التي بها
مولد في المخطط؟
- 3- كيف يسمى
هذا النوع من التوصيل؟
- 4- ماذا يحدث
للمصابيح الآخرين
لو نزع المصباح L_1
من غمده؟
- 5- هل يستعمل هذا النوع من التركيب في المنازل؟



أفتر معارضي

أكمل الجمل :

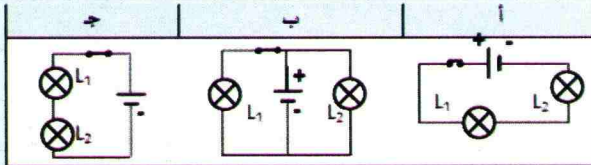
1 عند تركيب مصباحين على مع مولد
فإنه يسري فيهما التيار الكهربائي .
عند تركيب مصباحين على مع مولد فإن
التيار الكهربائي الذي يسري في كل منهما

2 عند تركيب مصباحين على مع مولد
تشكل دائرة واحدة فيها مولد .
عند تركيب مصباحين على مع مولد فإنه
تشكل

3 المخطط النظامي الذي يتكون من مصباحين
ومولد كهربائي يشكل :

أ / دائرة فيها مولد
ب / دارتين فيهما مولد
ج / ثلاث دارات فيها مولد

4 حتى تركيب مصباحين على التفرع يجب أن
تستعمل أحد المخططات النظامية التالية. أذكر
ما هو؟



5 في دائرة كهربائية بها مصباحان مربوطان على
التسلسل ، إذا أضفنا مصباحاً آخر إلى هذه الدائرة
فإن المصابيح :

أ / يزداد توهجها
ب / تنطفئ
ج / ينقص توهجها

6 في دائرة بها مصباحان مربوطان على التسلسل ،
إذا نزعنا أحد المصابيح من غمده فإن المصباح
الآخر :

أ / يزداد توهجه
ب / ينطفئ
ج / ينقص توهجه

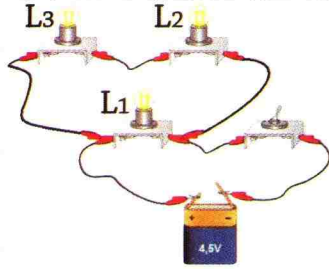
أوظف مهاراتي

14 الربط المختلط

لاحظ التركيب التالي:

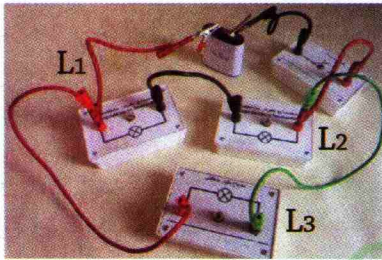
المصابيح متماثلة دلالتهما (3V)

- 1- ما نوع تركيب المصابيح في الصورة؟
- 2- مثل الدارة بمخططها النظامي.
- 3- كيف تكون إنارة المصباحين L_2 و L_3 لو نضيف مصباحا آخر على التسلسل معهما؟



15 الربط المختلط

لاحظ الصورة التالية:



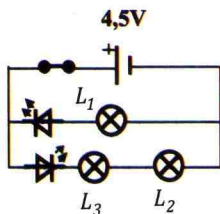
المصابيح متماثلة دلالتهما (3V)

- 1- مثل الدارة الكهربائية بمخططها النظامي.
- 2- ما نوع ربط المصباحين L_1 و L_2 ؟
- 3- ما نوع ربط المصباح L_3 بالنسبة للمصباحين L_1 و L_2 ؟
- 4- ما نوع الربط في هذه الدارة؟
- 5- ماذا يحدث عند احتراق المصباح L_1 ؟

16 الصمام الضوئي و الربط المختلط

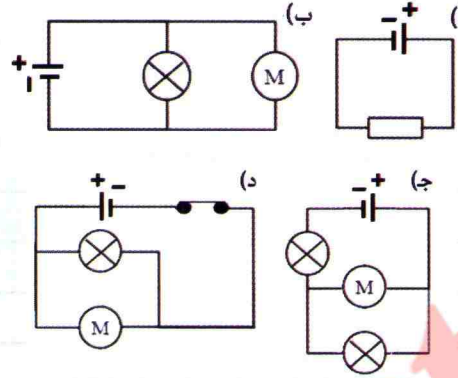
حققنا دارة باستعمال المخطط النظامي الموضح في الصورة، حيث المصابيح متماثلة دلالتهما (3V):

- 1- ما هو عدد الدارات التي بها مولد في المخطط؟
- 2- ما هي المصابيح المضاءة؟



11 أنواع الدارات

حدّد عدد الدارات التي تشمل المولد في المخططات النظامية التالية، ثم مثل اتجاه التيار الكهربائي في كل منها.



12 مصباحان على التفرع

أنظر إلى الصورة التالية:

المصباحان متماثلان


دلالتهما: 3V

- 1- ما نوع تركيب المصباحين في الصورة؟
- 2- مثل الدارة بمخططها النظامي.

3- مثل اتجاه التيار الكهربائي في الدارة.

13 مصباحان على التسلسل

أنظر إلى الصورة التالية:

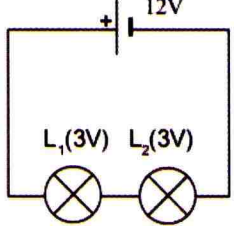
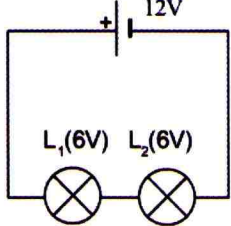
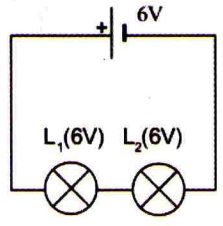
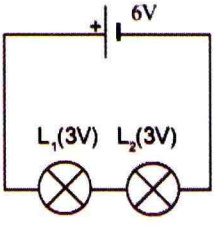
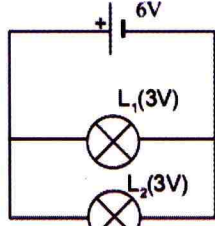
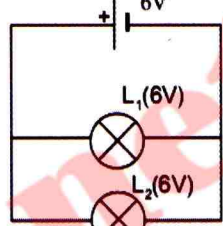


المصباحان متماثلان دلالتهما: 3V

- 1- ما نوع تركيب المصباحين في الصورة؟
- 2- مثل الدارة بمخططها النظامي.
- 3- مثل اتجاه التيار في الدارة.
- 4- ماذا يحدث لو نزع المصباح L_1 من غمده؟

17 كيف أحدد حالة اشتعال مصباحين؟

حدد في الدارات الكهربائية التالية حالة اشتعال المصباحين، علّل.

		
الشكل 3	الشكل 2	الشكل 1
		
الشكل 6	الشكل 5	الشكل 4

18 الدراجة الكهربائية

ننمذج اشتغال دراجة كهربائية (*scooter*) بمحرك كهربائي للعبة الأطفال مغذى بعمود ، ويرتبط بمصباح كهربائي واحد .

1- مثل بمخطط نظامي الدراجة الكهربائية (*scooter*) بحيث تتمكن من تشغيل المحرك والمصباح كلا على حدى (بشكل مستقل) .

2- ما نوع تركيب الدارة الكهربائية؟



الدائرة الكهربائية ذهاب - إياب 8

1 ماهي الدارة الكهربائية ذهاب - إياب؟

لإشعال أو إطفاء مصباح إضاءة سلم عمارة أو رواق في العمارة تستعمل قاطعتين من مكانين مختلفين. كيف يمكن التحكم في اشتغال مصباح التوهج من مكانين مختلفين؟ وكيف يكون تركيب الدارة في هذه الحالة؟

- تصوّر تركيبه كهربائية تحقق هذا الغرض ، ثم مثلها بمخطط نظامي قابل للتحقيق التجريبي المخبري .

1 نشاط التعرف على الدارة ذهاب - إياب

لديك العناصر الكهربائية التالية: عمود مسطح $4,5V$ ، مصباح $3V$ ، قاطعتين ، أسلاك توصيل مختلفة.

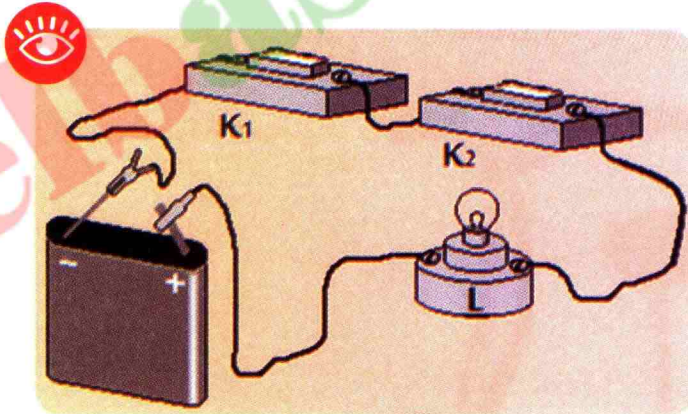
استكشف

- أرسم على الورق المخططات النظامية الممكنة التي تسمح باشتغال مصباح باستعمال القاطعتين معاً.
- ناقش اقتراحاتك مع زملائك بتوجيه من الأستاذ.
- حاول تشغيل هذا المصباح بصفة عادية بتشكيل الدارات الكهربائية الملائمة باستعمال القاطعتين معاً.

1 تجربة ربط القاطعتين على التسلسل

جرّب ولاحظ

- أنجز التركيب المبين في الوثيقة 1.
- ماذا تفعل حتى يشتعل المصباح L؟
- مثل المخطط النظامي للدائرة.



ربط القاطعتين على التسلسل

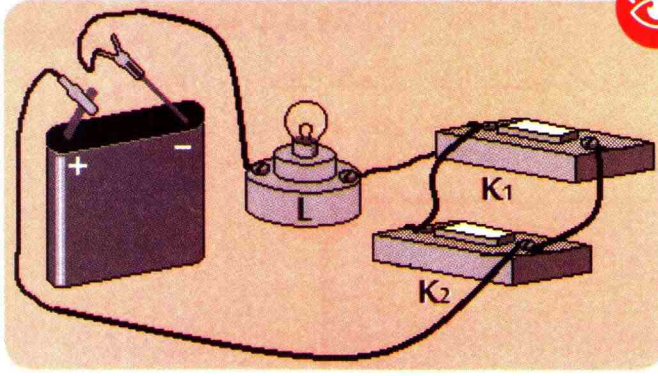
وثيقة 1

فسّر

- كيف تكون حالة القاطعتين K_1 و K_2 حتى يضيء المصباح؟

استنتج

- ماذا يجب أن تحقّقه قاطعتان مربوطتان على التسلسل حتى يشتغل المصباح؟



ربط القاطعتين على التفرع

وثيقة 2

● لإضاءة المصباح، هل نغلق القاطعتين معاً أم إحدهما؟

تجربة 2 ربط القاطعتين على التفرع

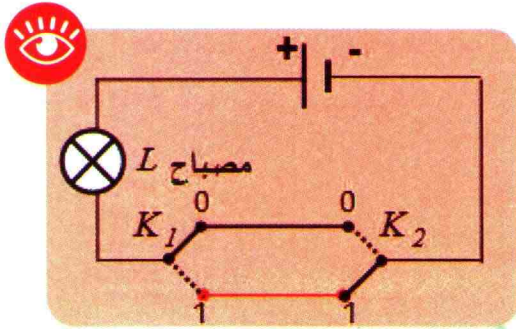
جرب ولاحظ

- أنجز التركيب المبين في الوثيقة 2.
- ماذا تفعل حتى يشتغل المصباح L ؟
- مثل المخطط النظامي للدائرة.

فسر

- استنتج كيف يشتغل مصباح مربوط في دائرة كهربائية بها قاطعتان مربوطتان على التفرع؟

استنتج



الدائرة ذهاب- إياب

وثيقة 3

- أنجز التركيب المبين في المخطط التالي:

تجربة 3

جرب ولاحظ

- في البداية المصباح منطفئ، عندما تغيّر موضع القاطعة K_1 أو القاطعة K_2 هل يشتغل المصباح؟
- ماذا يحدث عندما نغلق القاطعتان معاً.

فسر

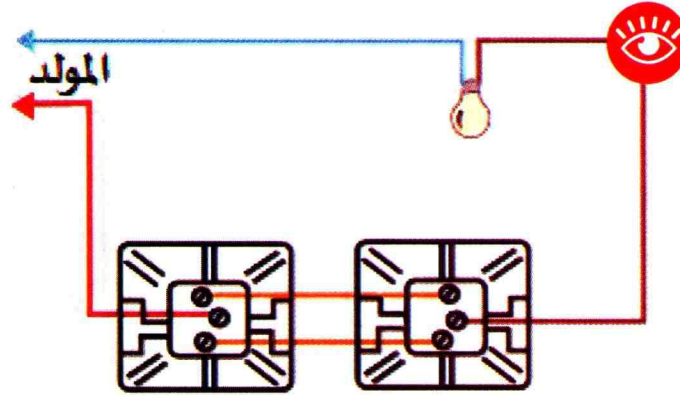
- إذا كانت القاطعة K_2 في الوضع (1) وغيّرت وضع القاطعة K_1 من الوضع (0) إلى الوضع (1) هل يشتغل المصباح؟
- إذا كانت القاطعة K_1 في الوضع (1) وغيّرت وضع القاطعة K_2 من الوضع (0) إلى الوضع (1) هل يشتغل المصباح؟
- إذا غيّرتا وضع القاطعتين K_1 و K_2 معاً، كيف تكون حالة المصباح؟

استنتج

- كيف نتحكم في الإضاءة من مكانين مختلفين؟

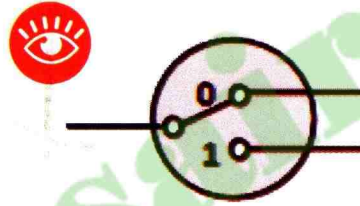
نشاط 2 القاطعة المزدوجة

- يستعمل في بعض الأحيان في البيت نوع معين من القاطعات (الوثيقة 4)، تحصل على واحدة، ثم قم بتفكيكها وتعرّف على طريقة ربطها.



وثيقة 4 طريقة ربط القاطعة في الدارة ذهاب

- في الشكل التالي (الوثيقة 5) القاطعة المستعملة في الدارة ذهاب- إياب . ما هو عدد مرابط هذه القاطعة؟



وثيقة 5 قاطعة مزدوجة

فسر

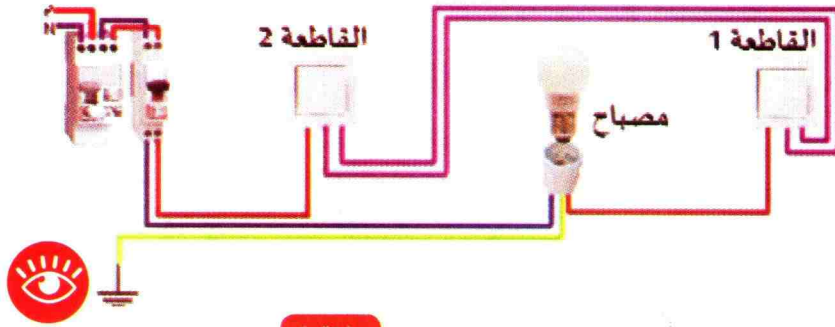
- ما هو عدد مرابط القاطعة المستعملة في الدارة ذهاب - إياب ؟
- كيف يكون المربط الحر للقاطعة ذهاب - إياب

استنتج


- كيف تكون القاطعة المستعملة في الدارة ذهاب - إياب ؟

استعمال TIC

- امتداد لنشاطات الدارة « ذهاب-إياب » باستعمال تكنولوجيا الإعلام والاتصال :
تصفح موقع الأنترنت لمحاكاة الدارة الكهربائية « ذهاب-إياب » :
www.volta-electricite.info/articles.php?lng=fr&pg=11867
www.schema-electrique.net/schema-electrique-va-et-vient.html



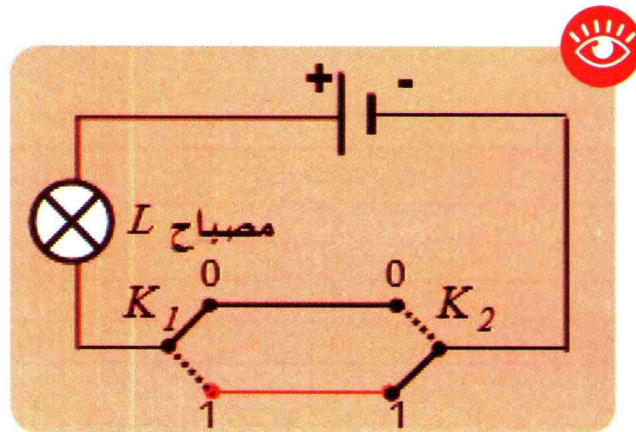
وثيقة 6 الدارة ذهاب - إياب



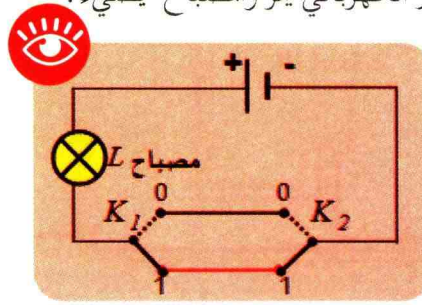
وثيقة 7 تحقيق الدارة ذهاب - إياب

المرحلة الأولى

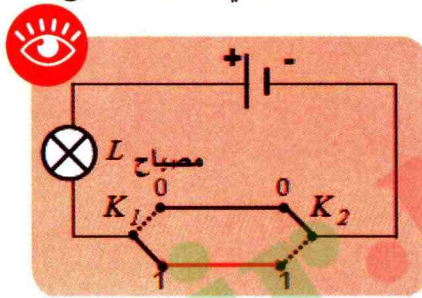
- في البداية القاطعة K_1 في الوضع (0) (إلى الأعلى)، بينما القاطعة K_2 في الوضع (1) (إلى الأسفل).
- القاطعتان في موضعين مختلفين. التيار الكهربائي لا يمر والمصباح لا يضيء.



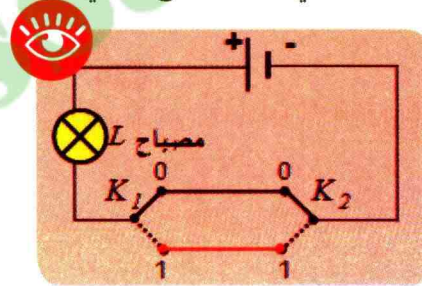
المرحلة الثانية المستهلك يضغظ على القاطعة K_1 وتنتقل بذلك إلى الوضع (1). القاطعتان في نفس الوضع. التيار الكهربائي يمر والمصباح يضيء.



المرحلة الثالثة المستهلك يضغظ على القاطعة (K_2) وتنتقل بذلك إلى الوضع (0). القاطعتان في موضعين مختلفين. التيار الكهربائي لا يمر والمصباح لا يضيء.



المرحلة الرابعة المستهلك يضغظ على القاطعة K_1 وتنتقل بذلك إلى الوضع (0). القاطعتان في نفس الوضع. التيار الكهربائي يمر والمصباح يضيء من جديد.



جدول الحقيقة للدارة ذهاب - إياب

نشاط

أنقل الجدول التالي على كراسك ثم أكمل بكلمة « مشتعل » أو كلمة « منطفئ » بالنسبة للمصباح.

المصباح	وضع القاطعة K_2	وضع القاطعة K_1
	1	0
	1	1
	0	1
	0	0

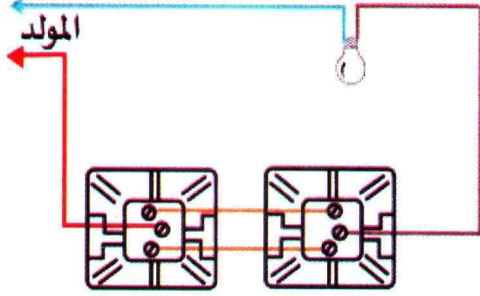
استنتج يمثل الجدول السابق بجدول الحقيقة للدارة ذهاب - إياب حيث نعتبر الاصطلاح التالي :

0	المصباح منطفئ
1	المصباح مشتعل


0	القاطعة مفتوحة
1	القاطعة مغلقة

أقتض بازاهم

- للتحكم في الإضاءة من مكانين مختلفين (متباعدين) كالأروقة مثلاً أو الإضاءة الخارجية كالحداائق نستعمل تركيب الدارة من النوع «ذهب-إياب».



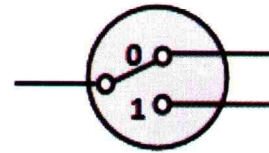
طريقة ربط القاطعة في الدارة ذهب - إياب في البيت





تركيب القاطعة في الدارة ذهب- إياب في المخير

- القاطعة ذهب-إياب هي قاطعة مزدوجة

القاطعة ذهب-إياب لها ثلاثة مرابط بينما القاطعة البسيطة تملك اثنين فقط، و نلاحظ أن المرابط الحر يكون في اتصال دائم مع أحد المرابط الثابتين الآخرين.




رمز القاطعة المزدوجة



رمز القاطعة البسيطة

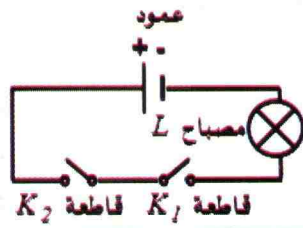
القاطعة البسيطة على أنواعها



أفتبر معارضي

6 هل الدارة من النوع ذهاب-إياب؟

إليك مخطط الدارة التالي:



- 1- كيف تم توصيل القاطعتين؟
- 2- هل هي دارة ذهاب-إياب؟
- 3- أنجز جدول الحقيقة لهذه الدارة.

7 مطحنة كهربائية منزلية.

- نمذج آلة طحن البن بمحرك كهربائي للعبة الأطفال مغذى بعمود، ويرتبط بمصباح كهربائي LED واحد وقاطعتين.
- 1- مثل بمخطط نظامي الجهاز بحيث تتمكن من تشغيل المحرك والمصباح معاً.
 - 2- هل الدارة من نوع ذهاب - إياب؟



8 حالة خاصة

- ماذا يحدث لمصباح كهربائي مشتعل لو ضغط شخصان في نفس الوقت على قاطعتين لدارة ذهاب - إياب؟

أكمل الفراغ في الجمل التالية:

- 1 في دارة ذهاب-إياب يوجد مولد ، مصباح و.... من أجل التحكم
- 2 القاطعة هي قاطعة, تستعمل للتحكم في الإضاءة من....
- 3 القاطعة المزدوجة لها.... مرابط بينما القاطعة البسيطة تملك.... فقط، و.... الحر يكون في اتصال دائم مع أحد.... الثابتين الآخرين.

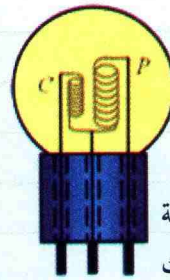
4 إليك الرموز النظامية التالية:



- 1- ما هو العنصر الكهربائي الذي يمثله كل رمز من الرموز النظامية السابقة.
- 2- أنجز دارة كهربائية بكل الرموز النظامية. كيف تدعى هذه الدارة؟
- 3- أين يستعمل هذا النوع من التجهيزات الكهربائية؟
- 4- ما هي فائدة هذا النوع من الدارة؟

أطبق معارضي

5 القاطعة المزدوجة.

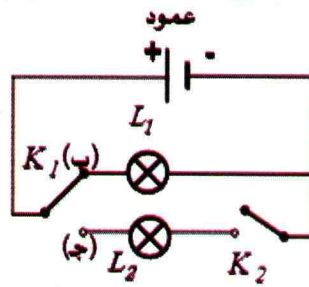


- الشكل المقابل يمثل مصباح التوهج الذي يستعمل في الإضاءة الليلية للسيارات، إما بإضاءة قوية أو بإضاءة متوسطة، حيث يملك سلكين للتوهج، أحدهما P والآخر C، وتتحكم في سلكي التوهج قاطعة مزدوجة. باستعمال الرموز النظامية، مثل الدارة التي تحوي هذا المصباح موضحاً كل حالة.

أوظف مهاراتي

9 هل الدارة الكهربائية من نوع ذهاب-إياب؟

لاحظ الدارة التالية:



- 1- عندما نغير وضع القاطعة K_1 (من الوضع ب إلى الوضع ج) ونغلق القاطعة K_2 ، ماذا يحدث في الدارة؟
- 2- أنجز جدول الحقيقة للدارة التي بها المصباح L_1 ثم للدارة التي بها المصباح L_2 . هل هي دارة ذهاب-إياب بالنسبة للمصباحين L_1 أو L_2 ؟

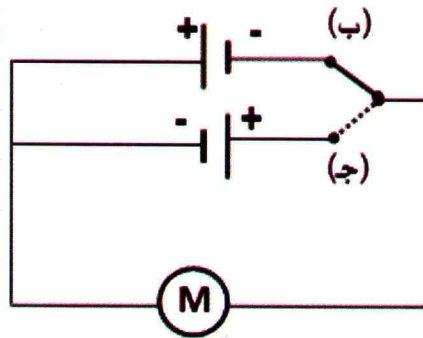
10 كيف يشتعل المصباح الداخلي لثلاجة؟

عند فتح باب ثلاجة يشتعل مصباحها الداخلي .

- 1- ماذا تحتوي دارة المصباح؟ هل هي دارة من نوع ذهاب-إياب؟
- 2- مثل المخطط النظامي للدارة .

11 مصارع النوافذ الكهربائية

مصارع النوافذ الكهربائية تصعد أو تنزل بواسطة محرك كهربائي وقاطعة خاصة ، نمذج الدارة بالمخطط النظامي التالي:



- 1- مثل اتجاه التيار الكهربائي في الدارة حسب موضع القاطعة .
- 2- اشرح كيف نتمكن من فتح أو غلق الغطاء حسب موضع القاطعة . هل هي دارة ذهاب-إياب؟

الدائرة المستقطرة 9 وكيفية تبنيها

1 ما هي الدائرة المستقطرة ؟

1 - 1 - الدائرة المستقطرة

نشاط : أكتشف الدائرة المستقطرة :

1 تجربة

لديك العناصر الكهربائية التالية: عمود كهربائي مسطح (4,5V)، مصباحان (L_1 , L_2) متماثلان (3V)، قاطعة، أسلاك توصيل مختلفة.

جرب ولاحظ

- لاحظ رسم الدائرة الكهربائية المبينة بالصورة (الوثيقة 1).
- أرسم مخطط الدائرة الكهربائية الموافقة.
- أنجز التركيبية التي توافق الرسم.
- لاحظ شدة توهج المصباح L_1 .
- أنجز التركيبية الموافقة للصورة (الوثيقة 2)
- قارن بين شدة توهج المصباحين في هذه الحالة مع الحالة السابقة.

استنتج

- عند إضافة مصباح في دائرة كهربائية، هل ينقص توهج المصباحين؟

2 تجربة

لديك العناصر الكهربائية التالية: عمود كهربائي مسطح (4,5V)، مصباحان (L_1 , L_2) متماثلان (3V)، قاطعة، أسلاك توصيل مختلفة.

جرب ولاحظ


- أنجز الدائرة المبينة في (الوثيقة 3).
- ماذا يحدث للمصباح L_1 ؟
- كيف يتوهج المصباح L_2 ؟

فسر

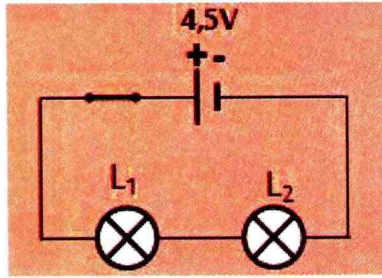
- بتوظيف النموذج الدوراني للتيار الكهربائي، بين كيف يمر التيار الكهربائي في الدائرة.
- أرسم شكل الدائرة الكهربائية المكافئة.

استنتج

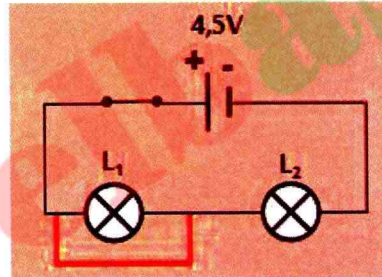
- عند وصل مربي مصباح بسلك ناقل للتيار الكهربائي، ماذا يحدث للمصباحين المربوطين على التسلسل؟
- هل يمكن تمثيل الدائرة الكهربائية الموافقة لهذه الحالة الكهربائية (الوثيقة 4)



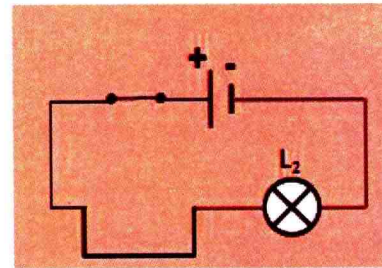
وثيقة 1 صورة لتركيب الدائرة



وثيقة 2 مخطط للدائرة الكهربائية



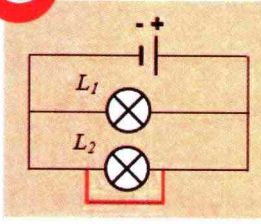
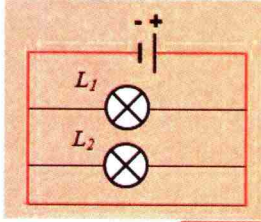
وثيقة 3 استقصار المصباح L1



وثيقة 4 مخطط للدائرة المستقطرة

3 تجربة

لديك العناصر الكهربائية التالية: عمود كهربائي مسطح (4,5V)، مصباحان (L_1 , L_2) متماثلان (6V)، قاطعة، أسلاك توصيل مختلفة.

وثيقة 5 استقصار المصباح L_2 وثيقة 6 استقصار المصباح L_2

جرّب ولاحظ

- أنجز الدارة المبينة في (الوثيقة 5)، ماذا تلاحظ قبل استقصار المصباح L_2 ؟
- استقصّر لمدة صغيرة المصباح L_2 بواسطة سلك، ماذا تلاحظ عن توهج المصباح L_1 ؟
- أرسم المخطط المكافئ للدارة.
- ألمس العمود الكهربائي، ماذا تلاحظ؟

استنتج

- ماذا يحدث عند استقصار مصباح موصل على التفرع مع مصباح آخر؟ علّل إجابتك.
- كيف يمر التيار الكهربائي في الدارة؟


1 - 2 - آثار استقصار الدارة الكهربائية:

نشاط

ماذا يحدث في دارة كهربائية مستقصرة؟

تجربة

لديك العناصر الكهربائية التالية: عمود كهربائي مسطح (4,5V)، مصباحان (L_1 , L_2) متماثلان (6V)، قاطعة، أسلاك توصيل مختلفة، صوف الحديد.



وثيقة 7 التركيب التجريبي

جرّب ولاحظ

- أنجز، بمساعدة أستاذك، الدارة المبينة في الصورة (الوثيقة 7).
- حقق استقصار المصباح L_2 ، ماذا تلاحظ في البداية؟ وبعد مدة قصيرة؟

فسّر

- إلأمّ ماذا يعود استقصار المصباح L_1 ؟ علّل إجابتك.

استنتج

- إلأمّ ماذا يؤدي استقصار العمود الكهربائي؟
- إلأمّ ماذا يؤدي استقصار أحد العناصر الكهربائية في المنازل؟ علّل إجابتك

وثيقة 9 حالة استقصار دارة



أمتنظ بالآهم

- عندما نوصل سلكا ناقلا بين طرفي عنصر كهربائي، يحدث استقصاره .
- في دائرة كهربائية بسيطة، استقصار العنصر الموصول مع العمود يؤدي إلى استقصار العمود الذي يسخن ويعرض للتلف .
- في دائرة كهربائية على التسلسل، استقصار أحد عناصرها لا يتسبب في فتح الدائرة الكهربائية .
- في دائرة كهربائية على التفرع، استقصار أحد عناصرها يؤدي إلى استقصار العمود الكهربائي وعدم اشتغال بقية العناصر الكهربائية .
- في حالة القطار، استقصار عنصر من الدائرة الكهربائية يؤدي إلى استقصار المآخذ، ما يتسبب في حريق .



استقصار المصباح



حريق في أسلاك توصيل



نتيجة دائرة مستقصرة



محول كهربائي يحترق


1-2 - الحماية من استقصار الدارة: عزل الأسلاك

نشاط أسباب الاستقصار:

لديك العناصر الكهربائية التالية: عمود كهربائي مسطح (4,5V)، مصباح (6V)، قاطعة، أسلاك توصيل مختلفة.

تجربة 1

لديك العناصر الكهربائية التالية: عمود كهربائي مسطح (4,5V)، مصباحان (L_1, L_2) متماثلان، قاطعة، أسلاك توصيل مختلفة، منصهرة.



وثيقة 9 حالة استقصار دارة

جرب ولاحظ

- حقق ثم جرب تركيب الدارة الكهربائية الميَّنة بالصورة (الوثيقة 9)، حيث يتلامس السلطان المستعملان للتوصيل في جزء غير مغلف منهما.
- ماذا تلاحظ؟ كيف تسمى هذه الظاهرة؟
- ما سبب حدوث هذه الظاهرة؟
- حاول أن تغلف السلكتين بشريط لاصق وعازل ثم أعد غلق الدارة الكهربائية، ماذا تلاحظ؟

فسر

- ماذا يحدث عند غلق دارة كهربائية بها بعض الأسلاك متلامسة في الجزء غير المعزول.

استنتج

- ماهي أهم أسباب استقصار دارة كهربائية؟

تجربة 2

تمعن

- بالعودة إلى التجربة المنجزة سابقا (الوثيقة 7):
- بمَ يمكنك تعويض صوف الحديد حتى لا تحترق وتتجنب إتلاف الأجهزة؟

استنتج

- بمَ يمكن تعويض صوف الحديد لحماية الدارة الكهربائية؟
- ماذا يحدث عند استقصار الدارة الكهربائية؟


2-2 - الحماية في المنزل : استعمال القاطع

نشاط

كيف نحمي الأجهزة الكهربائية في المنزل؟

تمعن

- تمعن في الصورة المقابلة (الوثيقة 10)
- على ماذا تحتوي؟
- ما دور العناصر السبعة المتماثلة؟
- كيف تشتغل حسب رأيك؟




قواطع التيار الكهربائي

وثيقة 10

استنتج

- كيف نحمي أنفسنا والأجهزة الكهربائية في المنازل؟



استعمال TIC

- امتداد لنشاطات الدارة المستقصرة باستعمال تكنولوجيا الإعلام والاتصال :
قم بزيارة الموقع التالي لمحاكاة الدارة المستقصرة


www.physiquecollege.free.fr/physique_chimie_college_lycee/cinquieme/electricite/courts-circuits.htm

أمنظظ بالآهم

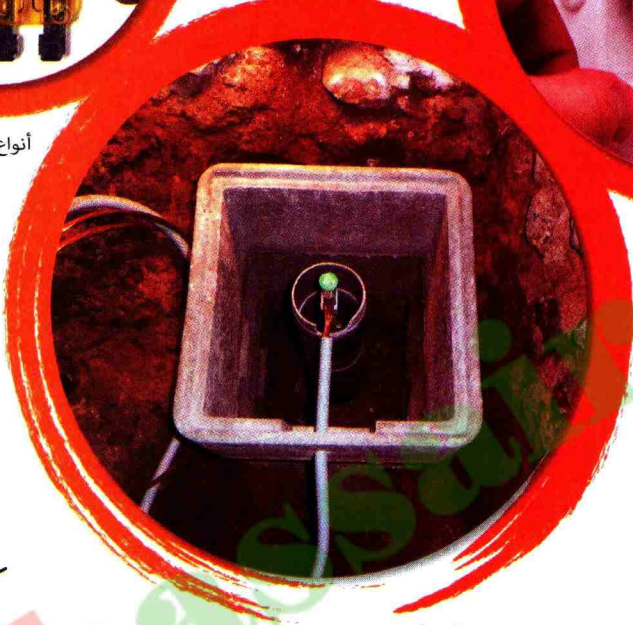
أسلاك توصيل مغلقة



أنواع مختلفة من المنصهرات



قاطع تفاضلي




مأخذ أرضي لتفادي الصدمات الكهربائية

لتجنب خطورة الدارة المستقصرة، يجب:

- تغليف أسلاك التوصيل بعازل كهربائي.
- وضع منصهرة في الدارة الكهربائية لحماية الأجهزة.

لحماية الأشخاص والأجهزة في المنزل من كل خطر كهربائي، يجب تركيب:

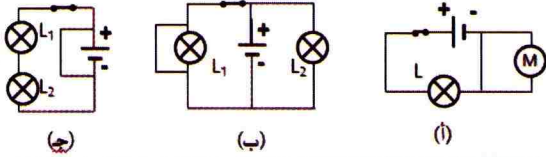
- منصهرة وقاطع كهربائي، يسمح بقطع التيار الكهربائي في كل المنزل عند الضرورة.



أطبق مهاراتي

6 العنصر الكهربائي المستقصر

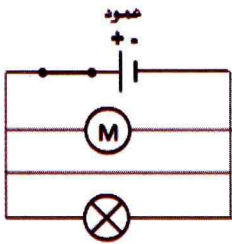
- 1- ما هو العنصر الكهربائي المستقصر في الدارات الكهربائية التالية؟



- 2- مثل مسلك وجهة التيار في كل دائرة.

7 الدارة القصيرة

- 1- لاحظ المخطط المبين في الشكل التالي، ثم اختر الإجابة الصحيحة من بين الإجابات التالية:

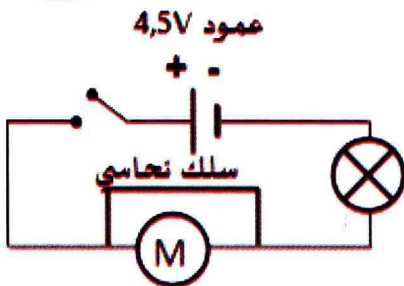


- أ/ المصباح في دائرة قصيرة.
ب/ المحرك في دائرة قصيرة.
ج/ المحرك يشتغل.
د/ يمكن أن يتلف المولد.

- 2- مثل جهة ومسلك التيار في الدارة.

8 حركة الدقائق المادية في الدارة المستقصرة

- حقّق الدارة التالية والمتشكلة من عمود، قاطعة، مصباح، محرك وأسلاك توصيل كما في المخطط المقابل.



- 1- ماذا تلاحظ عند غلق القاطعة؟
2- أعد رسم الدارة على كراسك ثم مثل حركة الدقائق المادية.

أفتر مهاراتي

1 أكمل الجملة التالية:

نحمي الأجهزة الكهربائية باستعمال التي تنصهر عندما يكون التيار الكهربائي، ونستعمل لقطع التيار الكهربائي في المنزل.

2 اجب بصحيح أو خطأ مع تصحيح الخطأ إن وجد.

- أ/ يحدث استقصار للمصباح مثلاً عندما نوصّل مربطيه بسلك التوصيل.
ب/ يتلف العمود الكهربائي المستعمل في الدارة القصيرة.
ج/ عند استقصار الدارة في المنزل الأجهزة الكهربائية تبقى سليمة.

3 عند محاولة إطفاء جهاز كهربائي قام أحد

التلاميذ بجذبه بقوة فتقطع الخيطان الداخليان وحدث اتصال بينهما، هل:

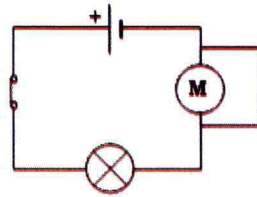
- أ/ الجهاز مازال يعمل.
ب/ الأسلاك مازالت معزولة.
ج/ أتلف الجهاز.

4 عند انطفاء مصباح الغرفة بشكل مفاجئ مع

حدوث فرقعة عند القاطع الكهربائي، نقول بأن المصباح احترق. فسّر ما حدث.

5 إليك المخطط النظامي المثل لدارة كهربائية

- 1- أجب بصحيح أو خطأ



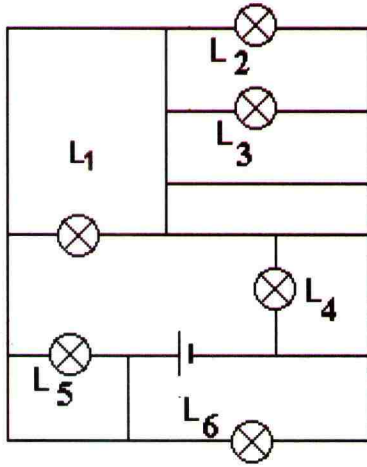
- أ/ القاطعة مفتوحة؟
ب/ المصباح يشتعل لكن المحرك لا يدور.
ج/ العمود مستقصر؟

2- نضيف سلك توصيل بين مربطي المصباح:

- أ/ مثل المخطط النظامي للدارة.
ب/ ما مخاطر هذا النوع من التوصيل؟ علّل.

12 أين الإستقصار؟

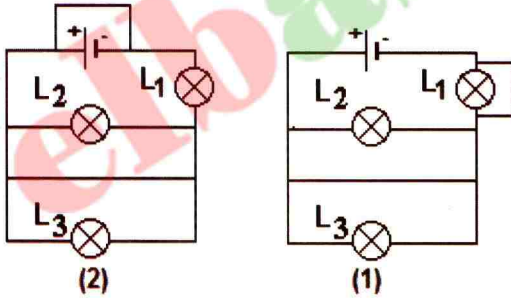
إليك مخطط الدارة الكهربائية المبين في الرسم أدناه:



- 1- ما هي الظاهرة الكهربائية التي حدثت في الدارة؟
- 2- ما هي المصابيح التي تبقى مضيئة؟
- 3- أرسم مسار التيار الكهربائي واذكر المصابيح المستقصرة.

13 حالتان من الاستقصار

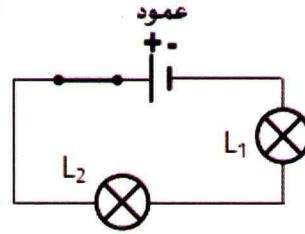
إليك المخططين الممثلين لدارتين كهربائيتين:



- 1- ماذا حدث في الدارتين؟
- 2- ما هي المصابيح المضيئة في الدارة (1)؟
- 3- هل الدارة معرضة لخطر؟ لم؟
- 4- نفس السؤال بالنسبة للمخطط (2).

9 استقصار مصباح مربوط على التسلسل في الدارة الكهربائية

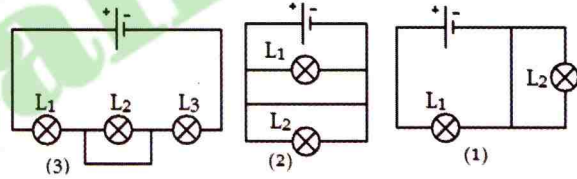
في المخطط التالي المصباح L1 متلف.



- 1- هل يشتعل المصباح L2. فسر إجابتك.
- 2- ماذا يحدث لو نستقصر المصباح L1، أعط تفسيراً لذلك.
- 3- أرسم مخطط الدارة حينئذ.

10 مسلك التيار الكهربائي في دارة مستقصرة

1- ما هي العناصر الكهربائية المستقصرة في الدارات التالية؟



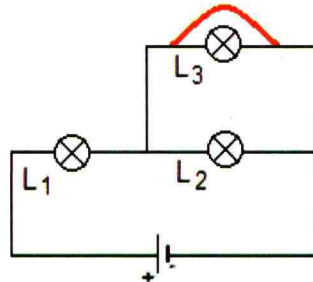
- 2- أعد الرسومات على كراسك وبيّن باللون الأخضر المسلك الناقل المتسبب في هذه الظاهرة في كل دارة.
- بيّن جهة التيار الكهربائي ومسلكه في كل دارة مع ذكر المصابيح المستقصرة وحالة الخطر إن وجد.

أوظف مهاراتي

11 استقصار في دارة كهربائية

نحدث استقصاراً في الدارة الكهربائية أدناه

- 1- ما هي المصابيح التي تبقى مضيئة؟
- 2- أرسم بلون المسلك الذي يأخذه التيار الكهربائي مع ذكر جهته.

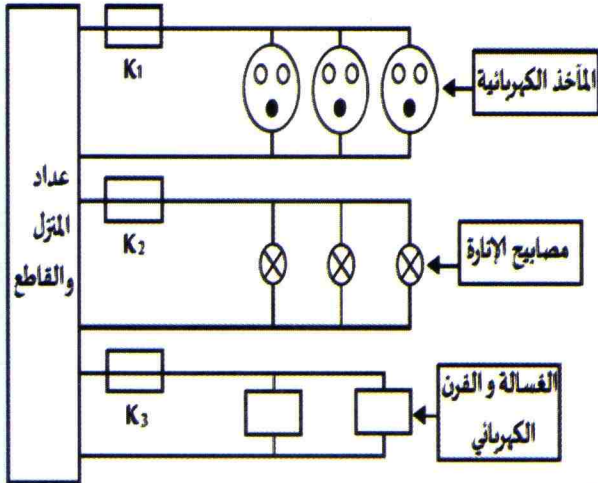


15 اشتغال أجهزة كهربائية في المنزل

في الصورة التالية هناك تمثيل مبسط لدارة منزل فيه أجهزة كهربائية وكهرومنزلية.

إذا انصهر القاطع K_3 :

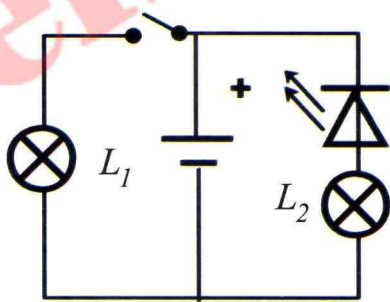
- 1- هل تشتعل المصابيح؟
- 2- هل تشتغل الغسالة والفرن الكهربائي؟ إذا كان الجواب بالنفي، اقترح طريقة لتشغيل الغسالة.



16 مصباحان و صمام ضوئي

صف حالة المصباحين L_1 و L_2 عندما:

- 1- نغلق القاطعة.
- 2- نغلق القاطعة ونستقصر الصمام الضوئي.
- 3- نستقصر L_1 والقاطعة مغلقة.



14 هل كل مولد يصلح لتشغيل أي مصباح؟

كيف يتم ربط المصباح بالمولد ليتوهج بشكل عادي؟ ماذا يحتاج مصباح التوهج المنزلي؟

لكي تجيب على هذه الأسئلة إليك مجموعة متنوعة من الأجهزة الكهربائية فيها عمودان كهربائيان، مصباحان، أسلاك توصيل و قاطعة.

حاول تشغيل هذين المصباحين بصفة عادية بتشكيل الدارات الكهربائية الملائمة في الحالات التالية:

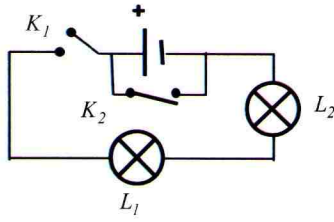
- 1- الدارة فيها مصباحان يشتغلان بصفة عادية.
- 2- الدارة فيها مصباحان يشتغلان بصفة عادية، وإذا وصلنا طرفي عنصر واحد في الدارة بسلك من النحاس فإن المصباحين ينطفئان.
- 3- الدارة فيها مصباحان يشتغلان بصفة عادية، وإذا فتحنا القاطعة فإنه يبقى مصباح واحد مشتعلا فقط.

قائمة الأدوات:

قائمة الأدوات		
العدد	الدلالة	الأدوات
2	3V و 6V	أعمدة
2	3V	مصباح
1	/	قاطعة
العدد الكافي	من النحاس	أسلاك التوصيل

19 قاطعتان في دارة كهربائية

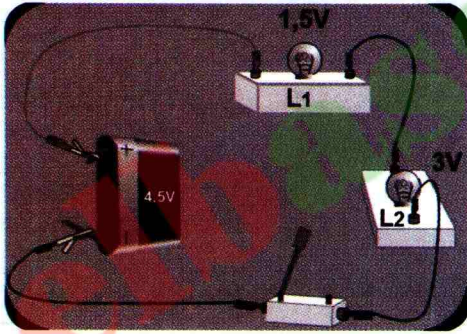
إليك المخطط النظامي التالي:



- 1 - بين ماذا يحدث في الحالتين التاليتين:
أ / غلق القاطعة K_1 فقط.
ب / غلق القاطعة K_1 ثم القاطعة K_2 .
- 2 - أي العمليتين السابقتين تعرّض الدارة للخطر؟
ولماذا؟
- 3 - كيف نتجنب خطر هذا النوع من الدارات
على الإنسان؟

20 تحليل وضعيات كهربائية

أنظر إلى الشكل التالي و تعرّف على مختلف العناصر الكهربائية المشكّلة للدارة الكهربائية.

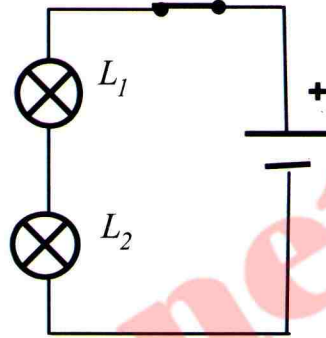


- 1 - مثل المخطط النظامي للدارة.
- 2 - ما نوع التركيب في الدارة الكهربائية السابقة؟ علل.
- 3 - هل يشتعل المصباحان؟
ماذا يجب أن تفعل حتى يشتعل المصباحان؟
- 4 - هل سيشتعلان بنفس الكيفية؟ علل.
- 5 - ماذا يحدث لو نزع المصباح L_1 من غمده؟
- 6 - ماذا يحدث لو نستقصر غمد المصباح L_2 ؟
- 7 - ماذا يحدث لو نستقصر المصباح L_2
كذلك؟ علل.

17 استقصار مصباح

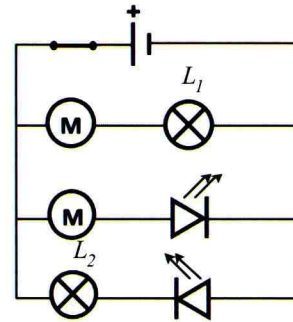
لاحظ المخطط النظامي التالي:

- 1 - ما نوع ربط المصباحين؟
- 2 - أعد رسم المخطط النظامي للدارة ثم أضف
سلكا حتى تستقصّر المصباح L_1 .
- 3 - أرسم مسار التيار الكهربائي في الدارة
المستقصرة.



18 حالات للإشتغال الكهربائي

- 1 - ما نوع ربط المصباحين L_1 و L_2 ؟
- 2 - هل يشتعل المصباحان معا.
- 3 - حدد العنصر الكهربائي الواجب استقصاره
حتى يشتغل المصباحان معا.
- 4 - لو نستقصر المحرك المربوط مع المصباح L_1
هل يتغير توهج المصباح عندئذ؟



مشروع
تكنولوجيا

كاشف مستوى الماء في خزان

كيف نستفيد من الدارة الكهربائية في حياتنا اليومية ؟

للدارة الكهربائية استعمالات كثيرة في حياتنا اليومية، في الإنارة والأجهزة الكهربائية والحاسوب، وفي الألعاب وغير ذلك.

في هذا المشروع التكنولوجي نتطرق إلى دارة كهربائية تسمح بمراقبة مستوى الماء في خزان.

1 مبدأ العمل

يسمح كاشف المستوى (الشكل 1) بتطبيق مفهوم الدارة الكهربائية، إذ بواسطة دارة كهربائية بسيطة وعملية، نكشف بواسطتها بسهولة وبدون عناء عن مستوى الماء في خزان انطلاقاً من لوحة قيادة.



نموذج لكاشف مستوى الماء.

الشكل 1

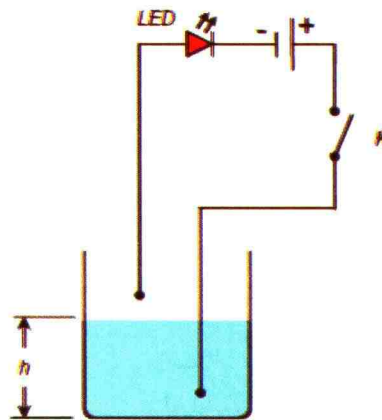
يعتمد كاشف المستوى على الناقلية الكهربائية للماء، ورغم أنها ضعيفة فإن ذلك لا يشكل عائقاً في الإنجاز (الشكل 2).

يُحدّد مستوى الماء بغلق دارة كهربائية بالماء الموجود في الخزان.

نظراً لأن الماء ناقل ضعيف للكهرباء، نستعمل مصابيح كهربائية ذات استطاعة صغيرة جداً أو صمامات ثنائية باعثة للضوء (بالإنجليزية: Light Emitting Diode, أو مختصراً LED).

2 مبدأ العمل

للكشف عن مستويات متعددة للماء في الخزان نستعمل دارة كهربائية (الشكل 3) بها عدة صمامات ثنائية باعثة للضوء.



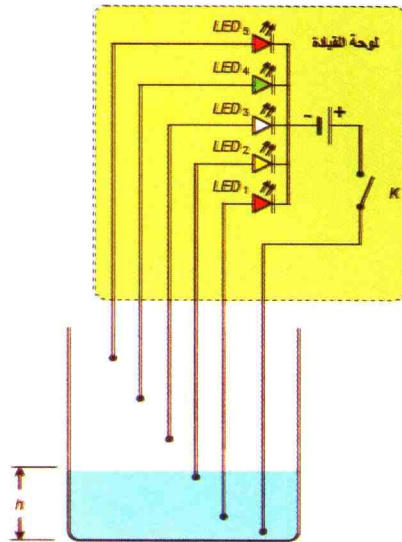
مبدأ العمل.

الشكل 2

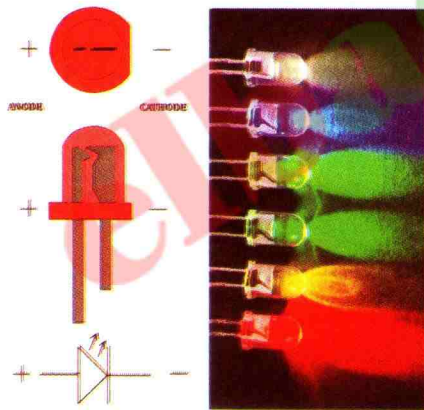
• لإنجاز كاشف مستوى الماء في الخزان نحتاج إلى:

- مولد كهربائي (عمود كهربائي مناسب)؛ صمامات ثنائية باعثة للضوء LED ذات ألوان مختلفة (حمراء، خضراء، صفراء، بيضاء)؛ قاطعة كهربائية (K)؛ كابل أسلاك توصيل بالمسبار (كابل الهاتف بـ 8 أسلاك كهربائية)؛ لوحة قيادة بأبعاد مناسبة حسب تصميمك .

تصمم لوحة القيادة بحيث تسمح لنا بكشف ارتفاع الماء في الخزان أو حجمه (لاحظ المثال المعطى بالشكل 1).



الشكل 3 الدارة الكهربائية



صورة لصمامات ثنائية باعثة للضوء (LED) ورمزها.

الشكل 4

• يكون عدد المستويات حسب رغبتك، إذ يمكن تصميم الدارة الكهربائية بإرفاق كل صمام ثنائي باعثة للضوء بالمستوى المرغوب فيه .

ينجز المسبار بحيث يكون طرف السلك الكهربائي الموصول بالقاطعة الكهربائية (K) (هو القطب المشترك) غير معزول داخل الخزان حتى الارتفاع الأعظمي للماء فيه، أما الأسلاك الكهربائية الأخرى الموصولة بالصمامات الثنائية $LED_1, LED_2, LED_3, LED_4, LED_5$ ينزع عازلها بمعدل $0,5cm$.

• تغمر الأسلاك الكهربائية للمسبار بصورة يكون البعد بين القطب المشترك وكل سلك من الأسلاك الكهربائية الأخرى لا يقل عن $1cm$ لتفادي إتلاف الصمامات الثنائية LED.

العمل المطلوب

1- جرّب الدارة الميينة بالشكل - 2 ، متعرِّفاً على القوة المحركة الكهربائية للمولد المسموحة لإعطاء توهج مناسب للصمام الثنائي الباعث للضوء وكيفية ربطه في الدارة الكهربائية (مستعينا بالشكل-4).

تنبيه: الصمام الثنائي الباعث للضوء له عتبة توتر كهربائي يتحملها (استشر أستاذك).

2- أنجز على محرر النصوص Microsoft word شكل الواجهة، كما هو مبين بالشكل-1 مثلا واطبعها على ورق لاصق.

3- حضّر علبة بلاستيكية وألصق عليها صورة الواجهة

التي طبعتها، ثم أحدث فيها ثقبوا مناسبة لكل من الصمامات $LED_1, LED_2, LED_3, LED_4, LED_5$ والقاطعة الكهربائية K.

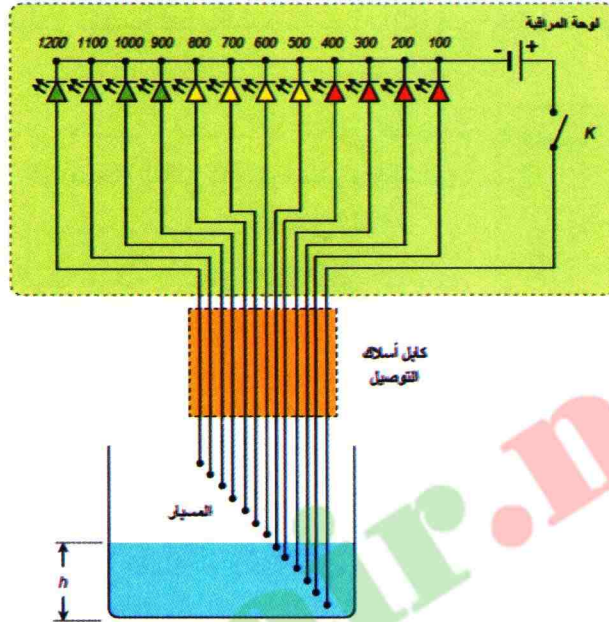
4- قم بربط عناصر الدارة الكهربائية في جزء لوحة المراقبة، وبعد ذلك اربط كابل أسلاك التوصيل بالمسبار .

5- حضّر المسبار بتثبيت السلك المشترك والأسلاك الأخرى على أنبوب بلاستيكي مثلا بواسطة الشريط اللاصق، محترما الأبعاد الموافقة للارتفاعات أو الحجم التي اخترتها سابقا.

أذهب بعيدا

4

– يمكنك تحسين هذا المشروع بقياس حجم الماء في الخزان بدقة أكبر وذلك بالإكثار من نقاط استشعار مستوى الماء فيه (الشكل – 5).



الشكل 5 الدارة الكهربائية لمراقبة حجم الماء في الخزان.

– في الأخير تكون لوحة المراقبة مثل ما هو مبين في الشكل 6 .



الشكل 6 صورة للوحة مراقبة حجم الخزان.

جولة تاريخية في عالم المصباح

تعتبر الشمس من بين الطبيعة أكبر وأقدم مصباح في الكون، ورغم أنها تنير الأشياء التي تحيط بالإنسان في النهار إلا أنه شعر بوحشة الليل، لأن النهار أصبح لا يكفيه في الكثير من الأحيان لكي يمارس نشاطاته المختلفة، وهذا كان سببا في البحث منذ القديم عن منابع ضوئية اصطناعية.

إلى وقت قريب، كانت المنابع الضوئية التي استعملها الإنسان تعتمد على المشاعل والشموع والمصابيح الزيتية. كانت هذه المصابيح مَلوثة للبيئة، مصحوبة بدخان وأبخرة وروائح.

في عام 1879 ابتكر المخترع الأمريكي توماس أديسون أول مصباح كهربائي عملي، وكان لاختراع المصباح الكهربائي قصة مؤثرة في حياته، ففي أحد الأيام مرضت والدته مرضا شديدا، وقد استلزم الأمر إجراء عملية جراحية لها، إلا أن الطبيب لم يتمكن من إجراء العملية نظراً لعدم وجود الضوء الكافي، واضطر للانتظار حتى الصباح لكي يجري العملية لها، ومن هنا تولد الإصرار عند أديسون لكي يضيء الليل بضوء مبهر.

انكبَّ أديسون على تجاربه ومحاولاته العديدة من أجل تنفيذ فكرته، حتى أنه خاض العديد من المحاولات الفاشلة في إطار سعيه من أجل نجاح اختراعه، وقال عندما تكرر فشله في تجاربه «هذا عظيم.. لقد أثبتنا أن هذه أيضا وسيلة فاشلة في الوصول للاختراع الذي نحلم به». وعلى الرغم من تكرار الفشل للتجارب، إلا أنه لم ييأس وواصل عمله بمنتهى الهمة باذلاً المزيد من الجهد، ولكن لم يتكلم اختراعه بالنجاح إلا بعد أن هداه الله إلى وضع زجاجة حول المصباح، لتغطي السلك المتوهج، وتزيد من شدة الإضاءة، ويصبح المصباح قابلاً للاستخدام من قبل الناس. سرعان ما انتشرت المصابيح الكهربائية منذ بداية القرن العشرين، وحلت محل الأنواع الأخرى من المصابيح. تنتج المصابيح الكهربائية إضاءة أكثر وأجود مما تنتجه الأنواع الأخرى من المصابيح، كما أنها أقل تكلفة وأسهل استعمالاً.

السؤال

أنجز بحثاً حول مصباح أديسون والمصابيح الكهربائية التي ظهرت بعد ذلك.

حلول تمارين ميدان الظواهر الكهربائية

تركيب الدارات الكهربائية

4- الجواب الصحيح هو (ب) لأن التيار الكهربائي الذي يسري في كل L_1 و L_2 مختلفان، ولدينا دارتان فيهما مولد.

الأجوبة (أ) و (ب) تمثل الربط على التسلسل لأنه يوجد دائرة واحدة فيها مولد.

6- الجواب الصحيح هو (ب) لأن التيار ينقطع.

8- الجواب الصحيح هو (ج). في الربط على التسلسل مجموع دلالة المصباحين يجب أن تكون قريبة أو تساوي دلالة المولد المستعمل.

10- 1- عند غلق القاطعة نلاحظ توهج المصباح الثلاثة بنفس الكيفية.

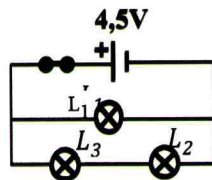
2- هناك ثلاث دارات كهربائية في المخطط بها مولد.

3- هذا النوع من التوصيل يسمى **الربط على التفرع**.

4- عندما ننزع المصباح L_1 من غمده يبقى المصباحان L_2 و L_3 مشتعلين لأن التيار الذي يغذي الدارة يتفرع إلى فرعين بدلاً من ثلاثة.

5- كل دارات الغرف في المنازل مربوطة على التفرع، لذا عندما نطفئ مصباحاً في غرفة مثلاً فإن إنارة الغرف الأخرى لا تنقطع.

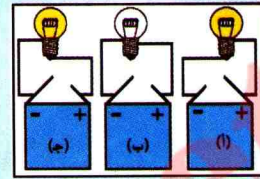
14- 1- تركيب المصباح في الصورة مختلط، لأن تركيب المصباح L_1 في الصورة على التفرع مع المصباحين L_2 و L_3 المتواجدة على التسلسل.



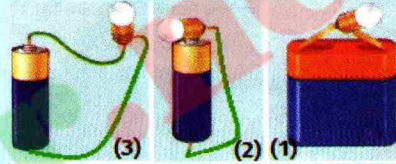
الدائرة الكهربائية

9- المصباح لا ينير لأن مربطي المصباح يتصلان بالقطب الموجب لمولدين.

11- المصباحان (أ) و (ج) مشتعلان لربطهما الصحيح بالعمود.



12-



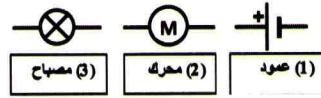
التركيب 1: التوصيل مباشر.

التركيب 2: التوصيل بسلك واحد.

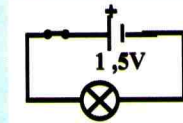
التركيب 3: التوصيل بسلكين.

16- الرموز النظامية للعناصر الكهربائية في

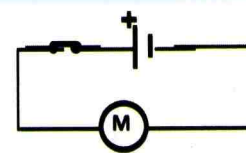
الصورة هي:



- مخطط الدارة والمصباح متوهج (تكون القاطعة مغلقة).



1-22



2- حتى يشتغل المحرك بشكل عادي يجب أن

تكون دلالته تساوي: $9V - 6V = 3V$

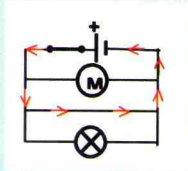
2- جدول الحقيقة.

الدارة ذهاب إياب			
المصباح		القاطع K_2	القاطع K_1
منطقي	0	1	0
مشتعل	1	1	1
منطقي	0	0	1
مشتعل	1	0	0

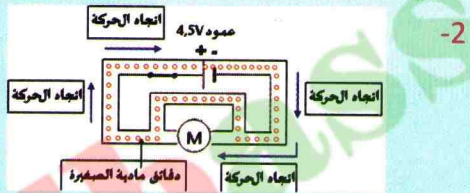
الدارة المستقصرة

7- 1- الأجوبة الصحيحة هي: أ و ب و د.

2- تمثيل اتجاه التيار:



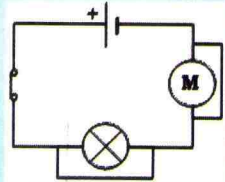
8- 1- عند غلق القاطعة نلاحظ توهج المصباح لكن المحرك لا يدور.



5- 1- أ / القاطعة مغلقة.

ب / المحرك مستقصر و بالتالي لا يدور. المصباح ليس مستقصرا بالتالي يشتعل.

ج/ العمود ليس مستقصرا .



ب / المحرك مستقصر و المصباح مستقصر بالتالي العمود مستقصر، تحدث شرارة كهربائية يمكن أن تؤدي إلى حريق.

3- تكون إنارة المصباحين L_2 و L_3 أضعف، لأن التيار في الفرع يستهلكه مصباحان بدلا من واحد؟

16 - 1- توجد دارتان بهما مولد على التفرع.

الأولى بها مصباح DEL مربوط في الاتجاه العكسي على التسلسل مع المصباح L_1 ، والثانية بها مصباح DEL مربوط في الاتجاه المباشر على التسلسل مع المصباحين L_2 ، L_3 .

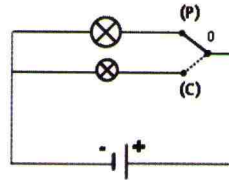
2- المصباح المضاء هي L_2 و L_3 ، بينما L_1 ليس مضاء.

الدارة الكهربائية ذهاب - إياب

5-

• عندما تكون القاطعة في الوضع P: نستعمل الإضاءة القوية.

• عندما تكون القاطعة في الوضع C: نستعمل الإضاءة الضعيفة.



7- الجهاز لا يشتغل إلا إذا غلقنا القاطعتين معاً، وبالتالي فإن الدارة ليست « ذهاب-إياب ».

المحرك يدور عندما نغلق القاطعة K_1 و القاطعة K_2 معاً. نربط مصباح LED على التسلسل في اتجاه مرور التيار حتى يكون المصباح مضاء عند غلق القاطعتين

9 - 1- هي دارة ذهاب-إياب.



الظواهر الضوئية والفلكية

يساعدنا الضوء الآتي من الشمس على رؤية الأجسام التي تحيط بنا، لأن هذه الأجسام تنثر الضوء في جميع الاتجاهات ؛ ويصل جزء منها إلى العين . وهي أهم المصادر الطبيعية للطاقة على وجه الأرض .



تُظهر الصورة بعض المصادر الضوئية .

• كيف طوّر الإنسان المصادر الضوئية الاصطناعية عبر التاريخ؟



بواسطة ضوء الشمس يتم تحديد الوقت في النهار بالساعة الشمسية، وذلك باستعمال الظل المحمول لساق خشبي أو معدني على لوح مدرج بوحدات زمنية مهما كانت الفصول .

• ما هي أنواع الساعات الشمسية؟



تبيّن الصورة كواكب المجموعة الشمسية حيث تظهر الأرض في الموقع الثالث بالنسبة للشمس، مركز المجموعة . إن لبعض هذه الكواكب أقمارا تدور حولها، مما يسبب أحيانا بعض الظواهر الفلكية .


• كيف تحدث ظاهرتا الخسوف والكسوف؟



تبيّن الصورة محطة شمسية بولاية تندوف تنتج الكهرباء بسعة 9 ميغاواط . هذه المحطة تسمح باقتصاد استهلاك 6000L من الوقود يوميا .

• ما هو مستقبل الطاقة الشمسية في الجزائر؟





وضعية للدراسة، يمكن معالجتها كاملة بعد الانتهاء من دراسة ميدان الظواهر الضوئية

يصل الضوء إلينا في الكون من نقاط مضيئة متألعة تملأ القبة السماوية، حيث كانت للإنسان الأول علامات يهتدي بها في الصحاري والبحار لتحديد اتجاهه وموضعه وضوء الشمس الذي يصل إلى كوكب الأرض على شكل إشعاع يحمل معه الطاقة الضرورية واللازمة للحياة. كما يمكننا أن نشاهد بالمنظار الفلكي تجمعا لصور رائعة للكواكب والنجوم البعيدة، وسُحُب الغبار الساطعة والمجرات المتألعة.



مظهر لجزء من الكون وكواكب المجموعة الشمسية

- ما هي مصادر الضوء الأخرى؟
- كيف ينتشر الضوء في الوسط المحيط بنا؟
- ما هي عناصر المجموعة الشمسية؟
- كيف يتحرك كوكب الأرض وقمره؟
- من أين تستمد الأرض طاقتها؟

1 المنايع والأوساط الضوئية

لرؤية الأجسام، ينبغي أن تتوفر شروط معينة بالنسبة لاستخدام المنايع الضوئية والأوساط الضوئية. كيف يمكنك رؤية أو عدم رؤية الأجسام عبر الأوساط الضوئية؟

1-1 المنايع الضوئية

نشاط

تصنيف المنايع الضوئية

تمعن في الوثيقة

إليك الصور الآتية التي تمثل منايع ضوئية مختلفة.



وثيقة 4



وثيقة 3



وثيقة 2



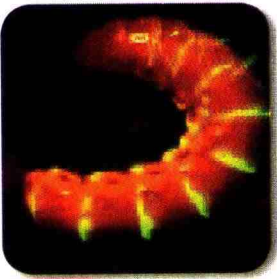
وثيقة 1



وثيقة 8



وثيقة 7



وثيقة 6



وثيقة 5

- حدد صور الأجسام التي تنتج الضوء بنفسها.
- حدد الصور التي تمثل أجساما تستمد الضوء من غيرها.
- من بين هذه المنايع الضوئية، حدد التي يتدخل الإنسان في إنتاج ضوءها والتي ليس للإنسان دخل في إنتاج ضوءها.

استنتج

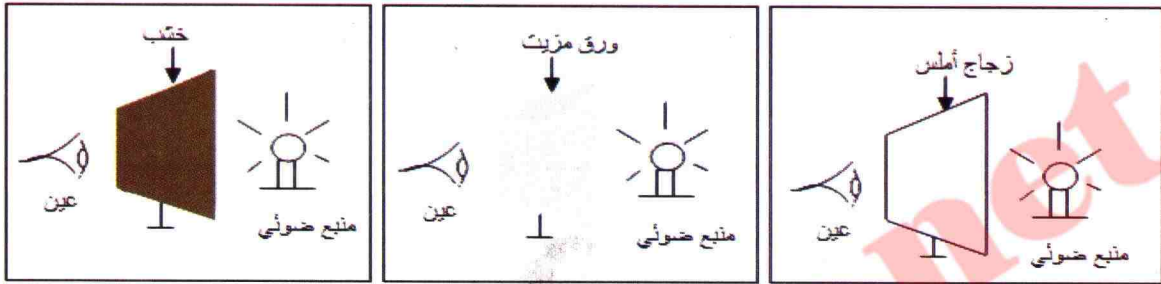
• أذكر أمثلة عن كل صنف.

تصنيف الأوساط الضوئية

نشاط

تمعن في الوثيقة

تضم (الوثيقة 9) منبعا ضوئيا، صفيحة زجاج أملس، ورقا مزيتا، لوحة من الخشب:




الأوساط الضوئية

وثيقة 9

- في أي وضعية من الوضعيات الثلاث يمكن رؤية المنبع الضوئي عبر الأجسام الموضوعة بين المنبع الضوئي والعين؟
- أي وضعية تسمح برؤية المنبع الضوئي بوضوح؟
- أنجز تجارب مع زملائك بتوجيه من الأستاذ، تؤكد فيها نتائج هذه الوضعيات.

استنتج




- كيف تصنف الأوساط الضوئية؟
- ما التي تسمح بالرؤية؟
- أذكر أمثلة عن كل صنف.

أمتنظ بالآهم

المنابع الضوئية

تصنف المنابع الضوئية إلى أجسام مضيئة وأجسام مضاءة.

- الأجسام المضيئة : هي الأجسام التي تصدر الضوء بذاتها ومنها الطبيعية مثل الشمس والنجوم والاصطناعية مثل لهب النار ومصباح اليد.



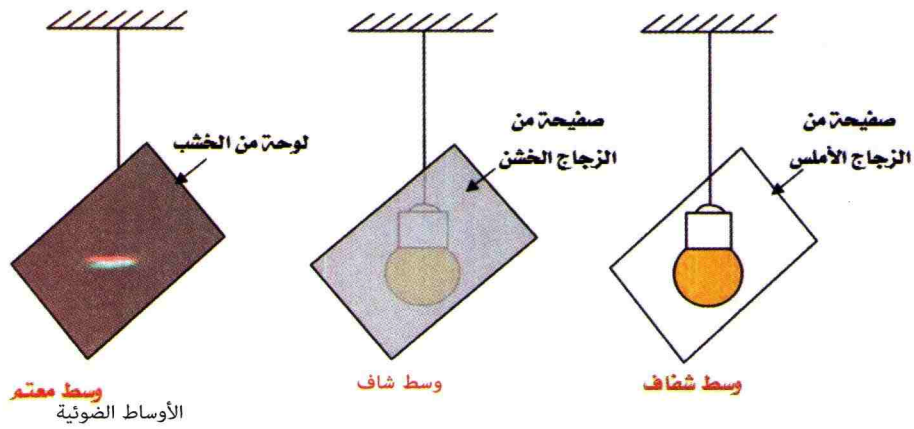
الأجسام المضيئة الطبيعية والاصطناعية

- الأجسام المضاءة : هي الأجسام التي تستمد ضوءها من غيرها ومنها الطبيعية والاصطناعية.

الأوساط الضوئية


تصنف الأوساط الضوئية إلى ثلاثة :

- الوسط الشفاف : هو وسط يسمح بمرور الضوء، ونرى من خلاله الأجسام بوضوح، مثل الزجاج المصقول والماء والهواء و الزجاج الخشن.
- الوسط الشاف : هو وسط يسمح بمرور جزء من الضوء، ونرى من خلاله بشكل غير واضح، مثل الورق المزيّت وورق الأنسوخ والسُّحْب.
- الوسط العاتم : وسط لا يسمح بمرور الضوء، ولا نرى من خلاله الأجسام إطلاقاً، مثل الخشب والورق المقوى والصفحة المعدنية والجدار.



2 الانتشار المستقيم للضوء

ذهبت في يوم مشمس مع زملائك في نزهة مدرسية إلى غابة أو واحة في منطقتك، فشاهدت الشمس تنثر خيوطها الذهبية عبر أشجار الغابة. وعند رجوعك إلى المتوسطة، طلب منك أستاذك اقتراح نشاطات تجيب فيها على الأسئلة الآتية (الوثيقة 10):



انتشار ضوء في غابة

وثيقة 10

- هل ترى فعلا ضوء الشمس؟ علّل
- ما هو شرط الرؤية المباشرة للأشياء؟
- كيف ينتشر الضوء في الوسط المحيط بنا؟
- كيف يتشكل الظل؟

1-2 مبدأ الانتشار المستقيم للضوء

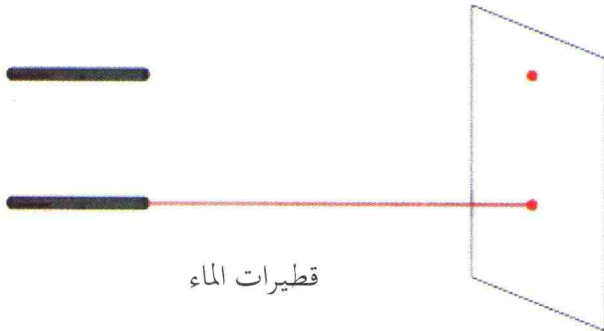
1 نشاط ضوء الليزر

جرّب ولاحظ

لديك منبع ليزر (Stylet).
وجه ضوء الليزر إلى شاشة بيضاء في القسم (الوثيقة 11).
كرر التجربة بذر الطباشير على ضوء الليزر.

فسّر

- لماذا يظهر ضوء الليزر لفترة وجيزة عند ذره بالطباشير؟
- استنتج ما إذا كنت ترى حقيقة الضوء.
- ما هو شرط رؤية الطباشير؟




ضوء الليزر

وثيقة 11

نشاط 2 المنبع الضوئي والألواح المثقوبة

جرب ولاحظ

- خذ ثلاثة ألواح متماثلة الشكل بها ثقوب متماثلة تقع في نقطة تلاقي قطري اللوح، مصباح التوهج، شاشة.



التركيب التجريبي

وثيقة 12

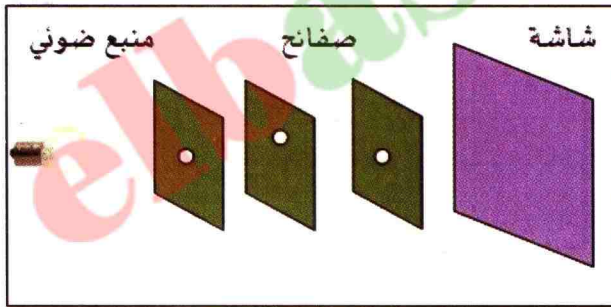
- ضع هذه الألواح العاتمة بعضها خلف البعض، بشكل غير منتظم، أي ليست على استقامة واحدة (الوثيقة 12).

- ضع اللوح الأول مقابل مصباح كهربائي متوهج بحيث تكون شاشة خلف الألواح الثلاثة كما هو موضح في (الوثيقة 13 أ).

• ماذا تلاحظ؟

- ضع الآن الألواح المثقوبة والمنبع الضوئي على نفس الاستقامة (الوثيقة 13 ب).

• ماذا تلاحظ؟

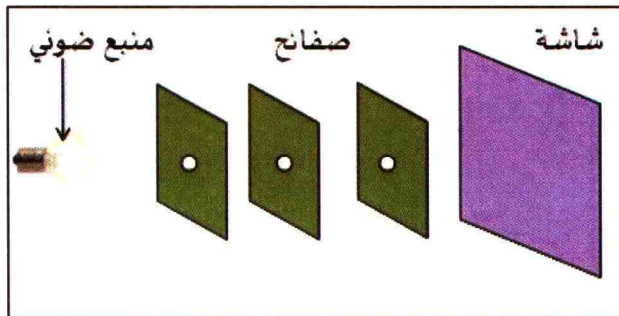


تركيب الألواح

وثيقة 13 أ

فسر

• لماذا تظهر بقعة مضيئة على الشاشة؟



تركيب الألواح

وثيقة 13 ب

استنتج

• كيف ينتشر الضوء في وسط متجانس؟

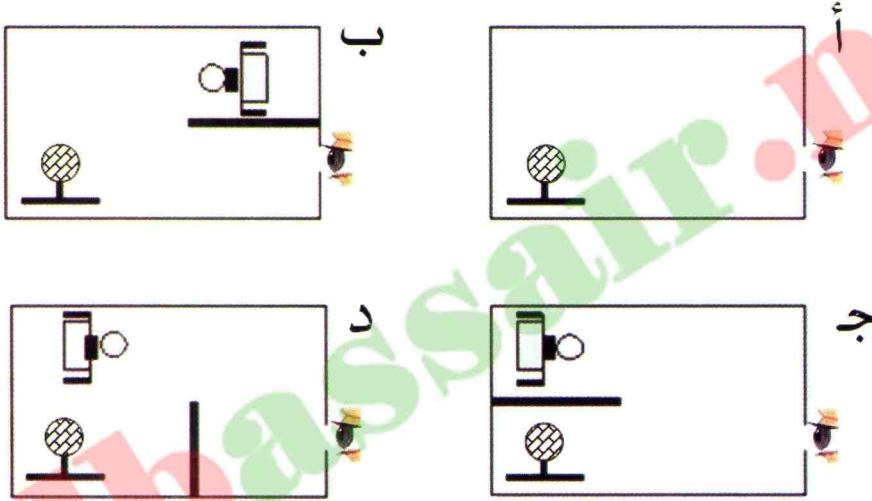
• كيف تمثل مسار الضوء؟

2-2 الضوء وظاهرة الرؤية

نشاط 1 كيف تتم رؤية الأجسام؟

جرّب ولاحظ

- حَضِّرْ علبة من الورق المقوى، أوجهها الداخلية سوداء، تحمل ثقباً في أحد أوجهها.
- ضع بداخلها كرة تنس بيضاء، كما تبين (الوثيقة 14 أ).
- برأيك ماهي الوضعية التي تسمح لك برؤية كرة التنس بوجود مصباح مشتعل و حاجز عاتم داخل العلبة (الوثيقة 14).
- ناقش إقتراحاتك مع زملائك بتوجيه من الأستاذ.
- حَقِّق الآن التجربة.



كرة التنس في علبة من الورق المقوى

وثيقة 14

- أذكر ماتشاهده من خلال الثقب في كل وضعية (14 أ)، (14 ب) و (14 ج) و (14 د) .

فسّر


- في أي وضعية ترى الكرة؟ علّل إجابتك .

استنتج

- ماهي شروط رؤية جسم مادي؟



نشاط 2 الرؤية المباشرة وغير المباشرة



وضع العين ومناطق الرؤية

وثيقة 15

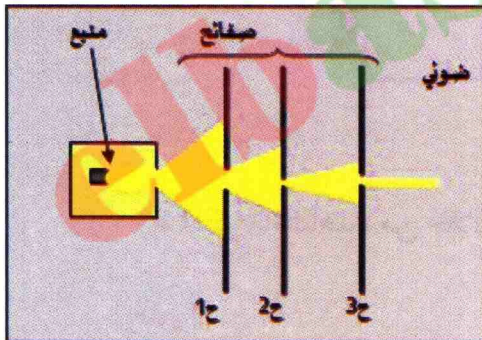

جرب ولاحظ

- ضع جسما، كرة التنس مثلا، خلف حاجز عاتم يحمل ثقباً صغيراً على شكل مستطيل، كما في (الوثيقة 15).
- قف أمام الحاجز، وابحث بالتحرك الشاقولي عن مناطق تسمح لك برؤية كامل الكرة أو جزء منها أو عدم رؤيتها.
- اقترح مع زملائك وبمساعدة الأستاذ رسماً توضّح فيه حدود كل منطقة من المناطق السابقة.

استنتج

- في أي منطقة يمكن رؤية الكرة كاملة؟
- في أي منطقة يمكن رؤية جزء من الكرة؟
- في أي منطقة لا يمكن رؤية الكرة؟

2-3 الحزمة الضوئية والشعاع الضوئي



مرور الضوء عبر ثقوب الألواح

وثيقة 16

نشاط 1 الحزم الضوئية

جرب ولاحظ

- خذ ثلاثة ألواح متماثلة مربعة الشكل بها ثقوب دائرية مختلفة الأقطار ح1، ح2، ح3، كما تبين (الوثيقة 16).
- ضع هذه الألواح بعضها خلف البعض أمام منبع ضوئي (مصباح يدوي مثلاً)، بحيث يمكن لجزء من الضوء أن يعبر من الثقوب في الألواح: ح1 ح2، ح3.
- ماذا تلاحظ؟

فسر

- كيف يمر الضوء من خلال الثقوب المختلفة الأقطار؟

استنتج

- ما الحزمة الضوئية؟

أنتفض بالأهم



آلية رؤية جسم مضاء



آلية رؤية جسم مضيء

• الانتشار المستقيم للضوء

ينتشر الضوء في وسط شفاف ومتجانس في جميع الاتجاهات وفقاً لخطوط مستقيمة تمثل مسارا يمكننا للضوء وتحمل سهما يحدد جهة انتشاره.

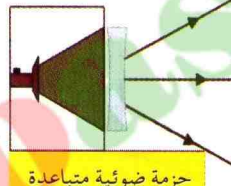
• شروط رؤية نقطة من جسم

- نرى نقطة من جسم مباشرة إذا أمكن إنشاء الشعاع الضوئي بين النقطة وعين المشاهدو من النقطة إلى العين.
- مجموع نقاط الجسم المرئية من طرف المشاهد تشكل الجزء المرئي من الجسم.

• الحزم الضوئية

تُصنّف الحزم الضوئية إلى:

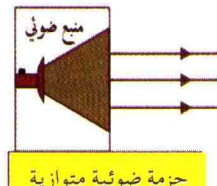
- حزمة ضوئية متوازية: الأشعة المكونة لها متوازية.
- حزمة ضوئية مخروطية متباعدة: الأشعة المكونة لها متفرقة.
- حزمة ضوئية مخروطية متقاربة (متجمعة): الأشعة المكونة لها تتجمع في نقطة واحدة.



حزمة ضوئية متباعدة



حزمة ضوئية متقاربة



حزمة ضوئية متوازية

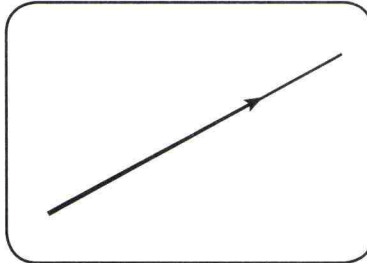
الحزم الضوئية

• نموذج الشعاع الضوئي

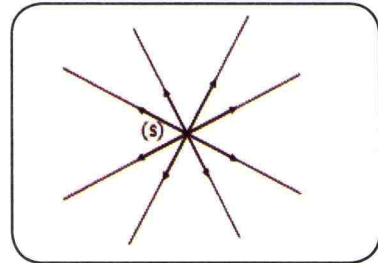
هذا النموذج يسمح لنا بتمثيل مسار الضوء بخط مستقيم عليه سهم يحدد اتجاه انتشار الضوء.



الانتشار المستقيم للضوء



نموذج الشعاع الضوئي



مُدجّة الأشعة الضوئية الواردة من المنبع الضوئي (S)

الظل والظليل


3

نشاط 1 الظل الناتج عن منبع ضوئي واسع

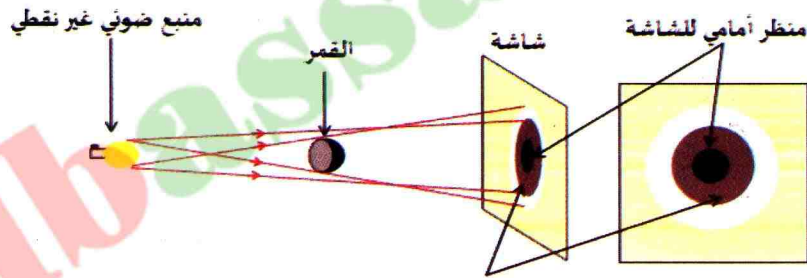
جرّب ولاحظ

إليك الوسائل التالية : كرة صغيرة عاتمة، مصباح كهربائي ذي حبابة زجاجية كبيرة، شاشة.
- ضع الكرة بين الشاشة والمصباح الكهربائي المتوهج، كما في (الوثيقة 17).

- صف ما تلاحظه على الشاشة.
- ما هي المنطقة غير المضاءة من الكرة؟



التركيب التجريبي وثيقة 17



مخطط التركيب التجريبي وثيقة 18

فسّر

- لماذا تظهر على الكرة منطقتان، إحداهما مضاءة والثانية مظلمة؟
- ماذا تمثل المناطق المختلفة على الشاشة؟

استنتج

- كيف تسمي المنطقة غير المضاءة من الكرة؟
- كيف تسمي المنطقة المظلمة على الشاشة؟
- كيف تسمي المنطقة المحصورة بين المنطقتين المضاءة والمظلمة على الشاشة؟

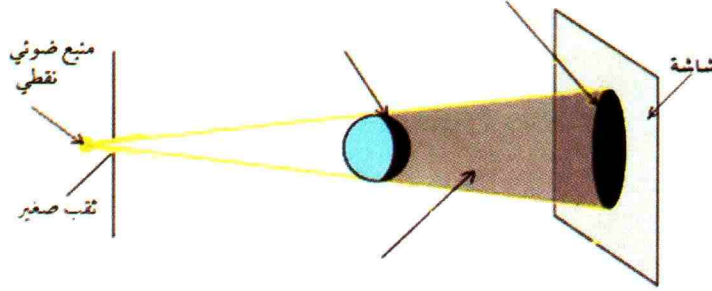




نشاط 2 حالة المنبع الضوئي النقطي

جرّب ولاحظ

أعد التجربة السابقة باستعمال منبع نقطي (الوثيقة 19)



الظل الناتج عن منبع ضوئي نقطي وثيقة 19

فسّر

- لماذا لا تظهر منطقة الظليل على الشاشة؟
- هل يبقى الظل المحمول مظلمًا حتى ولو استعملنا منبعًا ضوئيًا مُلَوَّنًا؟


استنتج

- ماذا تشاهد عندما تضع جسمًا عاتماً أمام شاشة مضاءة بمنبع ضوئي نقطي؟

نشاط 3 الظل وظاهرة الرؤية

جرّب ولاحظ

نستعمل تجهيز التجربة السابقة (الوثيقة 20).



الظل وظاهرة الرؤية وثيقة 20

– اثقب الشاشة في ثلاث مناطق، بحيث تكون على استقامة واحدة وفي نفس المستوى من الكرة والمنبع الضوئي كما في (الوثيقة 20) :

– انظر من كل ثقب في الشاشة في جهة المنبع. ماذا تلاحظ؟

فسر

- متى تكون الرؤية كلية؟
- متى تكون الرؤية جزئية؟
- متى تنعدم الرؤية؟

استنتج

- كيف تسمي، المنطقة من الشاشة التي لا يصل إليها أي شعاع ضوئي؟
- كيف تسمي المنطقة من الشاشة التي يصل إليها جزء من أشعة الضوء؟
- كيف تسمي الفضاء بين الكرة والشاشة الذي لا يمر به أي شعاع ضوئي؟


نشاط 4 الظل والظليل

أيّما تذهب وتقف، إلا وتلاحظ الظل والظليل، ابحث كيف يمكن تغيير ظل وظليل الأشياء بتغيير المنابع الضوئية.

الوسائل المستعملة: شاشة، منبعان ضوئيان، كرة تنس الطاولة عاتمة
إن أبسط سطح يُمكنك من مشاهدة تشكّل الظل هو سطح مستوٍ، يسمى عادة بالشاشة، ويُفضل أن تكون بيضاء اللون.

جرّب ولاحظ

الوضعية الأولى:



وثيقة 21 تشكل الظل

- استعمل في البداية منبعاً ضوئياً واحداً: شمعة أو مصباحاً كهربائياً.
- ضع بين المنبع الضوئي (الشمعة) والشاشة البيضاء كرة تنس وطائر لعبة أو أشياء أخرى، تسمح بتشكّل الظل.


- ماذا تلاحظ على الشاشة؟
- غير المسافات بين منبع الضوء وكرة التنس والشاشة. ماذا تلاحظ؟

فسر

- ما علاقة تشكّل الظل بشروط التجربة: المسافة والإضاءة وشكل الظل؟

استنتج

- ما شكل الظل في الحالتين؟
- 1- كرة تنس قريبة من الشمعة؟
- 2- كرة تنس قريبة من الحاجز؟



وثيقة 22 تشكل الظليل

الوضعية الثانية:


- استعمل الآن منبعين ضوئيين (شمعتين) متجاورين كما في (الوثيقة 22).
- ضع كرة تنس تقريبا في منتصف المسافة بين الحاجز والشمعتين.
- ماذا تلاحظ على الشاشة؟

فسر

- كيف يتشكل ظليل كرة التنس على الشاشة؟ علل؟

استنتج

- لم يظهر ظليلان لكرة التنس على الشاشة؟



وثيقة 23 تشكل الظليل

الوضعية الثالثة:

- استعمل أيضا منبعين ضوئيين (شمعتين) بجوار بعضهما كما في (الوثيقة 23).
- ضع كرة تنس بين الشاشة والشمعتين، ولكن قريبة من الشاشة.
- حدد الظل المتشكل بكل منبع.
- ماذا تلاحظ على الشاشة؟

فسر

- كيف يتشكل الظل والظليل لكرة التنس على الشاشة؟

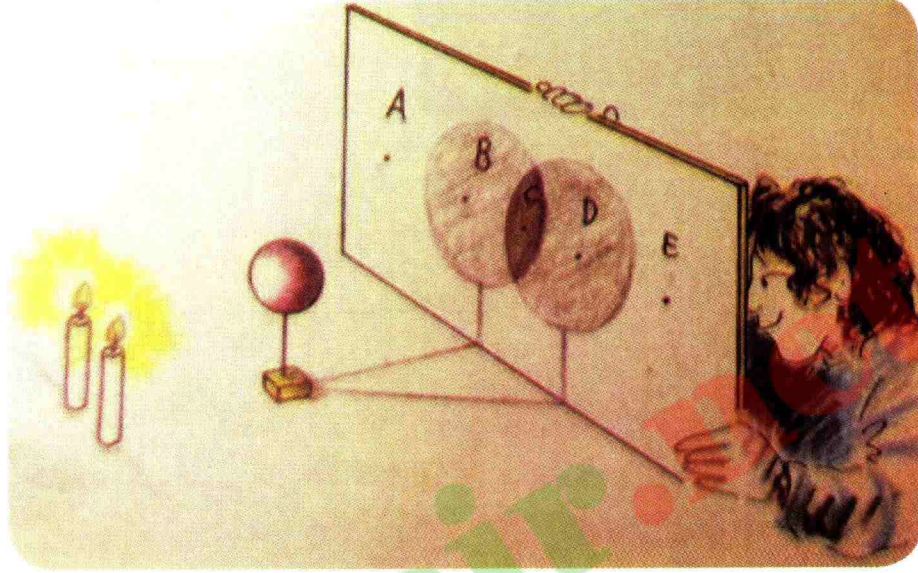
استنتج

- لم تظهر على الشاشة منطقة الظل بين الظليلين لكرة التنس؟

الوضعية الرابعة :

انظر من خلال كل ثقب من الثقوب : A ، B ، C ، D ، E من خلف الشاشة في اتجاه لهب الشمعتين، كما توضح (الوثيقة 24) .

- صف ملاحظاتك .



وثيقة 24 رؤية المنبعين الضوئيين من خلف الشاشة

فسّر

• كيف ترى المنبعين الضوئيين من خلال كل ثقب من الثقوب من خلف الشاشة؟

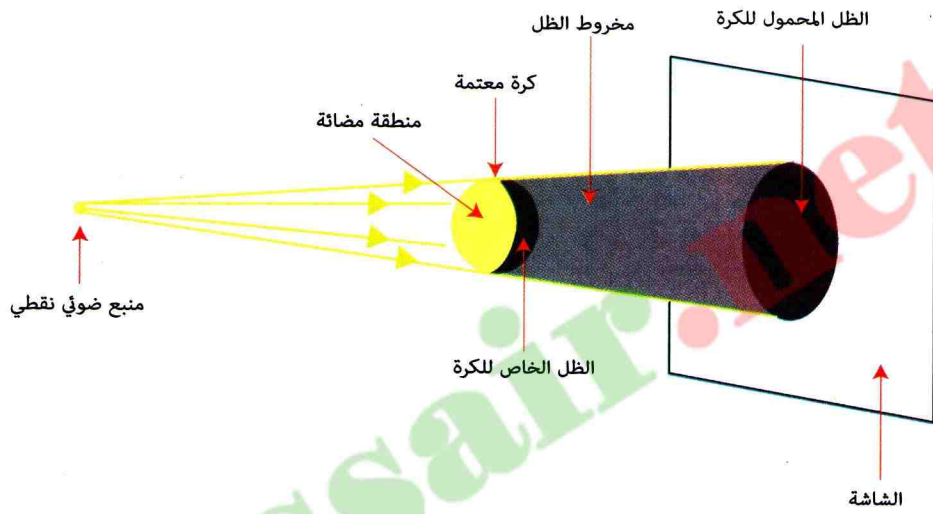
استنتج

• لم ترى المنبعين الضوئيين من بعض الثقوب ولا تراهما من البعض الآخر؟

أمتض بالآهم

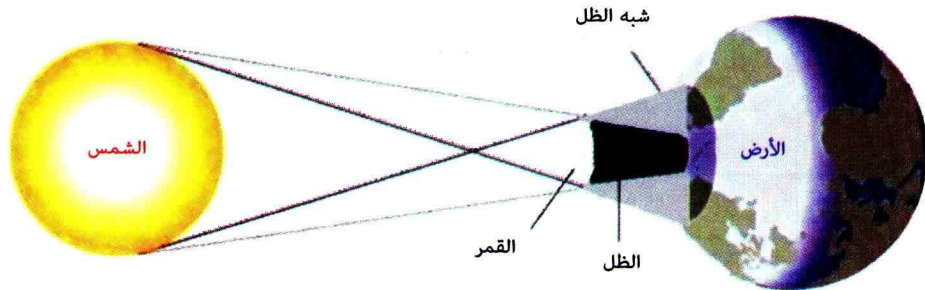
عندما يُسلط ضوء منبع ضوئي واسع أو نقطي على جسم عاتم، تتشكل على هذا الجسم وفي الفضاء المحيط به المناطق التالية:

- منطقة مظلمة على الجسم، تُسمى **الظل الخاص**.
- منطقة مظلمة على الشاشة، تُسمى **الظل المحمول (الساقط)**.
- منطقة مظلمة بين الجسم والشاشة، تُسمى **مخروط الظل**.



تشكل الظل بمنبع ضوئي نقطي

- في حالة منبع ضوئي واسع فقط، تتشكل منطقة مضطربة تُسمى **الظليل (شبه الظل)**.
- منطقة الضوء:** هي المنطقة التي يُرى منها المنبع الضوئي.
- منطقة الظل:** هي المنطقة التي لا يُرى منها المنبع الضوئي.
- منطقة الظليل:** هي المنطقة التي يُرى منها جزء من المنبع الضوئي الواسع.



تشكل الظل و الظليل بمنبع ضوئي واسع (الشمس) في ظاهرة كسوف الشمس

أفتر معارضي

ب الجسم المضيء هو الجسم الذي.....

الضوء، بينما الجسم المضاء هو الجسم الذي....

الضوء الوارد إليه .

4 إليك الأجسام التالية : الشمس، هلال القمر،

لهب شمعة، قيس، شاشة حاسوب أثناء الاشتعال،

شاشة سينما أثناء العرض، سبورة، كتاب، عود

ثقاب مشتعل، مصابيح التوهج منطفئة، حشرة

البراعة .

- أكمل الجدول التالي بوضع كل جسم في الخانة

المناسبة له :

الأجسام المضيئة	الأجسام المضاءة

1 اذكر ثلاثة أجسام مضيئة وثلاثة أجسام مضاءة .

2 أكمل الفراغ في الجملتين التاليتين :

الأجسام.... هي الأجسام التي..... الضوء بنفسها .

الأجسام..... هي الأجسام التي..... الأتي إليها من غيرها .

3 أكمل الفراغات بما يناسب من الكلمات التالية :

مضاء - يُصدر - منابع ضوئية - مضيئا - ينثر .

لنتمكن من رؤية جسم، يجب أن يكون.....

أو..... نسمي الأجسام المضيئة والمضاءة

5 لتكن الأجسام التالية : لهب شمعة، بركان ثائر، بدر القمر، شاشة التلفزة قبل الاشتعال، حشرة مصباح

الليل، مصباح الجيب، كوكب المريخ، الحديد المنصهر، مصابيح التوهج والتألق في حالة التشغيل، الطاولة،

الشعلة، الشجرة .

- ضع كل جسم من هذه الأجسام في الخانة المناسبة له من الجدول التالي :

الأجسام المضيئة		الأجسام المضاءة	
الاصطناعية	الطبيعية	الاصطناعية	الطبيعية

6 أكمل الجدول أدناه بوضع كلمة (نعم) أو (لا) مع إعطاء مثال في كل حالة .

الوسط	الشفاف	الشفاف	العاتم
يسمح بمرور الضوء			
يمكن الرؤية من خلاله			
مثال			

7 إليك الأوساط الضوئية التالية:

ورقة بيضاء مبللة بالزيت، زيت الزيتون في زجاجة، لوح خشب، زجاج أنبوب اختبار، كتاب، صفيحة معدنية، سيورة، لوح زجاجي مصقول، حوض الأسماك، قارورة بلاستيكية من ماء معدني، ضع كل وسط في الخانة المناسبة.

الأوساط الشفافة	الأوساط الشافة	الأوساط العاتمة

13 وصف منحى الضوء

صف منحى (مسار) الضوء عندما تقول «أنا رأيت صديقي أحمد».

14 بين التعبير اللاعلمي والتعبير العلمي

يستعمل الإنسان في حياته اليومية بعض العبارات من النوع: «رمى بنظراته النارية».

هل تمثل هذه العبارة وصفا فيزيائيا؟

ابحث في التراث الشعبي عن بعض العبارات بهذا النوع.

15 هل القمر مصدر للضوء؟

يقول يوسف «القمر مصدر للضوء ولكن لم يسبق لي أن رأيت الضوء ليلا يسقط عليه (يُرد إليه)» ماذا تقول أنت في هذه الظاهرة؟

16 هل نرى ضوء الشمس؟

في الأجواء المغبرة جدا، يُعتَقَد أننا نرى ضوء الشمس الساقط (الوارد) من خلال نافذة الحجر، هل يُرى الضوء فعلا؟ برر إجابتك.

8 من بين الأوساط التالية هناك وسط عاتم، ما هو؟

- حبابة مصباح كهربائي

- كمية قليلة من الماء

- فقاعة صابون

- كمية قليلة من الحليب

9 املأ الفراغات بالكلمات المناسبة:

يتكون الظل عندما نضع جسما ... أمام منبع ضوئي ... في منطقة الظليل يمكن رؤية ... من المنبع الضوئي.

10 كيف تفسّر، غياب القمر

والنجوم في وضوح النهار؟

أطبق مهارتي

11 تطبيقات في حياة الإنسان

ما هي أول التطبيقات العلمية المباشرة للظل في حياة الإنسان؟

12 تشكل الظل والظليل

متى يكون للجسم ظل فقط؟ ومتى يكون للجسم ظل وظليل؟

17 تصنيف الحزمة الضوئية

أكتب تحت كل رسم نوع الحزمة الضوئية مع التعليل.

18 الأجرام السماوية

– من بين الأجسام السماوية الآتية ضع كلمة مضيء أو مضاء في الخانة المناسبة:

الأجسام	الأرض	نجم	القمر	الزهرة	مذنب
الأجسام المضيئة					
الأجسام المضاءة					

19 مرآة عاكسة

في يوم مشمس، سلط أحمد ضوء الشمس بواسطة مرآة عاكسة على غار ليرى ما بداخله.

- 23 الأجزاء الرئيسية للعين
- 1- هل العين جهاز استقبال أم إرسال للضوء؟
 - 2- وضح كيفية رؤية كل من الولاة والجسم.
 - 3- ما هي الأجزاء الثلاثة الرئيسية للعين من وجهة نظر الفيزياء؟



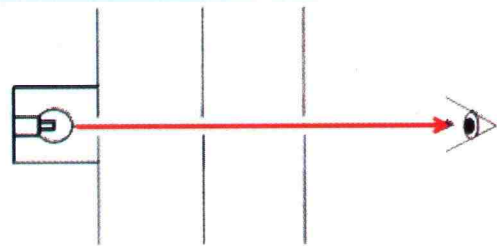
20 ظل في الليل!

وقف سعيد في إحدى الليالي المظلمة بالقرب من عمود كهربائي للإنارة العمومية فشاهد ظله مرسوماً أمامه على الأرض.

- 1- أين يوجد العمود الكهربائي بالنسبة له؟
- 2- مثل برسم مبسّط تشكل ظله على الأرض.

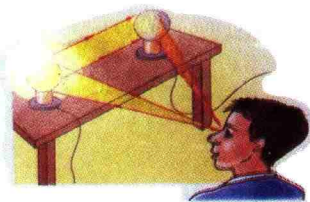
21 الانتشار المستقيم للضوء

تمثل الصورة، رؤية المنبع الضوئي عبر ثلاثة حواجز. قدّم تفسيراً فيزيائياً لهذه الظاهرة.



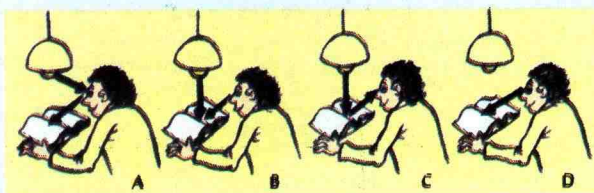
24 مصادر الضوء وظاهرة الرؤية:

فسّر فيزيائياً، كيف يرى الطفل المصباحين المتواجدين فوق الطاولة (المصباح الأيمن منطفيء، بينما المصباح الأيسر متوهج).



22 تفسير رؤية الكتابة

يقرأ التلميذ الكتاب تحت ضوء المصباح الكهربائي، اختر من بين الوضعيات الأربع في الشكل، الوضعية التي تسمح بتفسير رؤية الكتابة.



28 أبعاد الظل المحمول

كرة عاتمة مضاءة بمنبع ضوئي نقطي موضوعة أمام شاشة، ابحث كيف يمكنك تغيير أبعاد الظل المحمول للكرة على الشاشة عندما تقرب الكرة من الشاشة.

تحقق من إجابتك وذلك برسم مخططين توضح فيهما الوضعيتين:

1- الكرة قريبة من المنبع الضوئي .

2- الكرة بعيدة نوعا ما عن المنبع الضوئي .

29 هل العين جهاز إرسال أم جهاز استقبال؟

كان يُعتقد قديما، أن العين ترسل نوعا من الأشعة المرئية وعندما تسقط هذه الأشعة مباشرة على الأجسام، تحدث عملية رؤية هذه الأجسام، إلا أن هذا الاعتقاد غير صحيح، لأن الرؤية تحصل عندما تستقبل العين الأشعة الضوئية من الجسم المضيء بذاته، أو عندما تستقبل العين الأشعة الضوئية المنتشرة على الجسم المضاء.

1- ابحث عن أسماء بعض العلماء الذين قدّموا عبر التاريخ أعمالا في الضوء والرؤية.


2- من أكد، أن الرؤية تحصل نتيجة استقبال العين للضوء من الجسم المضيء بذاته، أو من الجسم الناثر للضوء، أو العاكس له؟

3- كيف تُفسّر ظاهرة الرؤية المباشرة للأجسام؟

30 الكائنات الحية كمنابع ضوئية

تصدر بعض الكائنات الحية الضوء وتسمى هذه الظاهرة «التوهج الحيوي».

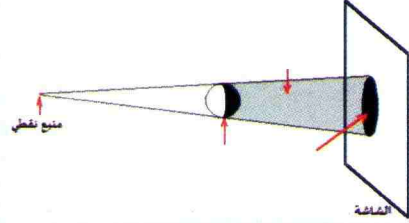
– ابحث عن معنى ظاهرة «التوهج الحيوي» عند بعض الكائنات الحية الضوئية.



أوظف مهاراتي

25 المنبع الضوئي النقطي

تمثل الصورة ظاهرة فيزيائية معينة.



1- كيف تسمى هذه الظاهرة؟

2- أرسم مخططا لهذه الصورة على دفترك.

3- اكتب البيانات المتعلقة بهذه الظاهرة على الصورة.

4- ما هي المناطق التي تسمح لك برؤية كامل الكرة، أو رؤية جزء من الكرة، أو عدم رؤية الكرة تماما.

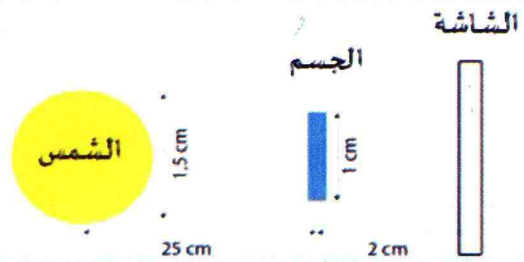
26 التمييز بين الظل والظليل

1- بين متى يمكن أن يظهر الظل دون أن يظهر الظليل ومتى يمكن للظليل أن يظهر دون أن يظهر الظل.

2- فسّر لماذا يُرى الجسم الناثر للضوء عندما يكون في منطقة الظليل، بينما لا يُرى عندما يكون في منطقة الظل.

27 الشمس كمنبع ضوئي واسع

يمثل الرسم التخطيطي الشمس كمنبع ضوئي واسع وبعيد جدا.



1- أنقل الرسم على دفترك، وأجب على الأسئلة التالية:

2- ارسم ظل الجسم على الشاشة.

3- بم يتعلّق كبر الظل مقارنة بالجسم؟

4- هل تتشكل منطقة الظليل بالشمس؟ علّل إجابتك.

الظواهر
الفلكية 11

1 المجموعة الشمسية

أكد أنك تلقيت أخبار الرحلات الاستكشافية للقمر وأخرى للكواكب المحيطة بنا. من المؤكد أنك نظرت إلى السماء في ليلة صافية واستمتعت بشكلها وبالنجوم التي تزينها والقمر الذي يضيئها في تناسق عجيب. ما هي الأسرار التي يمكنك اكتشافها من وراء هذا المنظر الرائع؟

1-1 عناصر المجموعة الشمسية

نشاط


كواكب المجموعة الشمسية

ما هي عناصر نظام المجموعة الشمسية؟

تمعن في الوثيقة

تنتمي أرضنا إلى نظام المجموعة الشمسية، التي تعتبر عينة صغيرة جداً بالنسبة للكون في المجموعة المنتمة إلى مجرة درب التبانة.

ويمكن تقسيم المجموعة الشمسية إلى مجموعتين:



مواقع كواكب المجموعة الشمسية وثيقة 1

المجموعة الأولى: وهي كواكب صغيرة وصلبة، قريبة من الشمس ومنها الأرض وقمرها (الوثيقة 1).

المجموعة الثانية: وهي كواكب كبيرة، بعيدة عن الشمس، وتتكون من عناصر أخف من تلك التي تدخل في تكوين كواكب المجموعة الأولى.

– بعض الكواكب لها أقمار ملازمة لها، فكوكب الأرض مثلاً له تابع طبيعي وحيد هو القمر.

عقد الاتحاد الفلكي الدولي اجتماعاً في مدينة براغ، عاصمة جمهورية التشيك، في أوت 2006 فخرج بعدد من القرارات، منها إعادة تعريف الكوكب. كما تم في هذا الاجتماع عزل كوكب بلوتون من عناصر نظام المجموعة الشمسية، وتحويله إلى قائمة الكواكب القزمة، لكونه بعيداً عن الشمس، وأصغر كواكب المجموعة الشمسية. توجد خمسة كواكب قزمة وهي: سيريس، بلوتون، هاوميا، ميكميك، إيريس.



عوامل مميزة لكوكب الأرض تضمن استمرار الحياة عليه دون الكواكب الأخرى:

- بنيته التي تتسم بالشدّة والصلابة، وهو أمر نادر تفتقر إليه أغلب الكواكب الأخرى.
- اعتدال درجة الحرارة على سطحه، وذلك على عكس الكواكب الأخرى التي لا تسمح بالحياة عليها بسبب قربها أو بعدها عن الشمس.
- الغلاف الجوي يعمل على تزويد الكائنات الحية بالهواء ويلعب دورا في تنظيم انتشار الضوء.
- وجود الماء على كوكب الأرض، في الحالة السائلة، يشكل عنصرا حيويا أساسيا يميزه عن بقية الكواكب.

استنتج

- ما هو عدد كواكب نظام المجموعة الشمسية؟
- ما هي رتبة كوكب الأرض من حيث قربها من الشمس؟ ما هو التابع الطبيعي الذي يلازمه؟
- كيف تميز بين مجموعتي الكواكب؟
- كيف تميز بين النجم والكوكب والقمر؟

2-1 يوم وسنة الكوكب

1 نشاط دوران الكوكب حول نفسه ودورته حول الشمس

كيف تُحدّد مدة دورة كوكب حول الشمس ومدة دورته حول نفسه (محوره)؟

استكشف

إليك الجدول الذي يعطي مدة دوران الكوكب حول نفسه ومدة دورته حول الشمس.

اسم الكوكب	متوسط البعد عن الشمس بملايين الكيلومترات	مدة الدورة الواحدة حول الشمس بالسنة الأرضية (année terrestre)	قطر الدائرة الاستوائية بالكيلومتر (km)	مدة الدورة حول نفسه باليوم الأرضي (jour terrestre)
عطارد - Mercure	58	0.24	4840	59 يوم
الزهرة - Venus	108	0.61	12400	243 يوم
الأرض - Terre	150	1	12756	23 سا و 56 د
المريخ - Mars	228	1.88	6800	24 سا و 37 د
المشتري - Jupiter	788	11.86	142800	9 سا و 50 د
زحل - Saturne	1427	29.45	120800	10 سا و 14 د
أورانوس - Uranus	2870	84	47600	10 سا و 49 د
نبتون - Neptune	4500	164	44600	15 سا و 40 د

- رتب الكواكب المذكورة في الجدول السابق ترتيبا تنازليا حسب:

أ / مدة يومها الواحد.

ب / مدة سنتها الواحدة.

- ما الوجدتان المستعملتان لتحديد يوم وسنة الكوكب؟

نشاط 2 الوحدة الفلكية والسنة الضوئية

استكشف

إن استعمال وحدة المتر (m) أو مضاعفاتها مثل الكيلومتر (km) في المسافات بين النجوم والمجرات يعطي أعدادا كبيرة يصعب التعامل معها كتابة وقراءة. هذا ما أدى بعلماء الفلك إلى التفكير في استعمال وحدة فلكية لقياس هذه المسافات، تُحدّد هذه الوحدة الفلكية بناء على عاملين:

– عامل الزمن

– عامل المسافة التي يقطعها الضوء

لقد تم التوصل إلى تحديد سرعة انتشار الضوء في الفراغ بعد محاولات قياس عديدة للعلماء أضفت إلى قيمة تقارب 300000 km/s ، وهذا ما سمح بحساب الوحدة الفلكية ووحدة السنة الضوئية. تمثل الوحدة الفلكية مسافة صغيرة جدا مقارنة بالسنة الضوئية وهي مناسبة لقياس المسافات القريبة فلكيا في المجموعة الشمسية.

استنتج

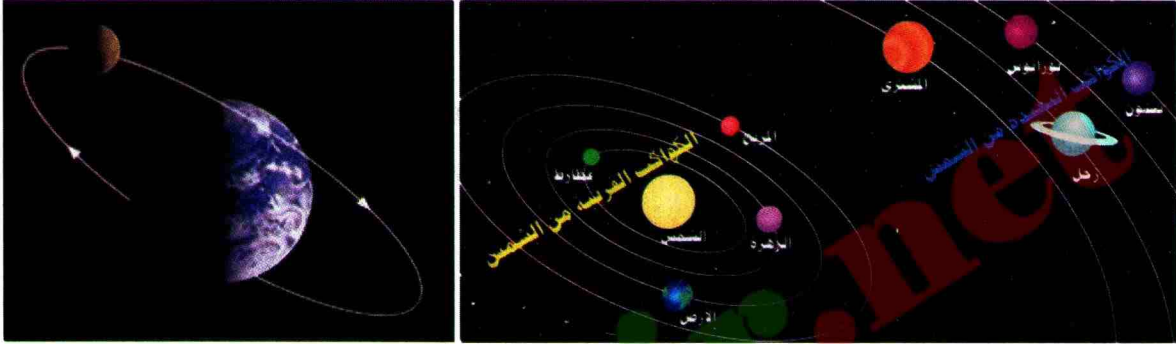
- ابحث عن تعريف هاتين الوحدتين.
- أحسب السنة الضوئية بالكيلومترات.
- أحسب الوحدة الفلكية بالكيلومترات وقارنها بالسنة الضوئية.



أمتنظ بالآهم

• عناصر المجموعة الشمسية

- إن الشمس نجم يتوسط كواكب المجموعة الشمسية التي تسبح حوله .
- عدد كواكب المجموعة الشمسية ثمانية، وهي عطارد، الزهرة، الأرض، المريخ، المشتري، زحل، أورانوس، نبتون .
- بعض الكواكب لها أقمار ملازمة لها وكوكب الأرض له تابع طبيعي وحيد هو القمر .



أسماء كواكب المجموعة الشمسية

• يوم وسنة الكوكب

- اليوم الكوكبي هو المدة الزمنية اللازمة لكي يتم الكوكب دورة كاملة حول محوره حيث لكل كوكب يومه الخاص، والذي يختلف في طوله عن بقية أيام الكواكب الأخرى .
- السنة الكوكبية هي المدة الزمنية اللازمة لكي يتم الكوكب دورة كاملة حول الشمس .

• الوحدة الفلكية والسنة الضوئية

- تحدد الوحدة الفلكية والسنة الضوئية بناء على سرعة الضوء التي قيمتها تساوي تقريبا $300000km / s$.
- السنة الضوئية هي المسافة التي يقطعها الضوء خلال سنة أرضية واحدة وتقدر بـ 9500 آلاف مليار كيلومتر .
- الوحدة الفلكية هي مسافة صغيرة جدا مقارنة بالسنة الضوئية، وتقدر بمسافة 500 ثانية ضوئية . إن هذه الوحدة مناسبة لقياس المسافات داخل المجموعة الشمسية ويرمز لها بالرمز (UA) .

$$1 \text{ UA} = 149\,597\,870,691 \text{ Kilomètres}$$

2 دوران الأرض


إن الأرض في حركة دائمة دون أن نشعر بذلك . ما هي النتائج المترتبة عن هذه الحركة؟

1-2 دوران الأرض حول نفسها

1 نشاط نموذج الكرة الأرضية والمصباح الكهربائي

جرّب ولاحظ

- إليك الوسائل: نموذج الكرة الأرضية، مصباح كهربائي .
- سلط ضوء المصباح الكهربائي على جزء خريطة القارة الإفريقية كما في (الوثيقة 2) .
 - اعتبر نموذج الكرة الأرضية يمثل الأرض، والضوء المنبعث من المصباح يمثل أشعة الشمس .
 - لا تُغيّر مكان المصباح الكهربائي ومكان نموذج الكرة الأرضية خلال النشاط .



وثيقة 2 نموذج الكرة الأرضية والمصباح

فسّر

- ماذا يحدث لو كانت الأرض ثابتة لا تدور؟

استنتج

- ما هو سبب حدوث الليل أو النهار؟

2 نشاط تعاقب الليل والنهار

جرّب ولاحظ

- لديك نفس الوسائل المستعملة في النشاط السابق .
- أدر نموذج الكرة الأرضية حول محوره، حيث جزؤه المقابل للمصباح مضاء، بينما جزؤه الآخر مظلم .

استنتج

- ماذا يترتب عن دوران الأرض حول محورها؟ وفي أي جهة تدور؟
- برأيك، كيف يمكن تعيين قيمة الزاوية التي يميل بها محور الأرض عن الشاقول باستعمال نموذج الكرة الأرضية؟

استعمال TIC

- امتداد لنشاطات حول الظل والظليل باستعمال تكنولوجيا الإعلام والاتصال :
ابحث في شبكة الاعلام والاتصال على منتدى "مملكة المعلم" تحت عنوان www.forum.noor.com للإجابة عن السؤال التالي :
ماذا يحدث لو كان محور الأرض عموديا على مستوى دوران الأرض حول الشمس؟

2-2 دوران الأرض حول الشمس - الفصول الأربعة

نشاط تعاقب الفصول الأربعة

تمعن في الوثيقة

الصورة التالية تبين أربعة مواضع مختلفة للأرض أثناء دورانها حول الشمس .



وثيقة 3 تموقع الأرض على مدارها حول الشمس

فسّر


- كيف تحدث الفصول الأربعة؟
- ماذا يحدث عندما يكون القطب الجنوبي أقرب إلى الشمس عن القطب الشمالي؟
- ماذا يحدث عندما يكون القطب الشمالي أقرب إلى الشمس عن القطب الجنوبي؟

استنتج

- ماذا يترتب عن دوران الأرض حول الشمس؟
- لم ترتفع درجة الحرارة في فصل الصيف، بينما تنخفض في فصل الشتاء وفي نفس الساعة من اليوم؟



أمتفظ بالأهم



موقع الأرض على مدارها حول الشمس

● دوران الأرض حول نفسها

– يحدث تعاقب الليل والنهار نتيجة دوران الأرض حول نفسها ودورانها حول الشمس .

– تدور الأرض حول نفسها من الغرب إلى الشرق كل 24 ساعة تقريباً (23 سا و56 د)، لذا يساوي اليوم 24 ساعة تقريباً. يحدث الفرق في التوقيت بين المناطق نتيجة ميل محور دوران الأرض .

● دوران الأرض حول الشمس

إن اختلاف الفصول الأربعة في الطقس يعود أصلاً إلى ميل الأرض على محورها المار بقطبيها الشمالي والجنوبي خلال دورانها حول الشمس، ونتيجة ذلك تختلف زاوية سقوط أشعة الشمس على المكان الواحد من الأرض من شهر لآخر.



منحى أشعة الشمس على الأرض في فصل الصيف

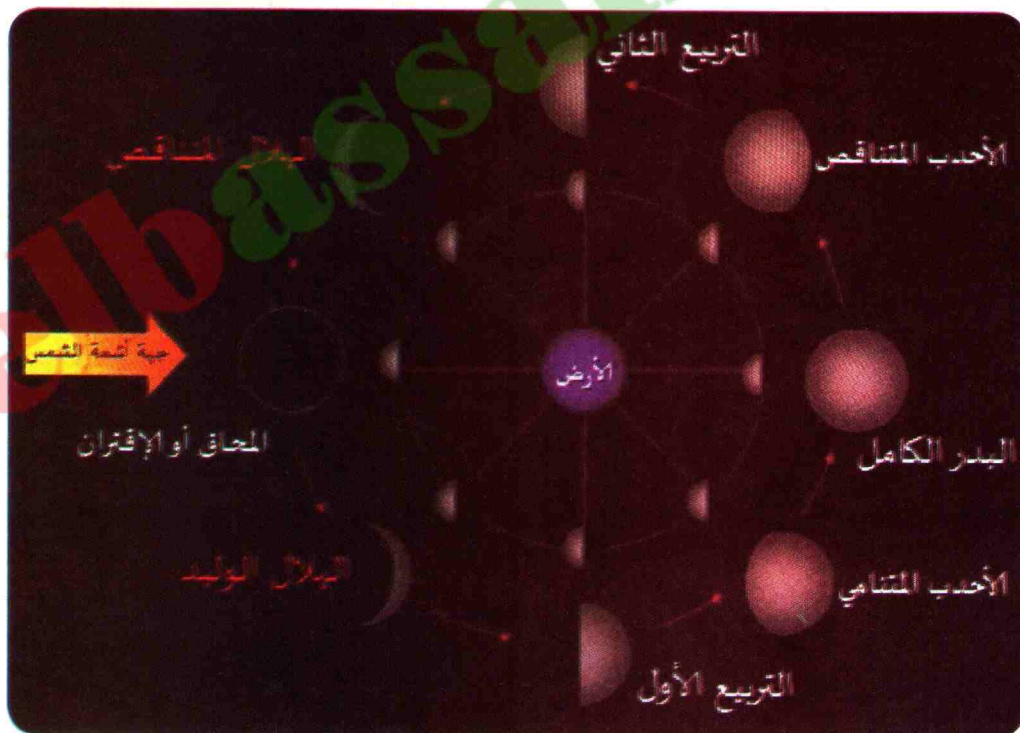
– في النصف الشمالي من الكرة الأرضية، تكون أشعة الشمس في الصيف عمودية تقريباً على سطح الأرض .

حذرت وزارة الصحة والسكان وإصلاح المستشفيات في الجزائر المواطنين من مشاهدة كسوف الشمس دون استعمال وسائل الوقاية خلال مدة الكسوف الجزئي الذي حدث بالجزائر يوم 04 - 01 - 2011. حيث بدأ الكسوف الجزئي على الساعة 7 و43د وانتهى على الساعة 10 و10 د .

- ماهي التواريخ التي تم فيها رؤية كسوف الشمس وخسوف القمر بالجزائر؟
- كيف تفسر ظاهرتي الكسوف والخسوف؟

1-3 أطوار القمر

يمر القمر بمواقع مختلفة بالنسبة لكل من الأرض والشمس، فيكون وجهه المنير في اتجاه الشمس، ووجهه المظلم في اتجاه الأرض، وتسمى هذه المرحلة باسم مرحلة **المحاق** أو مرحلة **الإقتران**. بمجرد خروج القمر عن هذا الوضع، يبدأ أهل الأرض (مراقب من الأرض) في رؤية حافته المنيرة التي تؤذن بميلاد شهر قمري جديد.



وثيقة 4 أطوار القمر

نشاط دوران القمر حول الأرض

تمعن في الوثيقة

تم رصد شكل القمر بالاعتماد على أجهزة الرصد (التلسكوب أو الكاميرات الالكترونية الحديثة) وهي مرتبة من اليمين إلى اليسار كما تبين (الوثيقة 5) .



أطوار القمر وثيقة 5

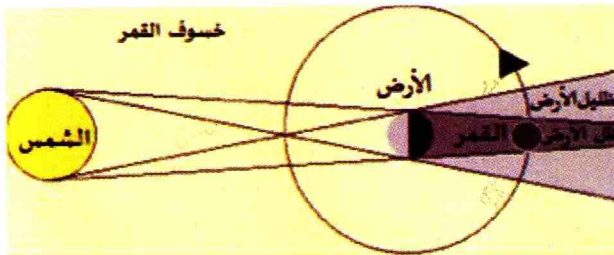
استنتج

- استعن بالنص السابق لتسمية الأطوار الأساسية للقمر في الصورة .
- كيف يتم تحديد بداية الشهر القمري؟
- لم لا يأتي الشهر القمري في رمضان دوماً في نفس الفصل؟
- هل السنة القمرية متوافقة مع السنة الشمسية؟ علل إجابتك .

2-3 ماهو الشهر القمري؟

الشهر القمري هو المدة التي يقوم فيها القمر بدورة كاملة حول الأرض، وهي دورة معقدة يدخل فيها دوران القمر حول الأرض، ودورانه مع الأرض حول الشمس، ومع باقي أفراد المجموعة الشمسية حول مركز المجرة . يتراوح الشهر القمري بين 29 يوماً و19 ساعة في بعض الشهور و29 يوماً و5 ساعات في شهور أخرى .

3-3 ظاهرتا خسوف القمر وكسوف الشمس



ظاهرة حدوث خسوف القمر وثيقة 6

نشاط 1 خسوف القمر

تمعن في الوثيقة

إليك الصورة التالية (الوثيقة 6) ،
تمثل حدوث ظاهرة خسوف القمر .

فسّر

- ماذا يشاهد المراقب على سطح الأرض عندما يكون القمر على حافة منطقة الظليل؟
- ماذا يشاهد المراقب على سطح الأرض عندما يكون القمر في منطقة الظليل؟
- ماذا يشاهد المراقب على سطح الأرض عندما يكون القمر في منطقة الظل؟

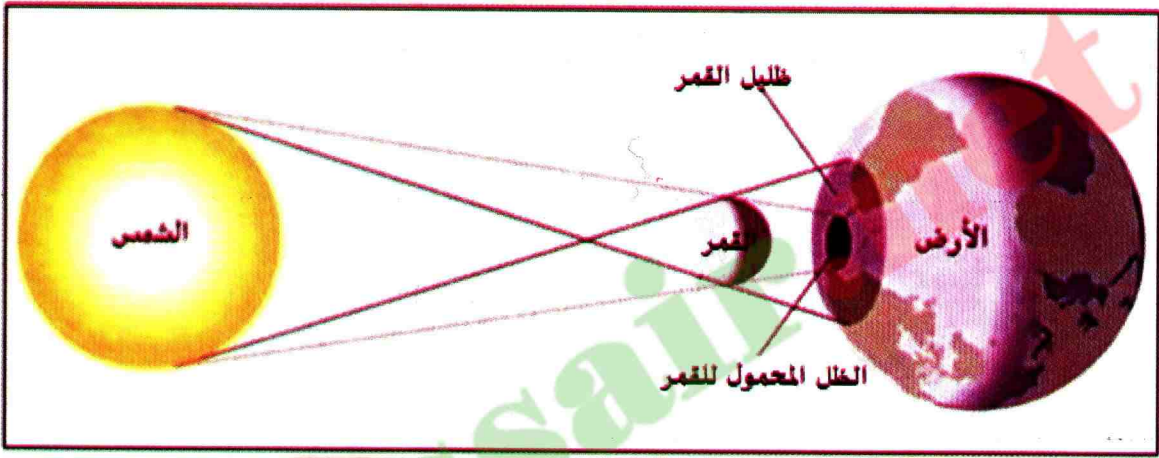
استنتج

- ما هو موقع القمر من الأرض والشمس عندما تحدث ظاهرة الخسوف؟
- متى يكون الخسوف كلياً ومتى يكون جزئياً؟
- متى يُسمى الخسوف بخسوف شبه الظل؟

نشاط 2 كسوف الشمس

تمعن في الوثيقة

إليك الصورة التالية (الوثيقة 7)، تمثل حدوث ظاهرة كسوف الشمس.



وثيقة 7 ظاهرة حدوث كسوف الشمس

فسّر

- ماذا يشاهد المراقب على سطح الأرض عندما يكون على حافة منطقة الظليل؟
- ماذا يشاهد المراقب على سطح الأرض عندما يكون في منطقة الظليل؟
- ماذا يشاهد المراقب على سطح الأرض عندما يكون في منطقة الظل؟

استنتج

- ما هو موقع القمر بالنسبة للأرض عندما تحدث ظاهرة الكسوف؟
- متى يكون الكسوف كلياً ومتى يكون جزئياً؟
- متى يُسمى الكسوف بخسوف شبه الظل؟

استعمال TIC

- امتداد للنشاطات حول الخسوف والكسوف باستعمال تكنولوجيا الإعلام والاتصال:

www.mawdoo3.com

ابحث في شبكة الانترنت على الموقع:

للإجابة على السؤال التالي:

متى يسمى الكسوف بخسوف شبه الظل؟

نشاط 3 أطوار القمر وخسوف القمر

لماذا يُغيّر القمر وجهه المضيء أثناء الشهر القمري؟
عند ملاحظة أمير وزهير لحركة القمر في شهر رمضان 1437 هـ (2016م)، شاهدوا القمر يغير وجهه المضيء بين ليلة وأخرى، وحاولا تمثيل ما شاهداه بالرسومات التالية (الوثيقة 8):



تمثيل لأهلة القمر

وثيقة 8

تمنّ في الرسومات السابقة، وأجب عن الأسئلة التالية:

- في رأيك، القمر كوكب مظلم أم مضيء؟ علّل إجابتك.
- سم أطوار القمر حسب موقعه في الرسومات السابقة.
- كيف تظهر أوجه القمر لسكان الأرض؟ علّل إجابتك.
- إلام يرجع تكوّن الأشكال التي نرى بها أوجه القمر طوال الشهر القمري؟

استنتج

- حرّر في فقرة صغيرة، تفسّر فيها كيف تشاهد القمر مضيئاً بالشمس، ويغير مظهره خلال شهر من الأرض.

خسوف القمر

لا يمكن حدوث خسوف القمر إلا عندما يكون بدرا، أي في منتصف الشهر القمري.

- متى يمكن رؤية خسوف القمر، في الليل أم في النهار؟
- من أي موقع في الأرض يمكن رؤيته؟

اقترح تجربة



النموذج التجريبي

وثيقة 9

تمنّ في النموذج التجريبي (الوثيقة 9).

- اكتشف الأدوات والوسائل المكونة لهذا النموذج التجريبي.
- ما هي الظاهرة الفيزيائية التي يمكنك تفسيرها بهذا النموذج التجريبي؟
- أنجز مع مجموعة من زملائك وتوجيه من الأستاذ هذا النموذج.
- صف ملاحظاتك عندما تنظر من خلال كل ثقب من الثقوب من خلف الشاشة في اتجاه المصباح المتوهج.

فسّر

- كيف ترى المنبع الضوئي من خلال كل ثقب من الثقوب من خلف الشاشة؟

استنتج

- حرّر في فقرة صغيرة، لماذا ترى المنبع الضوئي من بعض الثقوب ولا تراه من البعض الآخر؟

أقترظ بالأهم

• الشهر القمرى

- يتم القمر دورته حول الأرض فى مدة زمنية تسمى الشهر القمرى .
- يعود سبب اختلاف ظهور شكل أوجه القمر إلى وضعه بالنسبة لكل من الشمس والأرض .



منظر لكسوف الشمس من الفضاء

• خسوف القمر

- يحدث خسوف القمر عندما تقع الأرض بين القمر والشمس حيث يكون القمر والأرض والشمس على استقامة واحدة .
- يحدث الخسوف الكليّ عندما يقع القمر فى مخروط ظل الأرض بسبب انحجاب كامل لأشعة الشمس .
- يحدث الخسوف الجزئىّ عندما يقع القمر فى منطقة ظليل الأرض .

- يحدث خسوف شبه الظل عندما يبدأ القمر بالدخول إلى منطقة ظلّ الأرض، وهنا يبدأ ضوء القمر الوارد إلى الأرض بالخفوت . مرحلة التراجع هي بداية خروج القمر من منطقة ظلّ الأرض وعودة ضوء القمر للسطوع ووصوله إلى الأرض .

• كسوف الشمس



منظر لكسوف الشمس من الأرض

- يحدث كسوف الشمس عندما يقع القمر بين الأرض والشمس على استقامة واحدة، بالتالى يحجب القمر ضوء الشمس عن الأرض .
- يحدث الكسوف الكلي عندما يصل ظل القمر إلى سطح الأرض وفى هذه الحالة ينكسف كامل قرص الشمس، أى عند التقاء رأس مخروط ظل القمر بالأرض .
- يحدث الكسوف الجزئى فى المناطق التى يسقط فيها شبه ظل القمر على سطح الأرض، وهى المنطقة التى لا يرى منها كامل قرص الشمس .
- تزداد نسبة الكسوف الجزئى عند الاقتراب من حدود منطقة الكسوف الكلي .

أفتر معارضي

1 حدد العبارات الصحيحة:

- أ- الأرض التي نعيش فوقها هي نجم ساطع.
 ب- تشرق الشمس في المشرق وتغرب في المغرب، بالتالي فهي تدور حول الأرض.
 ج- تدور الأرض حول محورها القطبي من الغرب إلى الشرق.
 د- تدور الأرض حول محورها القطبي من الشرق إلى الغرب.

اختر الجواب الصحيح:

2 سرعة الضوء تساوي:

أ- 300000 km/h

ب- 300000 km/s

ج- 300000 m/h

3 الوحدة الفلكية تساوي:

أ- 50 ثانية ضوئية

ب- 250 ثانية ضوئية

ج- 500 ثانية ضوئية

4 الشهر القمري مدته:

أ- 30 يوما

ب- 31 يوما

ج- 29 يوما ونصف

5 يتعاقب الليل والنهار نتيجة:

أ- دوران الأرض حول الشمس.

ب- دوران الأرض حول نفسها.

ج- دوران الأرض حول القمر.

6 املا الفراغات في الجمل التالية:

- أ / هو أقرب الكواكب إلى الشمس.
 ب / هو أبعد الكواكب عن الشمس.
 ج / في المجموعة الشمسية، النجم هو
 د / هو أكبر كواكب المجموعة الشمسية.
 هـ / هو أصغر كوكب في المجموعة الشمسية.

7 أجب بصحيح أو خطأ ثم صحح الخطأ إن وجد:

- أ / عند حدوث خسوف للقمر تكون الأرض بين الشمس والقمر.
 ب / عند حدوث خسوف للقمر يكون القمر بين الأرض والشمس.
 ج / عند حدوث كسوف الشمس يكون القمر بين الأرض والشمس.

أطبق معارضي

8 السنة الضوئية

- 1- ما المقصود بالسنة الضوئية .
 إن سرعة انتشار الضوء في الفراغ تقارب (300000 km/s) ، ومتوسط الزمن اللازم لوصول ضوء الشمس إلى الأرض حوالي 8 دقائق و30 ثانية.

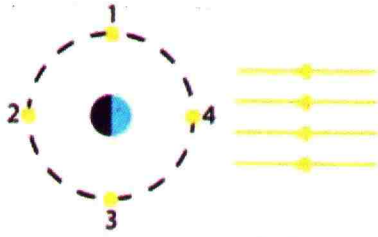
2- أحسب قيمة السنة الضوئية بالكيلومتر.

9 دورة الأرض حول نفسها وحول الشمس

- 1- ماهي المدة التي تتم فيها الأرض دورتها حول نفسها وحول الشمس؟ هل تدور في نفس الجهة أم في جهتين مختلفتين؟
 2- أحسب مدة دورانها حول نفسها بالدقائق ثم بالثواني .

أهظفا معارزيا

14 المراحل الأساسية للقمر




تمثل الصورة رسماً تخظيطياً يُظهر أربعة مواضع للقمر حول الأرض.

- 1- ارسم أوجه ظهور القمر لمراقب من الأرض للمواضع: 1، 2، 3، 4.
- 2- سم المراحل الأربع التي تمت مشاهدتها.
- 3- دقق في أي وقت من النهار أو الليل يمكنك أن ترى كل مرحلة من هذه المراحل.

15 النهار أو الليل في الجزائر

إليك الصورة التالية:



- 1- هل الجزائر في النهار أم في الليل؟
- 2- أذكر بلداً يكون ليله ونهاره مخالفاً لليل ونهار الجزائر (عندما تكون الجزائر في الليل يكون هذا البلد في النهار والعكس).

16 طول النهار وقصر الليل

لماذا يكون النهار طويلاً والليل قصيراً في فصل الصيف، بينما في فصل الشتاء يكون النهار قصيراً والليل طويلاً.

3- اذا علمت أن مدة النهار في يوم 12 جوان تساوي 15 ساعة و54 دقيقة. أحسب مدة الليل. ماذا تستنتج؟

10 اختلاف زاوية سقوط أشعة الشمس

لماذا تختلف زاوية سقوط أشعة الشمس على المكان الواحد من الأرض من شهر لآخر؟

11 الأقمار الاصطناعية

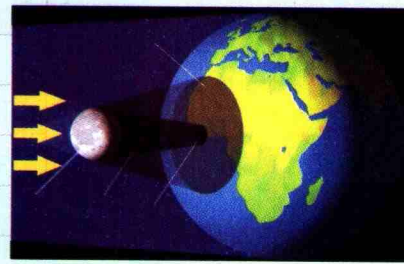
تختلف الأقمار الاصطناعية فيما بينها من حيث استعمالها، بعضها مثلاً يمكننا من متابعة برامج البث التلفزيوني عبر العالم وتنتمي إلى فئة الأقمار الجيو مستقرة. لماذا تسمى كذلك؟

12 عندما يكون أحد قطبي الأرض أقرب إلى الشمس

- 1- ماذا يحدث عندما يكون القطب الشمالي هو الأقرب من الشمس؟
- 2- ماذا يحدث عندما يكون القطب الجنوبي هو الأقرب من الشمس؟

13 الشمس تضيء القمر والأرض


تمثل الصورة ظاهرة فيزيائية معينة.



- 1- كيف تسمى هذه الظاهرة؟ علل إجابتك.
- 2- اكتب البيانات المتعلقة بهذه الظاهرة الموضحة في الصورة على دفترتك.
- 3- ما هي المناطق من الأرض، التي تسمح لك برؤية الشمس كاملة، أو رؤية جزء منها، أو عدم رؤيتها تماماً.

17 أطوار القمر

لاحظ الصورة المقابلة، التي تمثل أطوار القمر ثم أجب عن الأسئلة الآتية:



- 1- كم تستغرق الدورة الواحدة للقمر حول الأرض؟
- 2- كيف تظهر أوجه القمر لسكان الأرض؟ علل إجابتك.
- 3- لماذا ترى وجهاً واحداً للقمر؟
- 4- سم أطوار القمر، حسب موقعه حول الأرض بالنسبة للشمس.
- 5- كم تستغرق الفترة الزمنية بين الحاق والبدر؟
- 6- هل يتغير شكل القمر في أطواره؟ علّل.

19 خسوف القمر

- 1- لماذا لا يمكن حدوث خسوف القمر إلا عندما يكون القمر بدراً، أي في منتصف الشهر القمري؟ من أي موقع في الأرض يمكن رؤيته؟
- 2- متى يمكن رؤية خسوف القمر، في الليل أم في النهار؟
- 3- في أي جهة من الصورة يكون موضع الشمس؟

20 كسوف كلي للشمس

ما هي الظروف التي يحدث فيها كسوف كلي للشمس؟ ولماذا يشاهد كسوفاً كلياً في بعض البلدان وكسوفاً جزئياً في بلدان أخرى؟

21 التوقيت في كل بقاع العالم

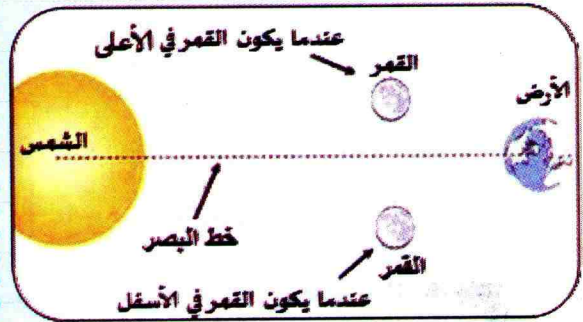
لماذا لا يكون التوقيت هو نفسه في كل بقاع العالم؟ وكيف يتغير هذا التوقيت في رحلة من الغرب إلى الشرق؟

22 نظريات حول نظام المجموعة الشمسية

بطليموس Ptolemée أول من وضع النظرية التي تنص على أن الكون يدور حول أرض ثابتة تقع في مركزه. ثم جاء العالم نيقولا كبرنيكوس (1473 - 1543) الذي أحدث انقلاباً في مجال علم الفلك، حيث اعتبر في نظريته، أن الشمس هي التي تحتل مركز نظام المجموعة الشمسية. أما الأرض وغيرها من الكواكب الأخرى فإنها تدور حولها في مدارات دائرية. واكتشف جوهان كبلر Johannes Kepler (1571-1630) فيما بعد أن مسارات الكواكب ليست دائرية بل بيضوية (اهليلجية) الشكل، وأن سرعة هذه الكواكب تزداد حين تقترب من الشمس، وتقل حين تبتعد عنها وبذلك وضع كبلر قوانينه الثلاثة. ما هي النظرية الأقرب إلى الصواب والدقة مما نعرفه حالياً عن الكون؟

18 خسوف القمر وكسوف الشمس

- 1- فسّر كيف تحدث ظاهرتا خسوف القمر وكسوف الشمس.
- 2- فسّر وفق المخطط المعطى، لماذا لا يحدث الخسوف والكسوف كل شهر؟




استعمل خطوطا أو أشعة ضوئية لتبرير إجاباتك

23 رحلة (Apollo 12) إلى القمر

- عندما قام رائد الفضاء الأمريكي، نيل أرمسترونج، على الأسئلة التالية:
- بالخطوة الأولى على سطح القمر قال «هي خطوة صغيرة للإنسان وخطوة عملاقة للبشرية». ابحث في الشبكة المعلوماتية ثم أجب على الأسئلة التالية:
- 1- متى مشى نيل أرمسترونج على القمر؟
 - 2- في أي جهة من القمر حلت المركبة الفضائية (Apollo 12).
 - 3- لو يحدث خسوف للقمر، ماذا سي شاهد رائد الفضاء من سطح القمر؟
- استعمل خطوطا أو أشعة ضوئية لتبرير إجاباتك
- على الأسئلة التالية:
- 1- كيف تسمى الظاهرة الفلكية الممثلة في مخطط صغيرة للإنسان وخطوة عملاقة للبشرية».
 - 2- في أي مواقع يكون القمر في ظلل الأرض؟
 - 3- في أي مواقع يكون القمر في منطقة مضاءة تماما من طرف الشمس؟
 - 4- هل يرى المراقب فوهة البركان على سطح القمر عندما يكون القمر في الوضع 4؟ اشرح إجابتك.

25 المراحل المختلفة لأطوار القمر

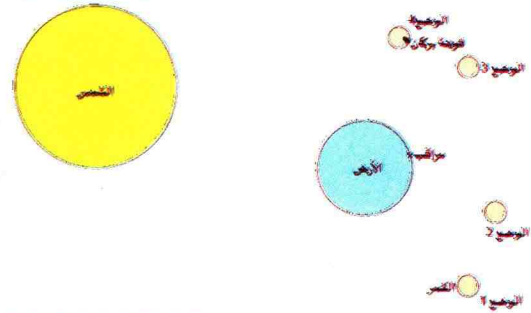
ما هي المدة الزمنية التي تمضي بين المراحل المختلفة لأطوار القمر في الصورة أدناه؟ ومتى يمكن أن ترى القمر هلالا متزايدا وهلالا متناقصا؟



24 القمر في مواقع مختلفة

على الرسم البياني أدناه، تم تمثيل الشمس والأرض وأربعة مواقع ممكنة للقمر. عندما يكون القمر في الوضع 2، تصبح الأجرام الثلاثة (الشمس والأرض والقمر) على استقامة واحدة.

تم وضع علامة على موقع مراقب على سطح الأرض.



الشمس مصدر
للطاقة

12

1- الطاقة النافذة إلى الأرض

نشاط

الشمس أهم المصادر الطبيعية للطاقة

كيف تتوزع الطاقة الشمسية على الفضاء المحيط بالأرض؟

استكشف

تمعن في (الوثيقة 1) التي تُوضِّح كيفية توزيع الطاقة الشمسية في الفضاء المحيط بالأرض .



توزع الطاقة على الفضاء المحيط بالأرض الشمسية

وثيقة 1

إن كل الحياة على الأرض تعتمد في الأساس على الطاقة المنبعثة من الشمس إلى الأرض منذ ملايين السنين . وتعتبر من أهم المصادر الطبيعية للطاقة على وجه الأرض حيث تتوزع وفق الحالات المشار إليها بالأرقام في (الوثيقة 1) :

رقم 1 : الانعكاس في الغلاف الجوي :

حوالي ثلث الطاقة الشمسية التي تأتي إلى الأرض تنعكس في الغلاف الجوي، أي ترجع إلى الفضاء .

رقم 2 : الامتصاص في الغلاف الجوي :

يمتص الغلاف الجوي أكثر من ربع هذه الطاقة الشمسية، عند مرورها عبر الهواء، وتؤدي إلى تسخين الهواء في الغلاف الجوي .



رقم 3: الطاقة الشمسية والطقس:

يعتبر علماء الأرصاد الجوية الطاقة الشمسية محركاً للطقس.

رقم 4: الطاقة الشمسية والحياة:

بفضل الطاقة الشمسية النافذة إلى الأرض، الماء بكل أشكاله والأكسجين ودرجات الحرارة المتوسطة مجتمعة، تضمن الحياة على الأرض. مثل عملية التركيب الضوئي في النباتات.

رقم 5: الطاقة الشمسية والآلات والمعدات التقنية:

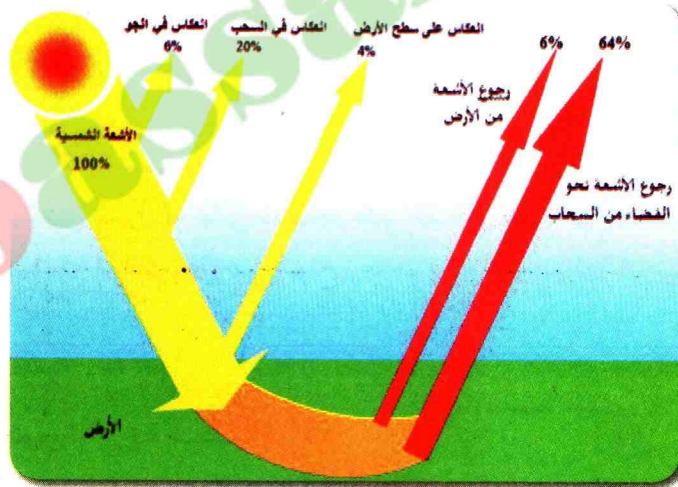
استعمل الإنسان الوقود والفحم والفحم الحجري والنفط والغاز الطبيعي والطاقة النووية لأغراض صناعية.

كما لجأ في السنوات الأخيرة إلى الطاقة الشمسية لاستخدامها في الإنارة العمومية وفي المنازل للتسخين ولتشغيل معدات تقنية مختلفة.

رقم 6: تعيد الأرض الطاقة الشمسية النافذة إليها مرة أخرى:

تمتص الأرض جزءاً من الطاقة الشمسية وبعد ذلك ترجعها إلى الفضاء. يحدث كل هذا وفق نظام متزن يحافظ على مناخ يسمح بالحياة على الأرض.

الطاقة الشمسية شكل من أشكال الطاقة الصديقة للإنسان وهي غير مستنفذة.



الطاقة الشمسية النافذة إلى الأرض

وثيقة 3

استنتج

- كيف يمكنك تفسير توزيع الطاقة الشمسية على الأرض؟
- ما هي مصادر الطاقة المستخدمة قبل الطاقة الشمسية؟
- ما هي آثار الطاقة الشمسية على الطقس؟
- ما المقصود بظاهرة الاحتباس الحراري؟
- بين اعتماداً على (الوثيقة 3) أن الطاقة الشمسية محفوظة.


2- تحويل الطاقة الشمسية إلى أشكال طااقوية أخرى

يمكن إنتاج الكهرباء والحرارة من ضوء الشمس وعليه يجب أن تكون هناك علاقة بين الضوء والطاقة، فالضوء إذن شكل من أشكال الطاقة، وبذلك يمكن أن تتحول الطاقة الشمسية إلى أشكال طااقوية أخرى مثل الطاقة الكهربائية والطاقة الحرارية. كيف تُفسّر تحويل الطاقة الشمسية إلى طاقة كهربائية أو طاقة حرارية؟

1 نشاط دوران المحرك

جرب ولاحظ

اترك أشعة الشمس تسقط على الخلية الشمسية. يبدأ المحرك الموجود ضمن العربة في الدوران فتتحرك العربة.



وثيقة 4 عربة شمسية

فسّر

- ما سبب حركة العربة؟

استنتج

- كيف تمت حركة العربة بالطاقة الشمسية؟

2 نشاط تسخين المياه باستعمال الطاقة الشمسية

يمكن أيضا الاستفادة من الطاقة الشمسية لإنتاج المياه الساخنة، باستخدام الألواح الشمسية، تتركب في أماكن مختلفة بالقرب من المنزل أو على سطحه على شكل قطع صغيرة تظهر للناظر وكأنها نوافذ، ولكنها في الواقع ليست كذلك، بل هي ألواح زجاجية سوداء متماثلة تدعى الألواح الشمسية الحرارية.

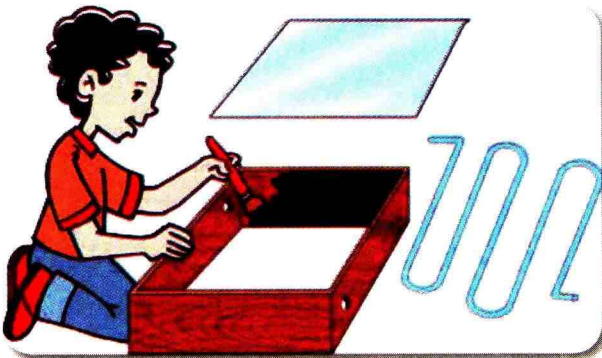
بوسائل بسيطة، كما هو مبين في (الوثيقة 5)، يمكنك أن تبني سخانا شمسيا أو مرشحة شمسية في حديقتك بالمنزل.

جرب ولاحظ

- أحضر أنبوباً زجاجياً متعرجاً.
- أحضر صندوقاً خشبياً.

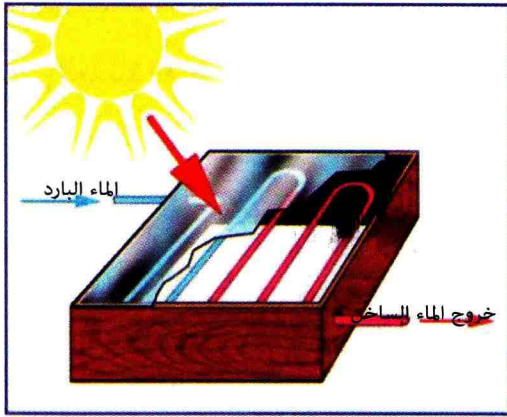
- قم بطلاء جميع جوانبه الداخلية باللون الأسود.

- اصنع ثقبين غير متقابلين على جانبي الطول. (انظر الوثيقة 5).



إنجاز السخان الشمسي

وثيقة 5



السخان الشمسي

وثيقة 6

- ضع الأنبوب الزجاجي داخل الصندوق، بحيث تُدخِل كل طرف من طرفيه في ثقب من الثقبين .
- ضع لوحًا زجاجيًا مطليًا باللون الأسود فوق الصندوق، بحيث يكون الأنبوب الزجاجي أسفل منه .
- مرر تيارًا مائيًا باردًا من أحد طرفي الأنبوب الزجاجي .
- عرّض الصندوق لأشعة الشمس لفترة من الزمن .

فسّر

- كيف يشتغل السخان الشمسي؟

استنتج

- كيف تتحول الطاقة الشمسية إلى طاقة حرارية عن طريق الألواح الشمسية الحرارية؟

3- امتصاص الجسم الطاقة الحرارية الشمسية

يرتدي الناس الملابس الداكنة اللون (المائلة إلى السواد) في فصل الشتاء والملابس الفاتحة اللون (المائلة إلى اللون الأبيض) في فصل الصيف .

كيف تتأثر الأجسام الداكنة اللون والأجسام الفاتحة اللون بضوء الشمس؟

1 نشاط

علاقة اللون بالارتفاع في درجة الحرارة

هل للون علاقة بالارتفاع في درجة الحرارة؟

جرّب ولاحظ

- خذ 4 علب، بحيث تكون ثلاثٌ منها، كل واحدة مطلية بلون معين: الأبيض، الأسود، الأزرق والرابعة ملفوفة بورق الألمنيوم .
- أغلق كل علب مع وضع ثقب لإدخال الحرار بعد تحديد درجة الحرارة في البداية في كل محرار .
- سلّط على العلب ضوءًا شديدًا .
- سجّل درجات الحرارة على كل محرار، وذلك كل 4 دقائق وفق الجدول التالي .


لون العلبه/الزمن بالدقائق	0	4	8	12	16
بيضاء					
سوداء					
زرقاء					
ملفوفة بورق الألمنيوم					

فسّر

- لماذا يكون الارتفاع في درجات الحرارة أكبر كلما كان اللون مائلًا إلى السواد؟

استنتج

- في أي من العلب يكون الارتفاع في درجات الحرارة أكبر؟



نشاط 2 العدسة الحارقة

جرب ولاحظ

- حضّر عدسة مجمعة .
- ضع ورقة كتابة بيضاء على الأرض .
- سلط الضوء على أحد وجهي العدسة .
- ضع العدسة، بحيث تكون أشعة الشمس موجهة بشدة فوق الورقة .

فسّر

- ما دور العدسة في حرق ورقة كتابة؟

علاقة اللون بالضوء

وثيقة 7

استنتج

- ماذا حدث لضوء الشمس عندما سقط على العدسة؟

استعمال TIC

- امتداد لنشاطات الطاقة الشمسية باستعمال تكنولوجيا الإعلام والاتصال:
ابحث في شبكة الانترنت وخاصة على الموقعين التاليين:
www.portail.cder.dz
www.staralgeria.net
للتعرف على مختلف الطاقات المتجددة وكيفية الحفاظ على البيئة.



الوقاية من حروق الشمس

امتصظ باأهم

• الطاقة النافذة إلى الأرض




- إن أكبر وأهم مصدر للطاقة هي الشمس .
- تتوزع الطاقة الشمسية على الفضاء المحيط بالأرض بنسب مختلفة، منها ما ينثره الغلاف الجوي إلى الفضاء الخارجي، ومنها ما يمتصه هذا الغلاف، ومنها ما ينفذ إلى الأرض . ويعتبر الجزء النافذ إلى الأرض هو الجزء الضئيل .
- الضوء هو شكل من أشكال الطاقة .
- الطاقة الشمسية غير مستنفدة بالنسبة للإنسان .



• تحويل الطاقة الشمسية إلى أشكال طاغوية أخرى .

- يمكن أن تتحول الطاقة الشمسية إلى طاقة كهربائية عن طريق الخلايا الشمسية ويستفاد منها في إنارة البيوت والطرق وتشغيل الساعات والآلات الحاسبة والمحركات ...
- يمكن أن تتحول الطاقة الشمسية إلى طاقة حرارية عن طريق الألواح الشمسية لتستعمل في تسخين المياه وفي التدفئة .



• امتصاص الجسم للطاقة الحرارية الشمسية

- يختلف امتصاص الجسم للطاقة الحرارية الشمسية باختلاف الألوان .
- الجسم الملون بالأسود يسمح بامتصاص الطاقة الحرارية الشمسية بشدة ويسبب ارتفاعاً أسرع لدرجة حرارة الجسم .
- يمكن للطاقة الشمسية أن تكون مركزة في نقطة معينة بواسطة عدسة مجمعة .

أفتبر معارضي

1 ما أهم المصادر الطبيعية للطاقة على وجه الأرض؟

2 اذكر المصادر المختلفة للطاقة المستخدمة .

3 اذكر بعض الأجهزة، من حياتك اليومية، تشتغل بالطاقة الشمسية .

4 ما الذي يجعل تحويل ضوء الشمس إلى حرارة؟

5 ما الذي يجعل تحويل ضوء الشمس إلى كهرباء؟

6 ماهي الطرق التي تستخدم للاستفادة من الطاقة الشمسية؟

7 صحيح أم خطأ:

- عند تحويل الطاقة الشمسية إلى حرارة -

نستخدم الألواح ذات الخلايا الكهروضوئية .

- عند تحويل الطاقة الشمسية إلى كهرباء -

نستخدم الألواح الزجاجية المطلية بالأسود .

- الجزء الأكبر من الطاقة الشمسية، هو النافذ إلى الأرض .

- الجزء الضئيل من الطاقة الشمسية، هو النافذ إلى الأرض .

8 الألواح الشمسية السوداء التي تستخدم على

أسطح المنازل لإنتاج الماء الساخن، هي .

- الألواح الشمسية ذات الخلايا

الكهروضوئية .

- الألواح الشمسية الحرارية ..

أطبق معارضي

9 توزيع الطاقة الشمسية

اذكر الحالات، التي تتوزع وفقها الطاقة الشمسية

على الفضاء المحيط بالأرض .

10 الطاقة الشمسية صديقة الإنسان

لماذا يتحدث الكثير من الناس عن الطاقة الشمسية

على أنها الصديقة وغير المستنفذة بالنسبة للإنسان؟

11 الطاقة الشمسية في الليل

قال عادل لصديقه: لا يمكن إنتاج الطاقة الشمسية

في الليل، ما رأيك أنت؟ علل إجابتك

12 امتصاص الجسم للطاقة

إلام يرجع اختلاف امتصاص الجسم للطاقة الحرارية

الشمسية؟

13 الأرض تسخن أسرع من الماء

لماذا تسخن الأرض بشكل أسرع من المسطحات

المائية، بالرغم من أنهما يتلقيان نفس الطاقة

الشمسية؟

14 ارتداء الملابس البيضاء أو السوداء

لماذا يرتدي الناس الملابس الداكنة اللون في فصل

الشتاء والملابس الفاتحة اللون في فصل الصيف؟

15 ابحث عن العوامل المؤثرة

ما العوامل المؤثرة عند امتصاص الجسم للطاقة

الحرارية الشمسية؟

أوظف معارضي

16 الموقد الشمسي

تعاني بلدان العالم الثالث في كثير من الأحيان

من قلة الوقود، كما أن ندرة الخشب في المناطق

الصحراوية وأنواع الوقود الأخرى مثل النفط أو الغاز

الطبيعي بالنسبة لمعظم الناس هناك صعبة المنال . لذا

يتم اللجوء إلى استخدام الطاقة الشمسية في الطهي،

والاحتياجات الأخرى

ابحث عن معلومات لتفسير مبدأ عمل الموقد

الشمسي .

17 استخدام ورق الألمنيوم المنزلي في الطهي

لورق الألمنيوم المنزلي وجهان، وجه لامع ووجه غير

لامع، كيف يمكنك استخدامه، إذا كنت ترغب في

طهي سريع لبعض المأكولات في الفرن، وكيف

20 الطاقة الشمسية والتلوث

إن حرق كميات هائلة من الوقود في عملية الاحتراق يؤدي إلى تشكيل غاز ثاني أكسيد الكربون، الذي يعطل الإشعاع الضوئي في الفضاء، كما أن نسبة هذا الغاز في الهواء في تزايد مستمر، وتُسَخَّن الغلاف الجوي مع ارتفاع درجات الحرارة أكثر فأكثر، ويمكن أن نقارن هذا مع تسخين الهواء في الغرفة الزجاجية، لذا تسمى الظاهرة بظاهرة الاحتباس الحراري. وعليه فإن تسخين المناخ يمكن أن يؤدي إلى نفس النتائج، والكتل الجليدية في القطبين يمكن أن يحصل لها ذوبان قوي، فيحدث ارتفاع لمستوى المياه في المحيطات وتغمر بذلك العديد من المناطق الساحلية.

1- ما المقصود بعملية الاحتراق؟

2- أنجز تجرّبة، توضح بها ماذا يحدث عند تسخين الهواء في الغرفة الزجاجية.

3- ابحث عن المعلومات لتفسير ظاهرة الاحتباس الحراري.



يمكنك استخدامه لكي تحافظ على الماكولات الساخنة، أي أنها تبرد ببطء كبير. ابحث إذا كان، لاستخدام ورق الألمنيوم المنزلي بعض التأثيرات العكسية النسيئة.

18 الطاقة الشمسية مصدر لدورة الماء

إليك الصورة أدناه والتي تحمل بيانات حول التأثير المزدوج للرياح ودرجة الحرارة على سطح الغلاف المائي في المسطحات المائية. استعن بهذه البيانات لتفسير دور الطاقة الشمسية على دورة الماء في الطبيعة.

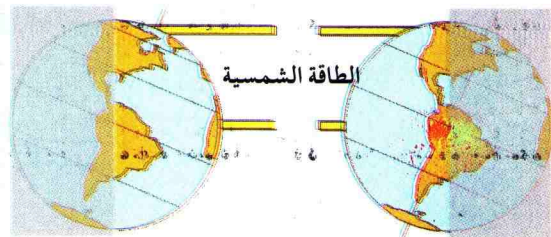


19 توزيع الطاقة الشمسية على الأبرص

إن الشمس هي أهم مصدر للطاقة، منها ما ينثره الغلاف الجوي إلى الفضاء الخارجي، ومنها ما يمتصه هذا الغلاف، ومنها ما ينفذ إلى الأرض، ويعتبر هذا الجزء النافذ إلى الأرض هو الجزء الضئيل من هذه الطاقة، ولكن توزيعها غير عادل على الأرض، وذلك بسبب وجود مناخات مختلفة: جافة، واستوائية، وقطبية.

استعن بالبيانات على الصورة لتفسير التوزيع غير العادل للطاقة الشمسية على الأرض؟

الصيف والشتاء في التوزيع غير العادل للطاقة الشمسية على الأرض في نصف الكرة الشمالي



الصيف

الشتاء

مشروع تكنولوجيا


آلة تصوير




كيف توظف مبدأ الانتشار المستقيم للضوء، لاكتشاف سرّ تشكل الصورة في آلات التصوير؟

نحة حول التصوير

إن كاميرا التصوير جهاز يعود تاريخه إلى الحسن ابن الهيثم، ولاحقاً تم تقديم الصور باستخدام كاميرا انزلاق صندوق خشبي، والمسمى بالحجرة المظلمة (Chambre Noire) وقد تم تطوير الكاميرا، على مر التاريخ لتناسب العصر الحديث، وظهرت على غرار ذلك كاميرات إلكترونية وفيما بعد الكاميرات الرقمية، التي تشمل الآن إمكانيات الاتصال اللاسلكي لنقل وطباعة أو تبادل الصور. وتوجد عادة في الهواتف المحمولة.



الحجرة المظلمة




آلة تصوير عتيقة



آلة تصوير إلكترونية

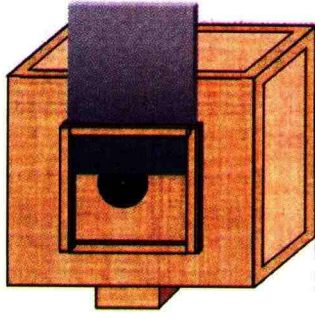


آلة تصوير في الهاتف المحمول



آلة تصوير رقمية





الكاميرا

نموذج للحجرة المظلمة

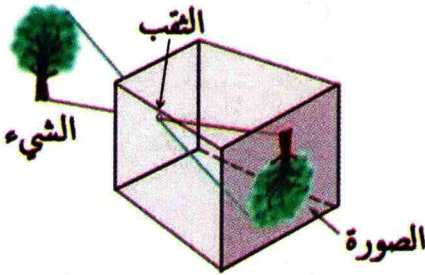
وثيقة 1

الحجرة المظلمة (Camera obscura)

تسمح الحجرة المظلمة باكتشاف سر تشكل الصورة في آلات التصوير بتطبيق الانتشار المستقيم للضوء.

- مبدأ العمل:

يعتمد تشكل الصورة في الحجرة المظلمة على مبدأ الانتشار المستقيم للضوء، وذلك من خلال الضوء الصادر عن جسم معين والعابر لثقب صغير في وجهها الأمامي ليسقط على شاشة بداخل الآلة، حيث تظهر صورة الشيء (الشجرة) في كل حال مقلوبة (الوثيقة-2)



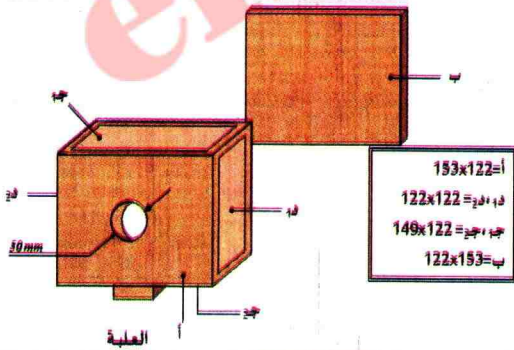
نموذج للحجرة المظلمة

وثيقة 2

أنجز مشروعك

1 - تحضير القطع (أ، ب، ج، د، 1، 2):

- خذ «علبة» على شكل متوازي المستطيلات، تحمل في وجهها الأمامي ثقباً دائرياً.
- استعمل لبنائها، مادة البليكسي غلاس العاتم أو مادة أخرى صعبة الطي (ورق مقوى ثخين).
- أنجز هذه العلبة دون إلصاق القطعة (ب) على الوجه الخلفي.
- غلّف الآن الوجه الداخلي للعلبة بورق أسود يلصق بالغراء السائل، ليحول دون انعكاس الضوء في داخلها وضماناً للظلام الكلي.



نموذج للحجرة المظلمة

وثيقة 3

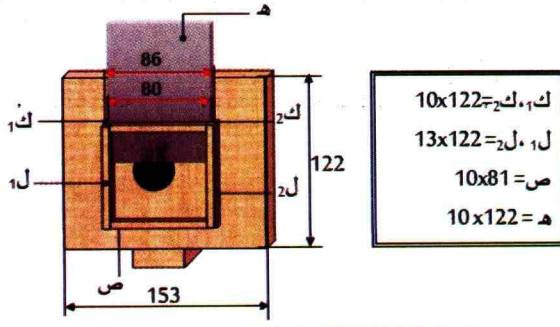
- افتح ثقباً صغيراً في مركز الثقب الدائري في حدود 0.2 مم باستعمال إبرة رقيقة.

- خذ بعين الاعتبار تسمية القطع (أ، ب، ج، د، 1، 2) المعطاة في (الوثيقة-3) والقياسات الموجودة على أسفل الصورة.

- حضر «ملتقط الضوء» (obtuteur).

- استعن بكل المعلومات الواردة في (الوثيقة 3) للقيام في آخر العملية بتجميع القطع السابقة مع الوجه الأمامي (القطعة أ).

2- تحضير البوابة الزالقة :



تجميع القطع مع الوجه الأمامي

وثيقة 4

– جرّب الحركة الحرة للبوابة الزالقة (هـ) واضبطها جيداً (الشكل 3).

انتبه إلى موضع البوابة بالنسبة للثقب الدائري.

– خذ بعين الاعتبار تسمية القطع (ك₁، ك₂، ل₁، ل₂، ص) المعطاة في (الوثيقة 4) والقياسات الموجودة على أعلى يمين الصورة.

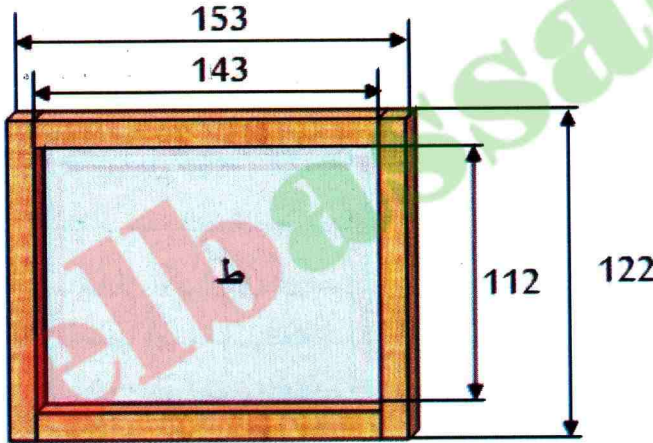
3- تحضير الشاشة :

– حضّر الشاشة (ط) باقتطاع إطار مستطيل من الصفيحة (ب) أبعاده 143×112 mm (الوثيقة 5).

وبهذا تكون قد حصلت على الإطار الخلفي للحجرة المظلمة.

– ألصق على هذا الإطار ورقاً شافياً.

4- تجريب الحجرة المظلمة :



تحضير الشاشة

وثيقة 5

– لرؤية الصورة جيداً وبوضوح (خاصة فيما يتعلق بالثقوب الصغيرة)، يستحسن وضع الحجرة في مكان، حيث تكون الإضاءة ضعيفة.

– يجب عليك اختيار شيء، يكون له درجة تباين جيدة وتفاصيل محددة مثل شمعة مشتعلة.

– ضع هذه الشمعة المشتعلة أمام ملتقط الضوء وبالقرب منه، وانظر من الوجه الخلفي.

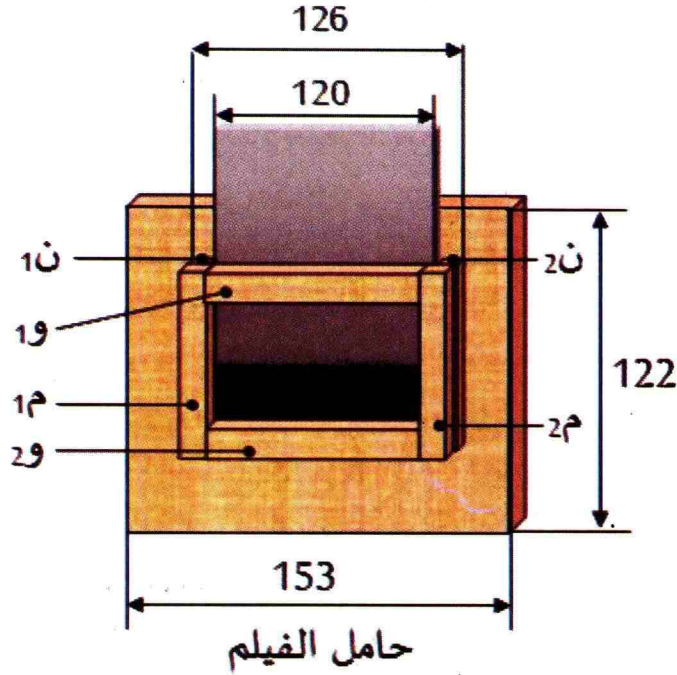
– صف ملاحظتك.

– قم بقلبها من أعلى إلى أسفل، ومن اليسار إلى اليمين، وبتحريكها بالقرب من العلبة صف ملاحظتك.

– قم بتغيير قطر الثقب. صف ملاحظتك حول درجة تباين الصورة حينما يكون الثقب صغيراً، ثم حينما يكون الثقب كبيراً نوعاً ما.

انتبه: ليس كبيراً جداً حتى لا تكون الصورة مشوشة.

أذهب بعيدا



تحويل الحجرة المظلمة إلى آلة تصوير

وثيقة 6

يمكنك الآن تحويل حجرتك المظلمة إلى آلة تصوير (كاميرا) وذلك بإنجاز « حامل الفيلم » يقوم مقام الإطار. أنت بحاجة إلى قطعة أخرى (ب) مماثلة لتثبت عليها حامل الفيلم كما في الشكل . بعد إنجازك للكاميرا، انتقل لمرحلة التجريب .

اقتن من السوق فيلما حساسا (استشر المختصين في ذلك) ركب الفيلم على الحامل بعيدا عن ضوء النهار وفي حجرة مضاءة باللون الأحمر حتى لا يصاب الفيلم بالتلف .

احكم إغلاق الكاميرا وخاصة حواف العلبة بالشريط الأسود تجنباً لنفاذ الضوء .

عرض الكاميرا بعد ذلك إلى الضوء في الخارج لعدة دقائق، ثم انزع الفيلم منه بعيدا عن الضوء كما في المرة السابقة وأحفظه في غلاف غير نافذ للضوء ريثما تنقله إلى مصور لتحميضه . في حالة تأثره بالضوء، عليك بالبحث عن منافذ الضوء الممكنة وسدّها ثم كرر التجربة السابقة إلى غاية النجاح، وهنا تكون قد أنجزت كاميرا حقيقية .

السؤال : كيف طور الإنسان آلة التصوير من الغرفة المظلمة إلى آلة التصوير الرقمية ؟

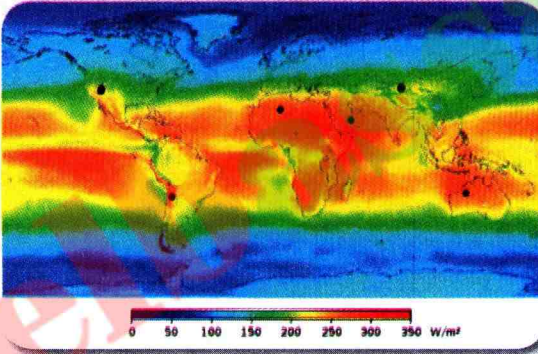


مشروع تكنولوجيا

الاستخدامات الحرارية لطاقة الشمس

تعتبر الشمس من أكبر مصادر الضوء والحرارة وهي تشع طاقتها في الفضاء بسرعة الضوء، إن أشعة الشمس مهمة وضرورية للغاية لبقاء أي نظام حيوي طبيعي.

لقد توجهت الأنظار في الآونة الأخيرة نحو استخدام طاقة الشمس، وفضلها الناس على غيرها من مصادر الطاقة، لأنها أحد مصادر الطاقة المتجددة وغير القابلة للنفاد، وهي مصدر نظيف وغير ملوث للبيئة، كما أن الإشعاعات الشمسية تحمل مقداراً كبيراً جداً من الطاقة، وهي مجانية الاستخدام فلا يمكن لأحد أن يجعلها حكرًا.




التشميس عبر العالم

إن الطاقة الشمسية الإشعاعية الحرارية (التشميس أو *ensoleillement*) في الجزائر مرتفعة جداً، تصل إلى $300 \text{ W} / \text{m}^2$ ، وهذا ما يجعل بلدنا محظوظاً في هذا المجال، فلماذا لا نعمل على الاستفادة من هذه الطاقة ؟

لم يتم استغلال طاقة الشمس استغلالاً فعلياً حتى الآن، والأشعة المنبعثة منها تصل الأرض لتُستخدم في مختلف الأغراض، فالتقنيات التي تستخدم أشعة الشمس وحرارتها يمكن أن تمدنا بالحرارة والضوء والماء الساخن والكهرباء. والجهود مبذولة الآن لتطوير هذه التقنيات لكي يتم الاستفادة من طاقة الشمس بأقصى ما يمكن.

توجد استخدامات حرارية عديدة لطاقة الشمس، نذكر منها: تسخين المياه وتخليتها.

في هذا المشروع التكنولوجي نتعرف على استخدامين من الاستخدامات الحرارية لطاقة الشمس والمتمثلة في تسخين المياه وتخليتها.



تخلية مياه البحر



التدفئة



تسخين المياه

أولاً: المسخن الشمسي

المسخن (السخان) الشمسي هو من أبسط تطبيقات طاقة الشمس وأكثرها كفاءة. إنه يسمح بتسخين الماء اعتماداً على طاقة الشمس، مما يمكننا من الاقتصاد في استهلاك الغاز والكهرباء.

1- مبدأ العمل

يعتمد المسخن الشمسي على تحويل طاقة الشمس إلى طاقة حرارية بواسطة المجمعات الشمسية والمواد الحرارية، فإذا تعرض جسم داكن اللون ومعزول عن الإشعاع الشمسي فإنه يمتص أشعة الشمس وترتفع درجة حرارته، إذ يمكن استغلال طاقة الشمس الحرارية بواسطة أجهزة لتلبية حاجات مختلفة.

تعتمد فكرة المسخن الشمسي كما هو مبين في الوثيقة 1-، على:

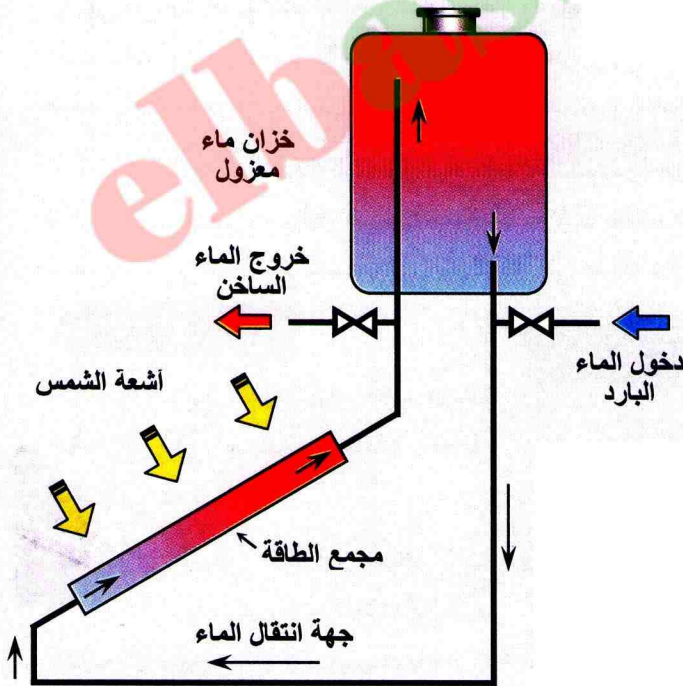
- 1- استقبال أشعة الشمس بواسطة مجمع معدني، فيسخن الماء في مجمع الطاقة.
- 2- صعود الماء الساخن إلى أعلى بسبب انخفاض كثافته مقارنة بكثافة الماء البارد، وذلك من خلال أنبوب توصيل إلى خزان الماء الساخن.
- 3- استمرار الدورة الطبيعية للماء إلى أن تتساوى درجة حرارة الماء في جميع أجزاء الدورة، وتصل إلى حدّها الأقصى (حوالي 70°C).
- 4- بداية دورة التسخين تلقائياً عند بدء استعمال الماء الساخن (نهاراً).

2- التركيب والإنجاز

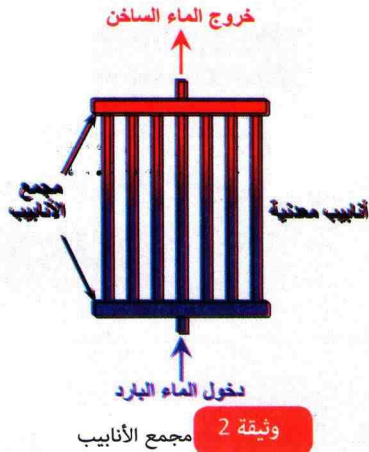
يتكون سخان من جزأين أساسيين:

أ- خزان الماء: الخزان من مادة البلاستيك، سعته من اختيارك (50 L مثلاً)، ويلزم عزله حرارياً عن الوسط الخارجي بمادة عازلة مناسبة (القماش، صوف الخروف، الخرف، ...)، تكون نسبة ارتفاع الخزان إلى قطره في جوار 2 إلى 1.

ملاحظة: لا يمكن أن يكون مجمع الطاقة في مستوى أعلى من خزان الماء الساخن. لأن ذلك لن يسمح بعمل دورة المياه الطبيعية. ومن أجل ذلك يوضع الخزان على دعائم مناسبة وعلى ارتفاع 20 cm فوق أعلى نقطة في مجمع الطاقة.



وثيقة 1 مبدأ العمل



ب- مجمع الطاقة: تكون مساحته من اختيارك ($1m^2$ مثلا)، يتكون من أنابيب نحاسية أو من الحديد المغلفن عددها من اختيارك، طولها حوالي $1m$ ، تجمع مع بعضها البعض كما هو مبين بالوثيقة-2، توضع فوقها صفيحة معدنية (حديد، ألومنيوم، نحاس)، تطرق فوق الأنابيب بمطرقة مطاطية، بحيث يتحقق أكبر سطح تماس ممكن بينها، وتربط الصفيحة المعدنية الى الأنابيب بأية كيفية، ثم تطلّى الصفيحة المعدنية من فوق باللون الأسود المطفي (غير لامع)، وتعزل الجملة حراريا من الأسفل بمادة عازلة بسمك (5 cm إلى 8 cm) توضع المجموعة في صندوق بأبعاد مناسبة، وجهه العلوي المواجه لأشعة الشمس عبارة عن صفيحة من الزجاج وضع فوق الصفيحة المعدنية وتبعد عنها بحوالي (2 cm إلى 3 cm). لأن الزجاج يسمح بدخول الطاقة ولا يسمح بخروجها إلا مقدار قليل منها (طريقة عمل البيت البلاستيكي).

يوضع مجمع الطاقة مواجهها لأشعة الشمس ومائلا بحوالي 30° .

يوصل مجمع الطاقة بخزان الماء بأنابيب بلاستيكية، بهما منفذان لدخول الماء البارد ولخروج الماء الساخن. كما يفضل عزل الأنابيب الواصلين بين مجمع الطاقة وخزان الماء الساخن.

3- اذهب بعيدا

• ابحث عن تقنيات أخرى متبعة في صناعة مجمع الطاقة.

ثانيا: تحلية المياه بطاقة الشمس

هي عملية تحويل الماء المالح (مياه البحار والمحيطات) أو العسر (بعض المياه الجوفية) إلى ماء عذب، ويتم ذلك بالتقليل من معدل الأملاح والرواسب والعوالق إلى المعدل المناسب للشرب أو للزراعة، عن طريق عملية التقطير (التبخير والتكثيف) باستخدام طاقة الشمس الحرارية.

إن أول من تخيل طريقة لتحلية المياه بالطاقة الشمسية هو أرسطو في القرن الرابع قبل الميلاد، وكان العلماء الكيميائيون العرب سابقين في استخدام تحلية المياه بطاقة الشمس في القرن السادس عشر. أما أول مشروع تقطير شمسي ضخم تم تأسيسه في عام 1872 في مدينة «لاس ساليناس» التشيلية المتخصصة في التعدين.

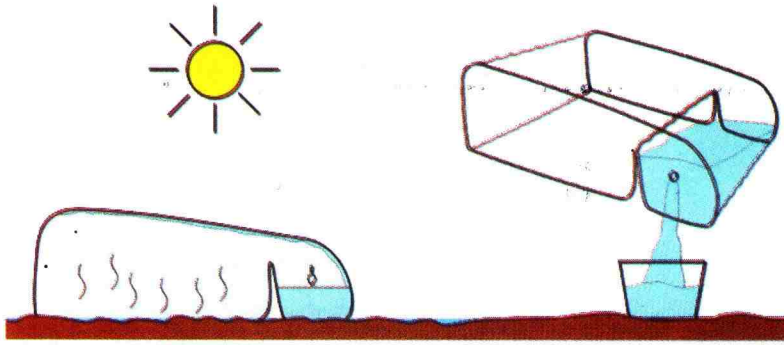
1- مبدأ العمل

تعتمد عملية تحلية المياه على طريقة التقطير، وهي طريقة تستخدم لفصل المواد التي تتأثر بالحرارة.

إن العالم العربي جابر بن حيان لقب بـ «أبو الكيمياء» ومؤسسها وصاحب كتاب الكيمياء، كان أول من قام باختراع أداة التقطير المسماة الإنبيق إلى جانب أداة أخرى كالمقطرة والمعوجة.



تعتبر مسطحات التبخير بالطاقة الشمسية من أسهل الطرق البسيطة لتحلية مياه البحر أو مياه المستنقعات، حيث تتكون من مسطح مائل شفاف يسمح لأشعة الشمس بالمرور داخله وتبقى الحرارة محتبسة به، ويوضع الماء المراد تحليته فوق سطح معزول حرارياً، فتعمل حرارة الشمس على تسخين الماء وتبخيره، ثم يتكثف بعد ذلك على السطح الشفاف المائل، ويتجه بدوره إلى مزارب لتجميع الماء المقطر، كما هو مبين بالوثيقة 3. إن جميع الأنظمة والتطبيقات التي تقوم بعملية تحلية المياه بالطاقة الشمسية تعتمد في فكرتها على محاكاة فكرة سقوط الأمطار التي تحدث على مرحلتين:



وثيقة 3 مبدأ العمل

أ- عملية تبخير المياه بالطاقة الشمسية لتتحول إلى بخار ماء بدون شوائب.

ب- عملية تكثيف البخار ليعود مرة أخرى إلى مياه عذبة.

2- التركيب والإنجاز

يوجد عدة أنواع من أجهزة تحلية المياه بالطاقة الشمسية ولكن جميعها تعمل بنفس فكرة عمل هذا النظام الموضح بالوثيقة 4.

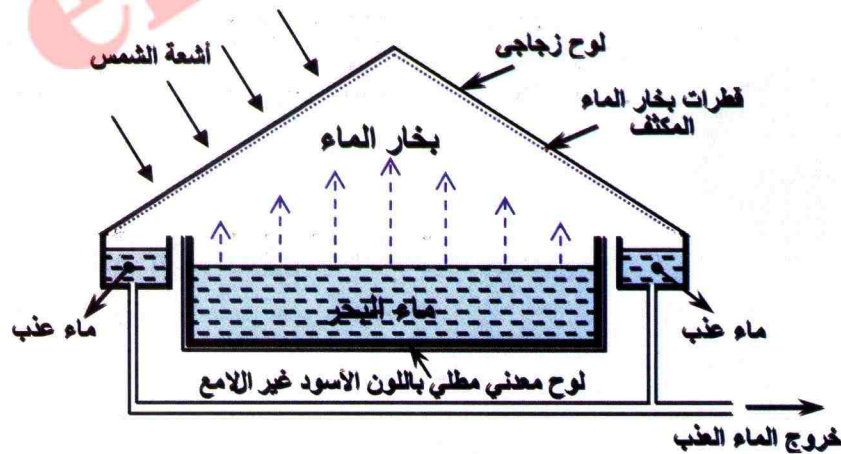
يتكون من صندوق محكم الغلق، توضع فيه المياه المراد تحليتها، يركب فوقه سطح زجاجي مائل سواء في اتجاه واحد أو في اتجاهين.

تقوم حرارة الشمس المحبوسة داخل الصندوق بتبخير المياه حتى تصطدم بالسطح الزجاجي، مما يؤدي إلى تكثيفها، وتنحدر هذه المياه العذبة الناتجة مع السطح المائل، إلى أن تصل إلى المجمعات المثبتة على الأطراف. هذه المياه الخارجة هي مياه صالحة للشرب والاستخدام.

كلما كان السطح الداخلي للصندوق داكناً أكثر تم تجميع كمية حرارة أكبر.

3- اذهب بعيداً

- ابحث عن تقنيات أخرى متبعة في تحلية المياه.



وثيقة 4 نموذج لجهاز تحلية المياه


1- النابغ الضوئية السماوية



مشاهدة الأجرام السماوية بالتلسكوب



الشهب



المذنب



إن النظر في الليل إلى السماء الصافية، يمكّننا من رؤية مجموعة من النقاط المضيئة (المنيرة)، وكل نقطة من هذه النقاط تقريبا، هي نجم. قد نرى بالعين المجردة في السماء ليلا، النجوم البعيدة بل نرى أيضا كواكب نظامنا الشمسي، وأحيانا الشهب والمذنبات.


كل النجوم تنتج الضوء الذي ينبعث منها، فهي منابع ضوئية مثلها مثل الشمس، بينما القمر، مثله مثل الأقمار الأخرى في نظامنا الشمسي، ليس منبعاً ضوئياً، إنه يستمد ضوءه من الشمس، لذلك هو جسم مضاء. ومع ظهور التلسكوبات، عرف علماء الفلك بأن كواكب نظامنا الشمسي ليست منابع ضوئية، بل هي أجسام مضاءة مثل القمر.

كما نشاهد أحيانا في السماء ليلا بعض الظواهر المدهشة والمثيرة للجدل، فمثلا في شهري أوت وسبتمبر غالبا ما يحدث سقوط الشهب، وتخترق الهواء المحيط بالأرض، وبسبب سرعتها تحترق حين تصطدم بالغلاف الجوي للأرض وهي منابع ضوئية.

كما ظهرت في السنوات الأخيرة عدة مذنبات في السماء ليلا، وهي تتكون من صخور وأحجار ومعادن وجليد وغبار، وهي تتفاوت في أحجامها وكتلتها وأشكالها وتركيبها، وتتحرك حول الشمس في مسارات منتشرة وبعيدة إلى حد ما، وتستمر في طوافها عدة عشرات من السنين بل حتى آلاف السنين. وعندما تقترب من الشمس، يذوب الجليد.

ويفقد المذنب الماء والمواد الصلبة المتشكلة، ويتم بذلك توجيه ضوء الشمس منها إلينا، كما أن المواد الأخرى تنير من ضوء الشمس، ولذلك فإن ذيل المذنب هو في نفس الوقت جسم مضاء وجسم مضيء.

السؤال: أبحث لتعرف كيف تتشكل الشهب والمذنبات؟



ظاهرة كسوف الشمس



نظارات خاصة لمشاهدة الكسوف



مشاهدة كسوف الشمس بالنظارات الخاصة

تعتبر ظاهرة كسوف الشمس من الظواهر الطبيعية التي عرفها الإنسان منذ القدم، وتحدث في بداية أو نهاية الشهر القمري، عندما يحجب القمر ضوء الشمس عن الأرض، أي يكون القمر بين الأرض والشمس في وقت الاقتران وعلى خط واحد. ولا يرى هذه الظاهرة كل من تظهر عندهم الشمس. لأن ظل القمر لا يمكنه أن يغطي كل وجه الأرض بسبب حجمه، وقد يكون الكسوف كلياً أو جزئياً أو حلقياً. ولرؤية الكسوف لا بد من توفر شرطين، أولهما هو وجود الشمس فوق الأفق وقت الكسوف، وثانيهما هو أن يكون موقعنا على الأرض مناسباً لرؤية الكسوف. وأثناء الكسوف نرى الشمس وأشعتها، وهي تتلشى في وضوح النهار. ويحل الظلام ينسب متفاوتة على الأرض.

وقد حذر أطباء العيون من النظر مباشرة إلى أشعة الشمس، كونها تبتث أشعة فوق بنفسجية، مؤكدين أن النظارات الشمسية بكافة أنواعها ليست كافية للوقاية من خطورة هذه الأشعة، وذلك لما قد تسببه من حروق بالمركز البصري في شبكية العين، لذا يُنصح بالنظر إلى الكسوف من خلال الكاميرا، وتحديدًا شاشتها، عوضاً من العين المجردة، أو عن طريق نظارات صنعت خصيصاً لإزالة الأشعة المضرة الناجمة عن الكسوف، ولقد تمت رؤية الكسوف والكسوف بالجزائر يوم 04 - 01 - 2011. حين بدأ الكسوف الجزئي على الساعة 7 و43 د وانتهى على الساعة 10 و10 د.

السؤال: أبحث لتحديد تواريخ حدث فيها كسوف للشمس تمت مشاهدته بالجزائر موضحاً في كل تاريخ نوع الكسوف.

أجري التقويم الذاتي

حلول تمارين ميدان الظواهر الضوئية و الفلكية

الظواهر الضوئية

23 - 1 - العين جهاز استقبال الضوء . لأنها تحول

إلى نبضات كهربائية، يتم توجيهها عن طريق الأعصاب إلى المخ، و هناك يحدث الانطباع البصري للمصباح .

2 - تكون الولاة مرئية لأنها مضيئة . ويرد الضوء منها إلى عين المشاهد .

يكون الجسم مرئيا عندما ينثر الضوء، ويرد جزء منه إلى عين المشاهد .

2 - بالنسبة للفيزيائي، تتكون العين من ثلاثة أجزاء رئيسية:

مجموعة البؤبؤ- القرنية، تلعب دور الحجاب الحاجز (فتحة دائرية ذات قطر متغير)؛- البلورية، تلعب دور العدسة .

الشبكية، تلعب دور الشاشة .

24 - يرى الطفل المصباح الأيسر المتوهج، لأنه

ينتج الضوء وينبعث جزء منه ليصل مباشرة إلى عينيه، ولذلك، فإنه يراه كمنبع ضوئي، كما يمكن له أيضا رؤية المصباح الكهربائي الأيمن، لأنه يكون مضاء بالمصباح الأيسر، وينثر الضوء في كل الاتجاهات، وعندئذ يصل جزء منه إلى عين الطفل .

26 - 1 - في حالة المنبع الضوئي النقطي يظهر

الظل فقط، بينما في حالة المنبع الضوئي الواسع لا يمكن أن يظهر الظل بدون ظهور الظليل، وبهذه الكيفية يمكن أن نفرق بين الظل والظليل من الناحية الفيزيائية .

10 - الشمس هي ألمع جُرم في السماء وأكثر سطوعاً من القمر بمقدار 400 ألف مرة، ما يفسر غياب القمر والنجوم في وضح النهار .

11 - إن ظلال الأشجار والموجودات وتفاوت أطوالها مع حركة قرص الشمس على مدار اليوم أوحى إلى الإنسان استغلال هذه الظاهرة في تحديد معيار للوقت، فكان ذلك أول التطبيقات العلمية المباشرة للظل .

12 - يكون للجسم ظل فقط عندما يسלט عليه الضوء بمنبع ضوئي نقطي، ويكون له ظل وظليل عندما يسלט عليه الضوء بمنبع ضوئي واسع (ممتد) وهو الحال في أغلب الأوقات (كالشمس والمصابيح... إلخ) .

16 - لا يمكن أن نرى أشعة الشمس، ولكن في الواقع نرى جزيئات الغبار في هواء الحجره التي تضيئها أشعة الشمس، وبالتالي نرى جزيئات الغبار المضاء مصطفة على شكل مستقيمات .

21 - تجربة بسيطة تسمح برؤية المنبع الضوئي عبر ثقب ثلاثه حواجز، وبالتالي ينبعث منه الضوء للوصول إلى العين . لأن هذه الثقوب على استقامة واحدة للتعبير عن مسار الضوء وفق خط مستقيم، ويقال إن الضوء ينتشر وفق خطوط مستقيمة في وسط متجانس .

2- يُرى الجسم النائر للضوء عندما يكون في منطقة الظليل، لأن جزءاً من الأشعة الضوئية تصل إلى عين المشاهد، بينما لا يُرى عندما يكون في منطقة الظل، لأن الأشعة الضوئية لا تصل إلى عين المشاهد.

الظواهر الفلكية

2- ب - 300000 km/s

3- ج - 500 ثانية ضوئية

4- أ - 30 يوماً

5- دوران الأرض حول نفسها.

6- النجم جسم مضيء كالشمس بينما الكوكب جسم مضاء كالأرض.

10- تختلف زاوية سقوط أشعة الشمس على المكان الواحد من الأرض بين شهر وآخر نتيجة لميل الأرض أثناء دورانها حول الشمس.

12- عندما يكون القطب الشمالي هو الأقرب من الشمس، تشرق الشمس أولاً في نصف الكرة الشمالي ثم على خط الاستواء وأخيراً في نصف الكرة الجنوبي.

16- يكون النهار طويلاً والليل قصيراً في فصل الصيف، بينما في فصل الشتاء يكون النهار قصيراً و الليل طويلاً، لأن ميلان محور دوران الأرض هو الذي يؤثر في وصول إشعاع الشمس إلى الأرض.

20- تحدث ظاهرة كسوف الشمس في بداية أو نهاية الشهر القمري عندما يحجب القمر ضوء الشمس عن الأرض. ويكون الكسوف كلياً عندما يصل ظل القمر إلى سطح الأرض وفي هذه الحالة ينكسف كامل قرص الشمس. ويحدث الكسوف الكلي في مناطق التقاء رأس مخروط ظل القمر بالأرض، ويتخذ الكسوف الكلي مساراً محدداً بسبب حركة الأرض والقمر.

الشمس مصدر الطاقة

7- الجواب الصحيح: الجزء الضئيل من الطاقة الشمسية، هو النافذ إلى الأرض.

8- الألواح الشمسية الحرارية.

9- رقم 1: الانعكاس في الغلاف الجوي

رقم 2: الامتصاص في الغلاف الجوي

رقم 3: الطاقة الشمسية والطقس

رقم 5: الطاقة الشمسية والآلات والمعدات التقنية

رقم 6: تعيد الأرض الطاقة الشمسية النافذة إليها مرة أخرى

16- كان الإنسان قديماً في حاجة إلى استخدام الطاقة الشمسية في حياته اليومية، لذلك تمكن عن طريق مرآة مقعرة، استخدامها لأغراض الطهي، حيث يسقط على سطحها الضوء عمودياً في البؤرة. وبذلك يمكن للطاقة الشمسية أن تكون مركزة في البؤرة وتتحول إلى حرارة.

بطاقة منهجية - 1

بعض المقادير الفيزيائية ووحداتها

إذا كان عامة الناس يستعملون وحدات تسمح لهم بقضاء مصالحهم، فإنّ العلمي مجبر على إيجاد وحدات تمكنه من استعمال الوحدات بصفة متجانسة. والنظام الدولي للوحدات (SI) يجمع الوحدات التي يمكن استعمالها في العلوم، كما يمكن استعمال مجزئاتها أو مضاعفاتها، وذلك حسب الحاجة. إليك البعض منها.

المقدار	رمزه	الوحدة SI	رمزها	وحدات أخرى تستعمل في الحياة اليومية
الطول	l	المتر	m	
الحجم	V	المتر مكعب	m^3	الليتر (L)
الكتلة	m	الكيلوغرام	kg	القنطار (q) والطن (t)
الزمن	t	الثانية	s	الدقيقة (min) والساعة (h)
درجة الحرارة	T أو t	كلفن	K	السلسيوز ($^{\circ}C$)

مضاعفات ومجزئات الوحدات: للتعبير عن المضاعف أو المجرء، تضيف لاسم الوحدة بادئة كما يلي:

البادئة	رمزها	وحدة الطول	وحدة الحجم	وحدة الكتلة
كيلو	k	كيلومتر (km)	متر مكعب (m^3)	كيلوغرام (kg)
هكتو	h	هكتومتر (hm)	هكتولتر (hL)	هكتوغرام (hg)
ديكا	da	ديكامتر (dam)	ديكالتر (daL)	
		متر (m)	ديسيمتر مكعب (dm^3)	غرام (g)
دسي	d	ديسيمتر (dm)	ديسيلتر (dL)	ديسيغرام (dg)
سنت	c	سنتيمتر (cm)	سنتلتر (cL)	سنتغرام (cg)
ميلي	m	ملييمتر (mm)	سنتيمتر مكعب (cm^3)	ميليغرام (mg)

ملاحظة: الوحدات الملونة خاناتها هي الوحدات المستعملة في النظام الدولي للوحدات (أو الجملة الدونية للوحدات)

$$1 \text{ kg} = 10 \text{ hg} = 100 \text{ dag} = 1000 \text{ g}$$

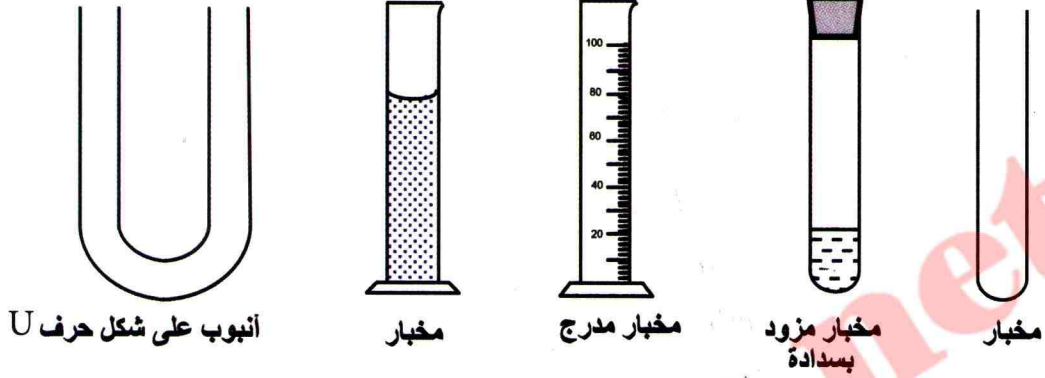
$$1 \text{ m} = 10 \text{ dm} = 100 \text{ cm} = 1000 \text{ mm}$$

بعض الأمثلة:

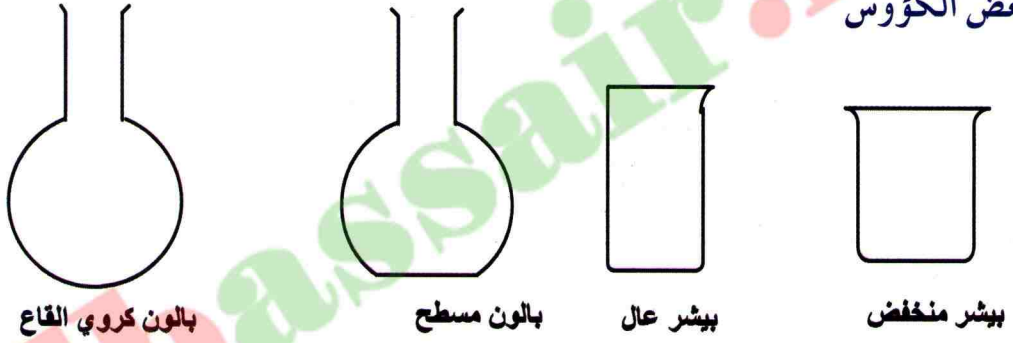
بعض الزجاجيات المستعملة في الكيمياء

كثيرا ما نلجأ في علم المادة وتحولاتها (المسمى بالكيمياء) إلى التجارب للتحقق من خاصية أو لاكتشاف خاصية أخرى، ومن الوسائل المستعملة في التجارب، الزجاجيات، إليك البعض منها:

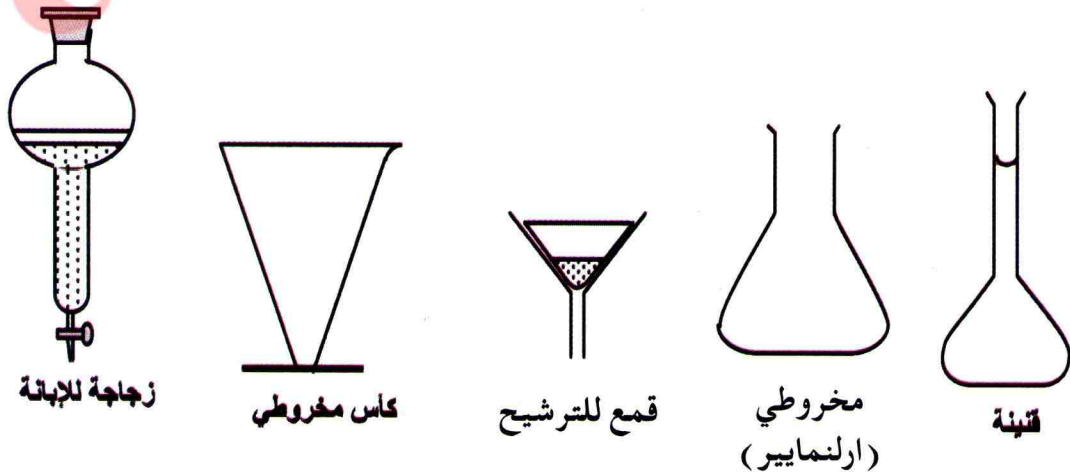
1- الأنابيب



2- بعض الكؤوس

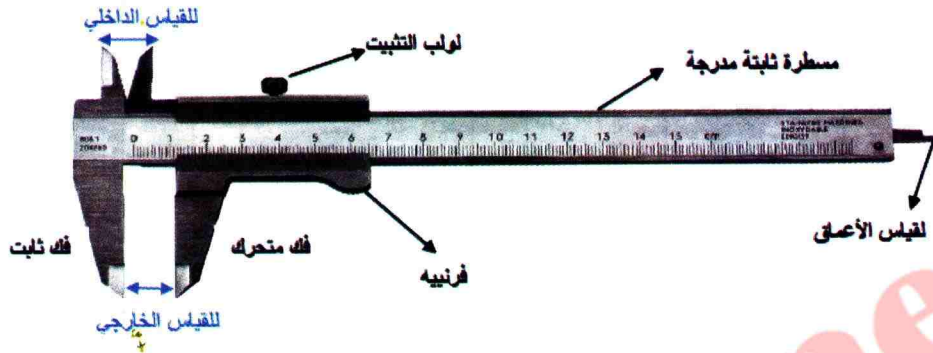


3- بعض الأواني





القدم القنوية

تختلف أدوات القياس لاختلاف المقدار المراد قياسه والطريقة المتبعة لذلك . فبالنسبة لقياس الأطوال، يمكن استعمال المسطرة، أو الديكامتر أو أجهزة حديثة تعتمد على البصريات . توجد أداة للقياس، دقيقة وتصلح لقياس الأعماق والأسماك الصغيرة وهي القدم القنوية .



كيفية استعمالها: مثلما يظهر في أعلى الفرنييه، تسمح هذه الأداة بقياس الطول بدقة $0,02 \text{ mm}$ (وهذا يعني أن كل تدريجة صغيرة للفرنييه تمثل $0,02 \text{ mm}$).



نضع بين فكي القدم القنوية، الجسم الذي نريد قياس طولهِ ونثبته بواسطة اللولب، فنحصل على (الصورة):

يلاحظ أنّ عدد المليمترات في المسطرة والواقعة قبل صفر الفرنييه (في هذه الحالة 19)، ثم نعين التطابق بين تدريجة المسطرة وتدرجة الفرنييه (هنا 8) فتكون القراءة:

$$L = 19 \text{ mm} + 0,8 \text{ mm} \\ = 19,8 \text{ mm}$$

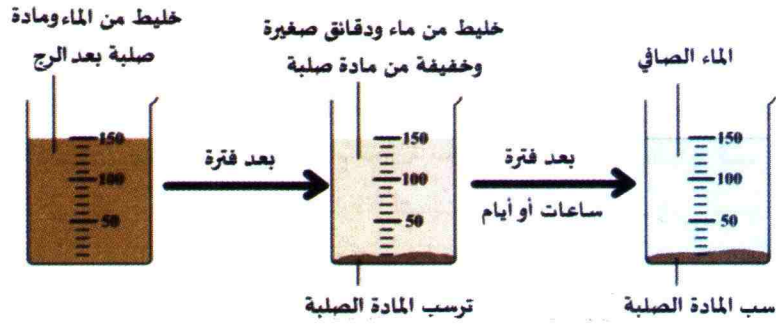


حالة ثانية: في هذه الحالة، نلاحظ على المسطرة 36 mm ونقرأ العدد 8 على الفرنييه مع حدوث التطابق في التدرجة 3 من الفرنييه، وعليه تكون النتيجة:

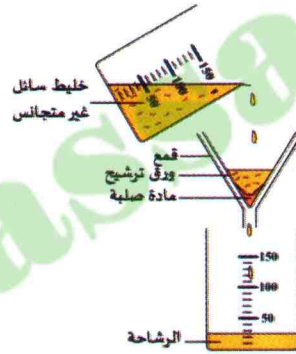
$$L = 36 \text{ mm} + 0,8 \text{ mm} + (3 \times 0,02) \text{ mm} \\ L = 36,86 \text{ mm}$$

ملاحظة: نجد قدما قنوية رقمية تعطي مباشرة القيمة المقاسة .

بعض التقنيات لمعالجة الماء



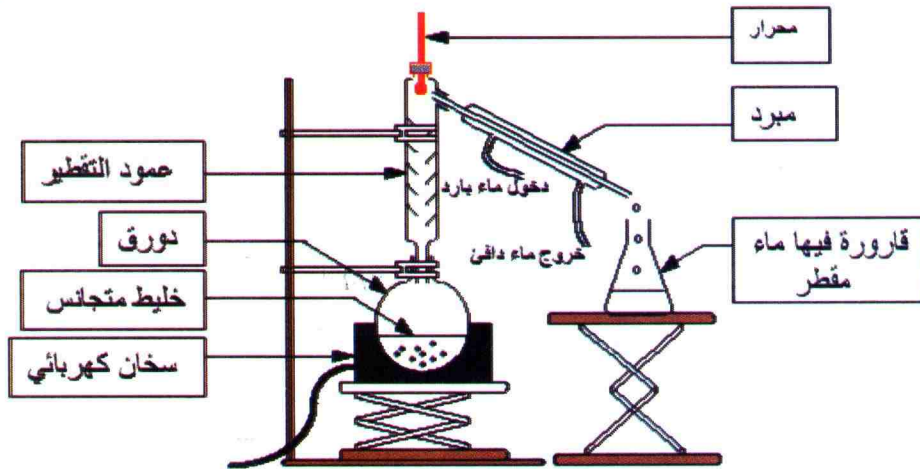
نستعمل الإبانة لفصل السوائل التي تشكل خليط غير متجانس مثل الماء والزيت.



نستعمل الترشيح لفصل المادة الصلبة عن الماء في خليط غير متجانس.

التقطير

بجهاز التقطير نحصل على ماء نقي (مقطر) ابتداءً من خليط متجانس (ماء ملح مثلاً).




الأمّن الكهربائي

1 - أخطار التيار الكهربائي

- يمكن تصنيف أخطار التيار الكهربائي المنزلي إلى صنفين :
- الخطر على الإنسان، لأن جسمه ناقل للتيار الكهربائي، ولهذا فهو معرض لكثير من الحوادث (حسب الحالة الكهربائية و حالة الجسم مبلل أو جاف) قد تؤدي إلى الحروق أو الصعق الكهربائي. كما تسبب الدارة القصيرة لاندلاع حريق في المنزل.
 - الخطر على الأجهزة الكهربائية عند تشغيلها بشكل غير مناسب، بغير ما هو مسجل عليها.
- عندما تفوق قيمة التوتر الكهربائي $24V$ ينتج عن ذلك تيار كهربائي يجعل عضلات الجسم في حالة تقلص شديد، فلا يستطيع الإنسان في هذه الحالة أن يخلص نفسه.

$220V \leftarrow 24V$	$24V$	$24V \leftarrow 0$
<ul style="list-style-type: none"> - تقلص كزازي وتشنج العضلات - حروق وآلام - توقف التنفس وخفقان القلب 	حدود الخطورة	لا تأثير للكهرباء على الإنسان



2 - الوقاية من أخطار التيار الكهربائي

- لتفادي الأخطار الناجمة عن التيار الكهربائي المنزلي يجب :
- وصل الهياكل المعدنية للأجهزة الكهربائية بمآخذ تتوفر على مبربط أرضي.
 - استعمال القاطع واستعمال المنصهرة.
 - تجنب بعض الأخطاء المسببة للصعق الكهربائي وهي :
 - عدم مسك سلك ليس له الطبقة البلاستيكية الواقية.
 - عدم محاولة إصلاح الأجهزة قبل قطع التيار.
 - تركيب أغطية على المآخذ الكهربائية لحماية الأطفال. وتجنب استعمال الأجهزة الكهربائية في الأماكن التي يكون فيها الجسم مبللاً بالماء.

English	Français	عربي
Measure	Mesure	قياس
Physical quantity	Grandeur physique	مقدار فيزيائي
Length	Longueur	طول
Volume	Volume	حجم
Mass	Masse	كتلة
Volumic mass	Masse volumique	كتلة حجمية
Density	Densité	كثافة
Temperature	Température	درجة الحرارة
Solid	Solide	صلب
Liquid	Liquide	سائل
Gas	Gaz	غاز
State of matter	Etat de la matière	حالة المادة
Microscopic interpretation	Interprétation microscopique.	التفسير المجهرى
Corpuscular model	Modèle corpusculaire	نموذج حبيبي
Melting	Fusion	انصهار
Evaporation	Evaporation	تبخر
Congelation	Congélation	تجمد
Condensation	Condensation	تكاثف
Sublimation	Sublimation	تسامي
Pression	Pression	ضغط
Mixing , mixture	Mélange	خليط
homogeneous	Homogène	متجانس
Heterogenic	Hétérogène	غير متجانس
Filtration	Filtration	ترشيح
Distillation	Distillation	تقطير
Purity	Pureté	نقاوة
Aqueus solution	Solution aqueuse	محلول مائي
Solvent	Solvant	محل- مذيب
Solution	Soluté	منحل- مذاب
Concentration	Concentration	تركيز
Decantation	Décantation	تركيذ-إبانة

English	Français	عربي
electric circuit	Circuit électrique	دائرة كهربائية
Generator	Générateur	مولد
lamp	Lampe	مصباح
LED	LED ou DEL	صمام ضوئي
Motor	Moteur	محرك
Switch	Interrupteur	قاطع
closed circuit	Circuit fermé	دائرة مغلقة
open circuit	Circuit ouvert	دائرة مفتوحة
Pole	Pole	قطب
Simple circuit	Circuit simple	دائرة بسيطة
Indication	Indication	دلالة
Circulatory model	Modèle circulatoire	نموذج دوراني
Standard symbol	Symbole normalisé	رمز نظامي
Conductor	Conducteur	ناقل
Insulator	Isolant	عازل
Incandescent	Incandescence	توهج
Electric circuit connection	Montage d'un circuit électrique	تركيب دائرة كهربائية
Circuit plan	Schémas d'un circuit	مخطط دائرة
Connection in series	Montage en série	ربط على تسلسل
Connection in parallel	Montage en parallèle	ربط على تفرع
Mixed mounting	Montage mixte	ربط مختلط
Two way switch	Va et vient	ذهاب-إياب
Short-circuit	Court-circuit	دائرة مستقصرة
fuse	Fusible	منصهرة
Light source	Source lumineuse	منبع ضوئي
Luminous body	Corps lumineux	جسم مضيء
Enlightened body	Corps illuminé	جسم مضاء
Transparent medium	Milieu transparent	وسط شفاف
translucent medium	Milieu translucide	وسط شاف
opaque medium	Milieu opaque	وسط عاتم
Rectilinear propagation of light	Propagation rectiligne de la lumière	انتشار مستقيم للضوء
Luminous ray	Rayon lumineux	شعاع ضوئي
light beam	Faisceau lumineux	حزمة ضوئية
shadow	Ombre	ظل
twilight	Pénombre	ظليل
Solar system	Système solaire	مجموعة شمسية
Star	Etoile	نجم
Planet	Planète	كوكب
Light-year	Année-lumière	سنة ضوئية
Lunar-eclipse, solar-eclipse	Eclipse lunaire, solaire	خسوف-كسوف

موقع عيون البصائر التعليمي

elbassair.net



9 789931 008934 01 17 05 /16
ردمك : 978-9931-00-893-4
© موقع للنشر - السداسي 1، الجزائر 2017

MS : 708
سعر البيع
259,76 دج



2018 - 2017

الجمهورية الجزائرية الديمقراطية الشعبية



elbassair.net

موقع عيون البصائر التعليمي

Elbassair.net

الفيسبوك

عيون البصائر التعليمية

<https://www.facebook.com/bassair/>

elbassair.net

elbassair13@gmail.com

قليل من العلم مع العمل به أنفع من كثير من العلم مع قلة العمل به